

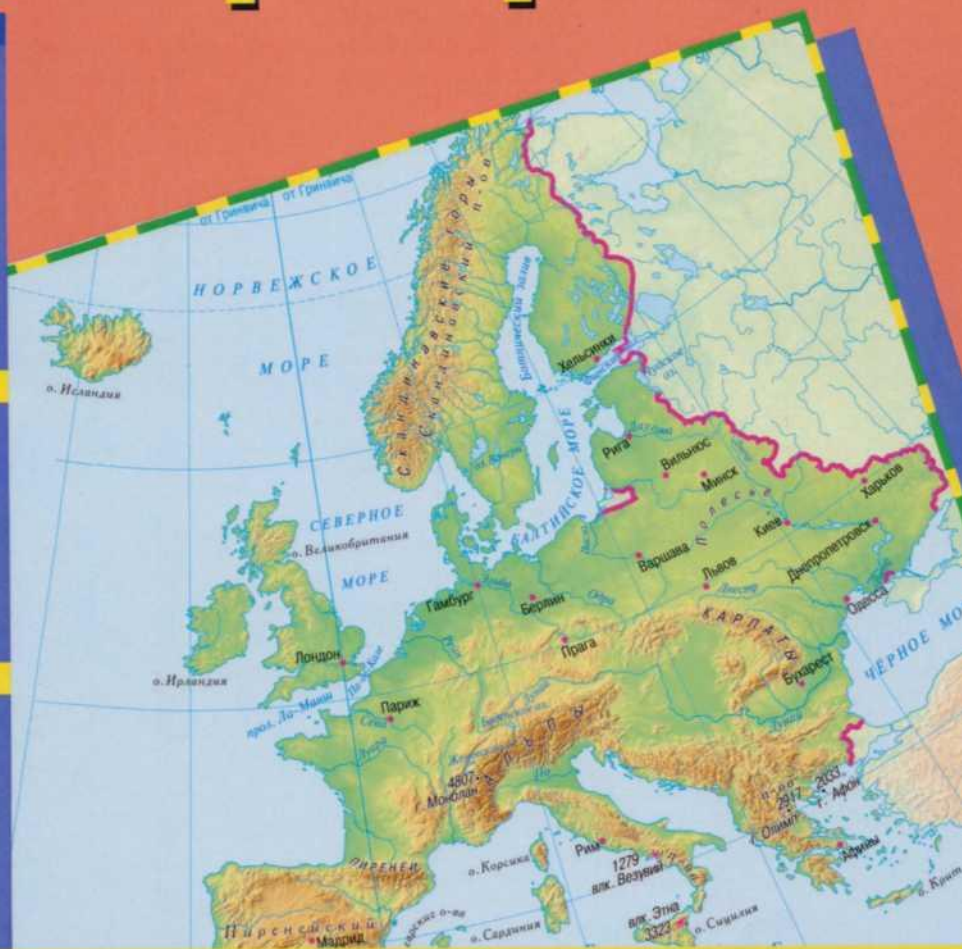



ФГОС
ОБЗ

Т. М. Лифанова



География



Рабочая тетрадь

Blank writing area with four horizontal lines.

9

Т. М. Лифанова

География

Рабочая тетрадь



КЛАСС

Учебное пособие для общеобразовательных организаций,
реализующих адаптированные основные
общеобразовательные программы

5-е издание

БИБЛИОТЕКА
КГБОУ
«Красноярская школа №5»

Москва
«Просвещение»
2019

Рецензент
канд. пед. наук, доцент,
профессор кафедры олигофренопедагогики
и специальной психологии
ФГБОУ ВО «МПГУ» Е. Н. Соломина



Рабочая тетрадь предназначена для обучающихся с интеллектуальными нарушениями и обеспечивает реализацию требований адаптированной основной общеобразовательной программы в предметной области «Естествознание».

Содержание рабочей тетради соответствует разделам учебника по географии для 9 класса и включает систему заданий для самостоятельной работы учащихся. Сочетание различных заданий (вопросы, ребусы, кроссворды, загадки, выполнение зарисовок, составление рассказов по картинкам и т. п.) обусловлено индивидуальным подходом к обучению детей с нарушением интеллекта и способствует более глубокому и прочному усвоению учащимися географического материала, развитию их устной и письменной речи. Тетрадь может быть использована как на уроке для выполнения заданий под руководством учителя, так и во внеурочное время.

Рабочая тетрадь входит в состав учебно-методического комплекта по географии для 9 класса.

ПОЛИТИЧЕСКАЯ КАРТА ЕВРАЗИИ

1. Ответь на вопросы.

Сколько материков на земном шаре? Запиши их названия.

Какой самый большой материк планеты? _____

Из каких двух частей он состоит? _____

В какой части света ты живёшь? _____

Какое крупное государство Евразии расположено в двух частях света? _____

2. Выпиши из статьи учебника государства, которые условно относятся к регионам:

ЗАПАДНАЯ ЕВРОПА

СЕВЕРНАЯ ЕВРОПА

ЮЖНАЯ ЕВРОПА

ВОСТОЧНАЯ ЕВРОПА

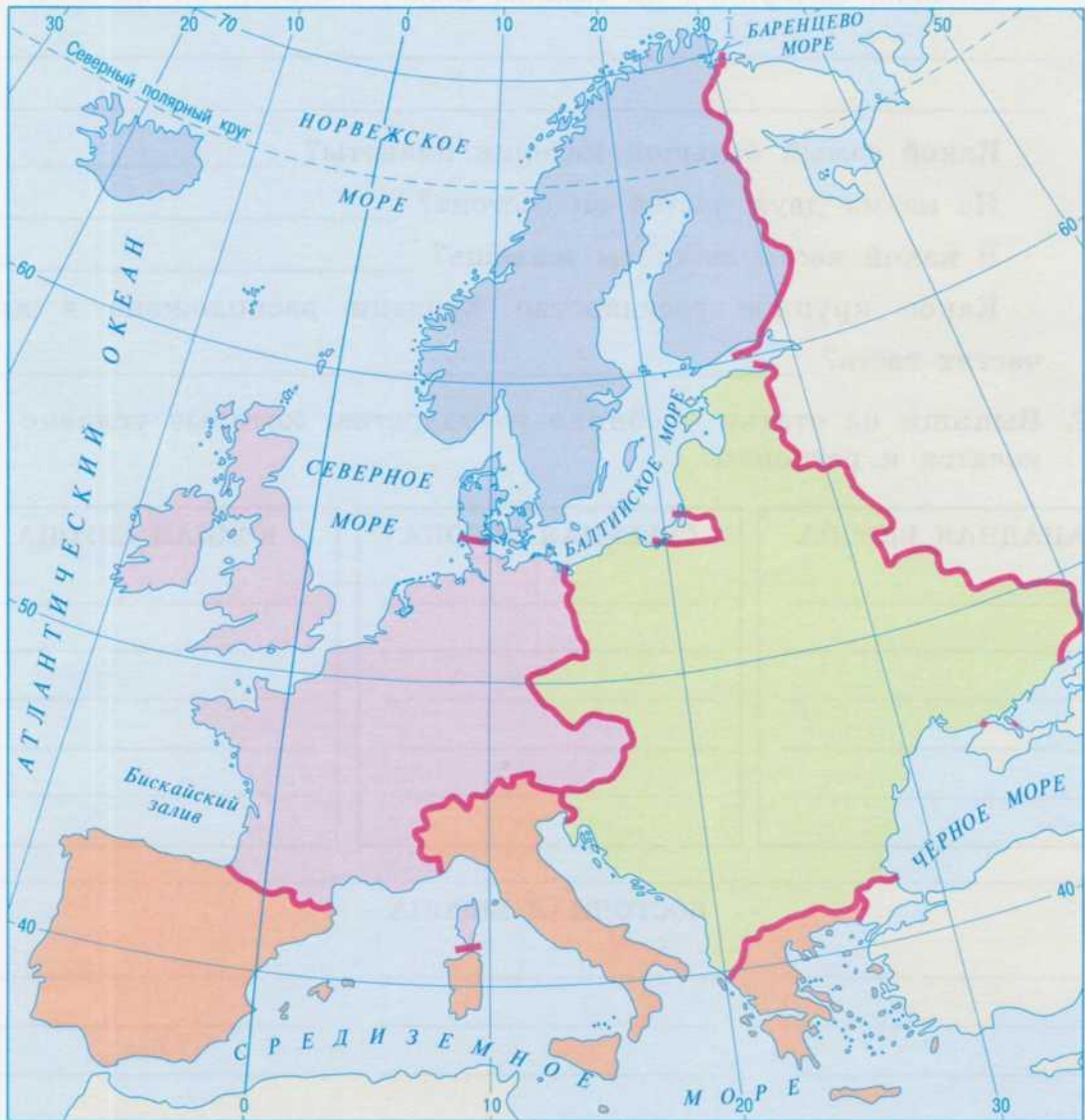
Проверь, все ли государства ты написал с заглавной буквы.



3. Подпиши на карте географические регионы Европы:

Западная, Южная, Северная, Восточная.

Проверь, правильно ли написаны эти слова.



4. Отметь на карте Западной Европы изучаемые государства.



ЕВРОПА

ЗАПАДНАЯ ЕВРОПА

ВЕЛИКОБРИТАНИЯ

1. Используя статью учебника, ответь на вопрос.

Каково полное название Великобритании? _____

2. Зачеркни лишнее слово.

В состав Великобритании входят: Англия, Шотландия, Бельгия, Уэльс и Северная Ирландия.

3. По национальностям запиши названия частей Великобритании:

Шотландцы	→	Шотландия
Уэльсцы	→	_____
Ирландцы	→	_____
Англичане	→	_____

4. Прочитай на циферблате буквы по часовой стрелке и узнай, достопримечательностью какой страны являются часы Биг-Бен.



Подпиши государство и его столицу на карте Западной Европы (с. 5).




5. Впиши в клеточки название пролива между Великобританией и Европой. Найди его на карте Западной Европы (с. 5).

		-				
--	--	---	--	--	--	--

6. Англию в некоторых художественных произведениях называют «Туманный Альбион». Найди в тексте статьи учебника предложения, доказывающие правильность этого названия.

7. Разгадай ребусы.



Составь предложения с этими словами.

8. Впиши названия водоёмов.

- 1) Океан, омывающий Британские острова.

--	--	--	--	--	--	--	--	--	--	--	--	--	--	--

- 2) Море с «холодным» названием.

--	--	--	--	--	--	--	--

- 3) Одна из крупнейших рек Великобритании.

--	--	--	--	--	--

9. Ответь на вопросы.

Какова традиционная погода на Британских островах?

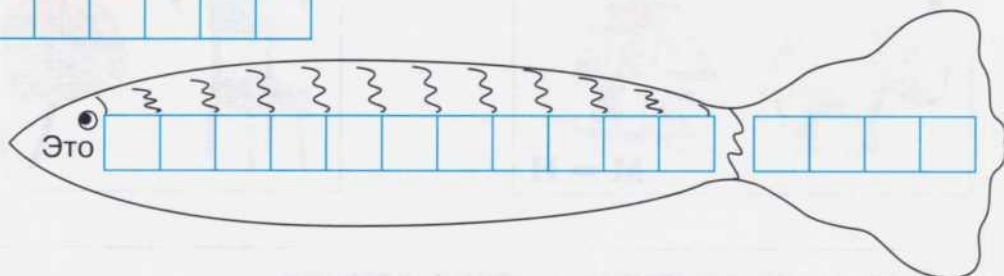
Какой государственный язык Великобритании? _____

Какие виды лесов расположены на севере страны?

10. Заполни свободные клетки. Отгадай обобщающее слово.

В морях Атлантического океана водятся

Т						
Т						
П						
О						
С						
К						



11. Закончи предложения.

У побережья Великобритании в Северном море находятся месторождения _____

Ведущие отрасли промышленности: _____

12. Подбери обобщающее слово. Запомни, как оно пишется. Поставь в нём ударение.

Вестминстерское аббатство

Биг-Бен Букингемский дворец

о		о		и		е		е		о			
---	--	---	--	---	--	---	--	---	--	---	--	--	--

Л о н д о н а

Виндзорский замок

13. Реши кроссворд.

1. Столица Великобритании.
2. Деловой центр Лондона.
3. Море, омывающее Британские острова на востоке.
4. Крупная река Великобритании.
5. Центр «Чёрной страны».
6. Английский драматург, автор «Ромео и Джульетты».
7. Крепость в Лондоне.
8. Имя английской королевы.
9. Английский учёный.





Дата _____

ФРАНЦИЯ (ФРАНЦУЗСКАЯ РЕСПУБЛИКА)

1. Пользуясь политической картой, подчеркни государства, граничащие с Францией.

Испания, Португалия, Польша, Германия, Россия, Бельгия, Италия, Люксембург, Швейцария, Австрия.

2. На карте Западной Европы (с. 5) подпиши столицу, города, названия рек Франции.

3. Ответь на вопросы.

Какими морями омывается Франция? _____

Как называется залив на западе Франции? _____

Какой климат в разных частях Франции? _____



4. Пользуясь статьёй учебника, устно докажи, что во Франции хорошо развито сельское хозяйство.

5. Дополни предложения.


Франция богата полезными ископаемыми: _____

Страна производит много _____

Заводы выпускают _____

Франция славится своими _____

6. Разгадай ребус и загадку.



Здесь лучшая в мире
Кухня и мода,
Здесь сказки Перро
Писал для народа.

7. Допиши рассказ. Придумай название.

Самый большой город Франции — _____.

На берегу Сены возвышается символ страны — _____.

Самый знаменитый проспект Парижа — _____. Здесь
расположены самые дорогие гостиницы, магазины, редакции га-
зет, офисы крупных компаний, _____ арка. Одним из

красивейших соборов является _____. Древнейший центр Парижа — остров _____ по форме напоминает корабль, поэтому на гербе Парижа изображён парусник. Один из богатейших музеев изобразительного искусства и скульптуры в мире носит название _____.

Слова для справок: Эйфелева башня, Париж, Елисейские Поля, Сите, Триумфальная, Лувр, собор Парижской Богоматери.

8. Реши кроссворд.

1. Название знаменитой башни Парижа.

2. Государственный язык Франции.

3. Снежные горы Франции.

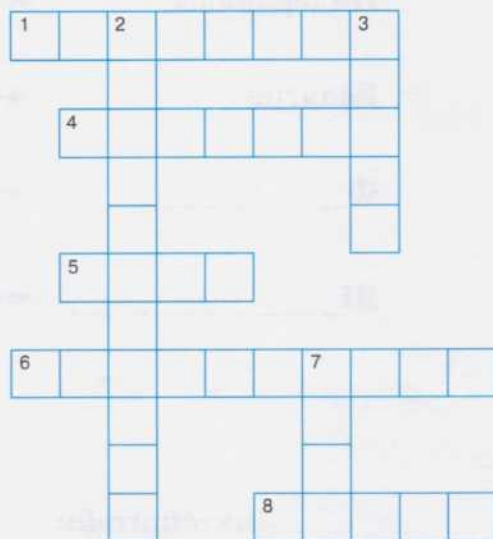
4. Крупнейший порт Франции.

5. Знаменитый художественный музей.


6. Залив, омывающий французские берега.

7. Река, протекающая через столицу Франции.

8. Столица Франции.

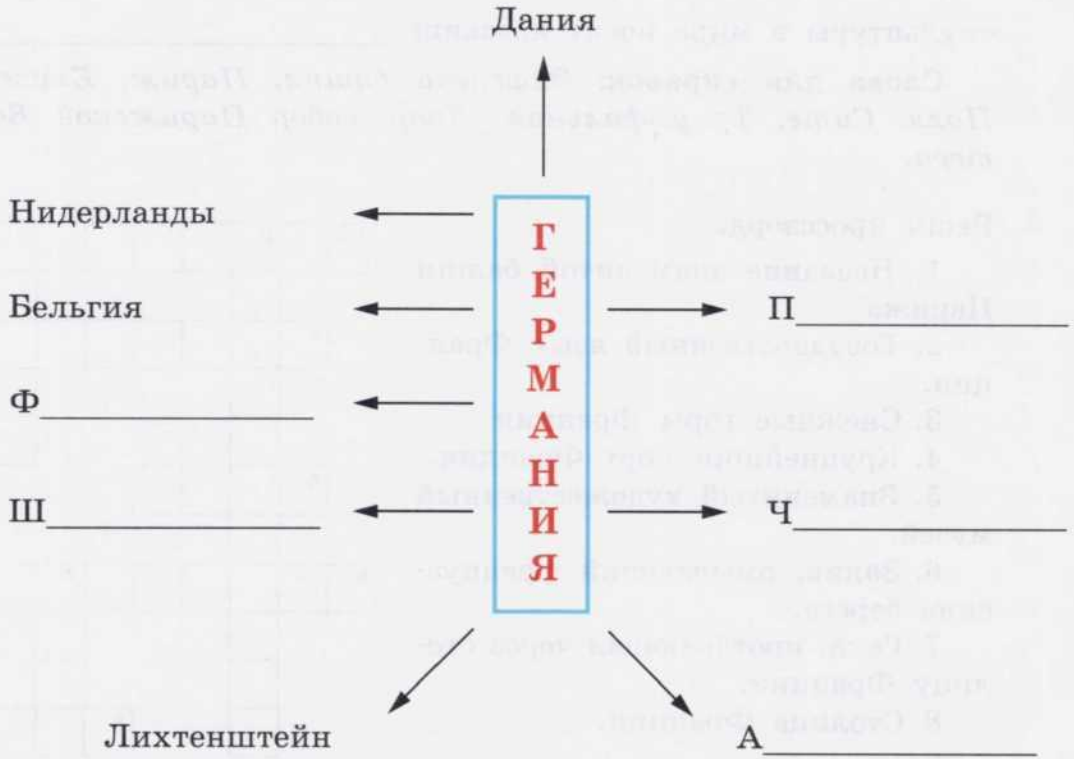


9. Шарль Перро — известный французский сказочник. Вспомни и напиши названия сказок этого писателя.



ГЕРМАНИЯ (ФЕДЕРАТИВНАЯ РЕСПУБЛИКА ГЕРМАНИЯ)

1. Заполни схему, вписав государства, граничащие с Германией.



2. На карте Западной Европы (с. 5) подпиши название столицы Германии; реки, протекающие по территории страны; моря, омывающие государство.

3. Используя статью учебника, докажи, что Германия — высоко-развитое государство.



4. Запиши обобщающие слова.

Нефть, газ, уголь, руда — _____

Пшеница, рожь, овёс, ячмень — _____

Мерседес, фольксваген, БМВ — _____

Рейн, Эльба, Дунай — _____

Берлин, Гамбург, Мюнхен, Лейпциг — _____

Кёльн, Франкфурт-на-Майне — _____

5. Реши кроссворд.

1. Второй по величине город Германии. 2. Католический праздник, который отмечают в Европе с 24 на 25 декабря. 3. Река в Германии. 4. Город на юге Германии. На гербе этого города нарисован монах. 5. Горы на юге Германии. 6. Столица Германии. 7. Мясное блюдо, которое любят жители Германии. 8. В Берлине множество музеев: Картинная ..., Национальная



6. Прочитай названия марок автомобилей. Какие из этих машин выпускаются в Германии? Подчеркни их названия.



7. Прочитай и ответь на вопросы. Найти правильные ответы тебе помогут карта и слова для справок. Ответы впиши в квадраты.

1) Величайший немецкий композитор.

2) Эта река для немцев, как Волга для русских. Протекает она на западе Германии.

3) Этот город находится на юге Германии. Его основали монахи, на его гербе также изображён монах, да и название города созвучно немецкому слову «монх» — монах. Как называется этот город?

4) Южный торговый город. Он славится своими ярмарками по продаже мехов, книг, оборудования. Как называется этот город?

5) А в этот город отправили героев своей сказки немецкие сказочники братья Гримм. Это северный портовый город, и на ярмарках там можно было заработать бродячим музыкантам.

6) Немецкий писатель Гауф написал сказки «Карлик » и «Маленький », а немецкий учёный и литератор Распе рассказал о приключениях барона М Г .

Слова для справок: *Лейпциг, Рейн, Бетховен, Мюнхен, Бремен, Нос, Мук, Мюнхгаузен.*

Дата _____

АВСТРИЯ (АВСТРИЙСКАЯ РЕСПУБЛИКА)

1. Разгадай ребусы.



2. Отметь на карте Западной Европы (с. 5) столицу и крупные города Австрии.

3. Ответь устно на вопросы.

Почему Австрию называют горной страной?

Как горы влияют на климат, растительный и животный мир, на занятия населения Австрии?

4. Дополни предложения.

Австрия богата полезными ископаемыми: _____, _____, _____. По территории республики протекает много рек, большинство из них _____. На этих реках построены _____. Самая большая река страны — _____. На берегу расположена столица Австрии — город _____.

5. Соедини стрелкой вопрос и правильный ответ.

Эти горы занимают большую часть территории Австрии.

Дунай

Самая большая река Австрийской республики.

Восточные Альпы

В столице этого государства много музеев, в том числе музеи композиторов Моцарта, Бетховена, Шуберта.

Вальс

Танец, зародившийся в Австрии.

Вена

Известный центр горнолыжного спорта. В этом городе дважды проводились зимние Олимпийские игры.

Штраус

Композитор, король вальсов.

Инсбрук

Дата _____

ШВЕЙЦАРИЯ (ШВЕЙЦАРСКАЯ КОНФЕДЕРАЦИЯ)

1. Отметь на карте Западной Европы (с. 5) столицу Швейцарии. Скажи, какие цветные карандаши нужно взять, чтобы закрасить рельеф этой страны.



2. Составь устно предложения со словами:
вечные снега, ледники, обвалы, снежные лавины;
животноводство, коровы, молоко, сыр, масло.

3. Подчеркни отрасли промышленности, которые развиты в Швейцарии. Зачеркни ненужные.


Судостроение, часовая промышленность, добыча угля, транспортная промышленность, туризм, электротехническая промышленность, лекарственная промышленность, оленеводство.

4. Заполни клеточки.

Швейцарск



б



с



ш

Швейцарск



а



ч



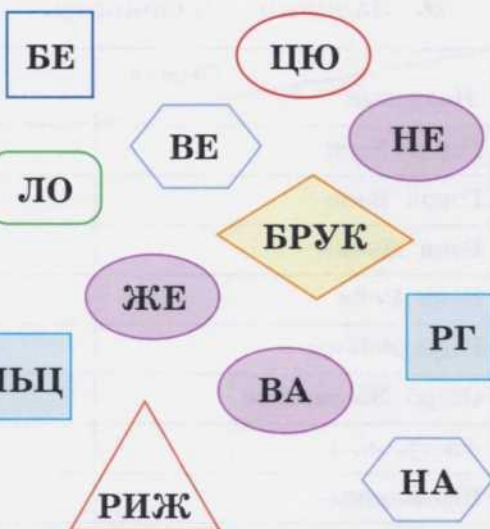
л

5. Прочитай текст. Найди и зачеркни ошибки. Напиши правильный ответ.

В швейцарских Альпах берёт начало река Темза (_____). Швейцария — страна не только гор, но и озёр. Самые крупные из них — Боденское, Женевское и Онежское. Швейцария — одна из самых красивых стран мира. Высокие горы со снежными вершинами чередуются с холмистыми равнинами, на которых лежат прозрачные озёра и моря. Климат Швейцарии тропический (_____). На плоскогорье зима мягкая, а лето тёплое.

6. Составь из частей названия городов Австрии и Швейцарии. Заполни таблицу.

Города Австрии	Города Швейцарии



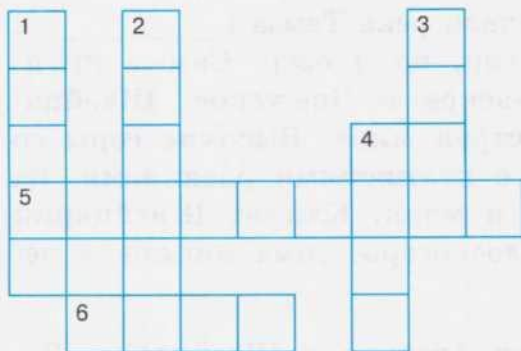
Какой город не занесён в таблицу? _____ Почему?

7. Как называется порода этой собаки? Почему ей поставлен памятник в Швейцарии?



БИБЛИОТЕКА
КГБОУ
"Красноярская школа №5"

8. Реши кроссворд.



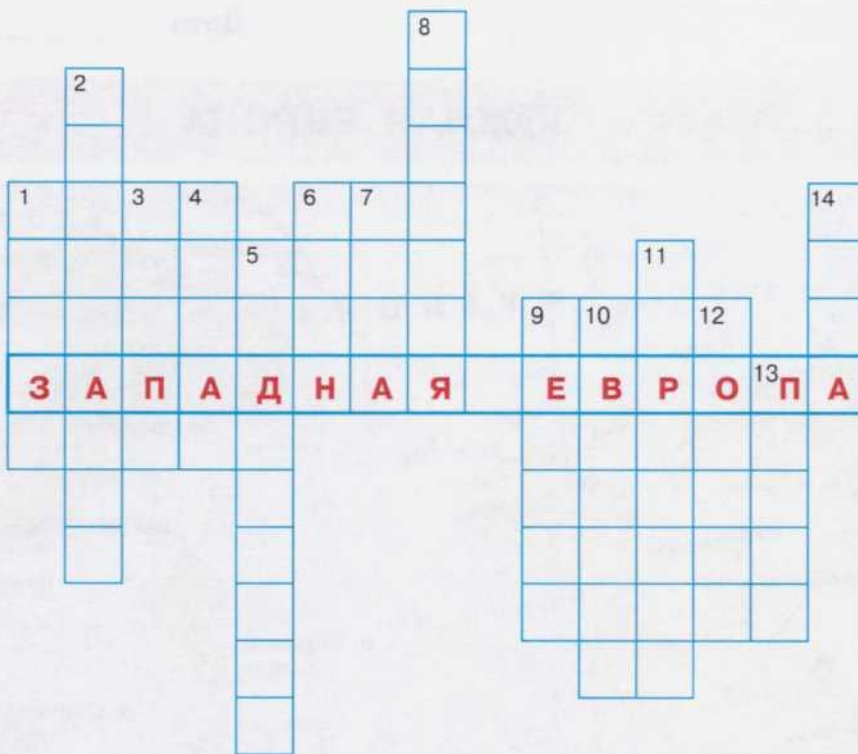
1. Горная система в Швейцарии.
2. Самый знаменитый город Швейцарии.
3. Река, берущая начало в швейцарских Альпах.
4. Столица Швейцарии.
5. Глава государства.
6. Прибор для измерения времени.

9. Заполни перфокарту.

Название \ Страна	Австрия	Швейцария
Город Берн		
Город Вена		
Река Дунай		
Река Рейн		
Горы Альпы		
Озеро Женевское		
Австрийцы		
Швейцарцы		


10. Реши обобщающий кроссворд «Государства Западной Европы».

1. Река в Великобритании.
2. Небольшая альпийская страна.
3. Горы в Западной Европе.
4. Река, протекающая по территории Германии, Австрии и других стран.
5. Крупное озеро, расположенное в Австрии, Германии и Швейцарии.
6. Город — мировой финансовый центр, столица одного из самых богатых государств.
7. Старинный город на берегу Дуная, столица европейского государства.
8. Государство, символом которого является Эйфелева башня.
9. Город, в котором находится Рейхстаг, Бранденбургские ворота, установлен памятник воину-освободителю с девочкой на руках.
10. Большую часть этой страны занимают горы Альпы.
11. Ведущая индустриальная страна Западной Европы, в которой выпускаются фольксвагены, мерседесы,

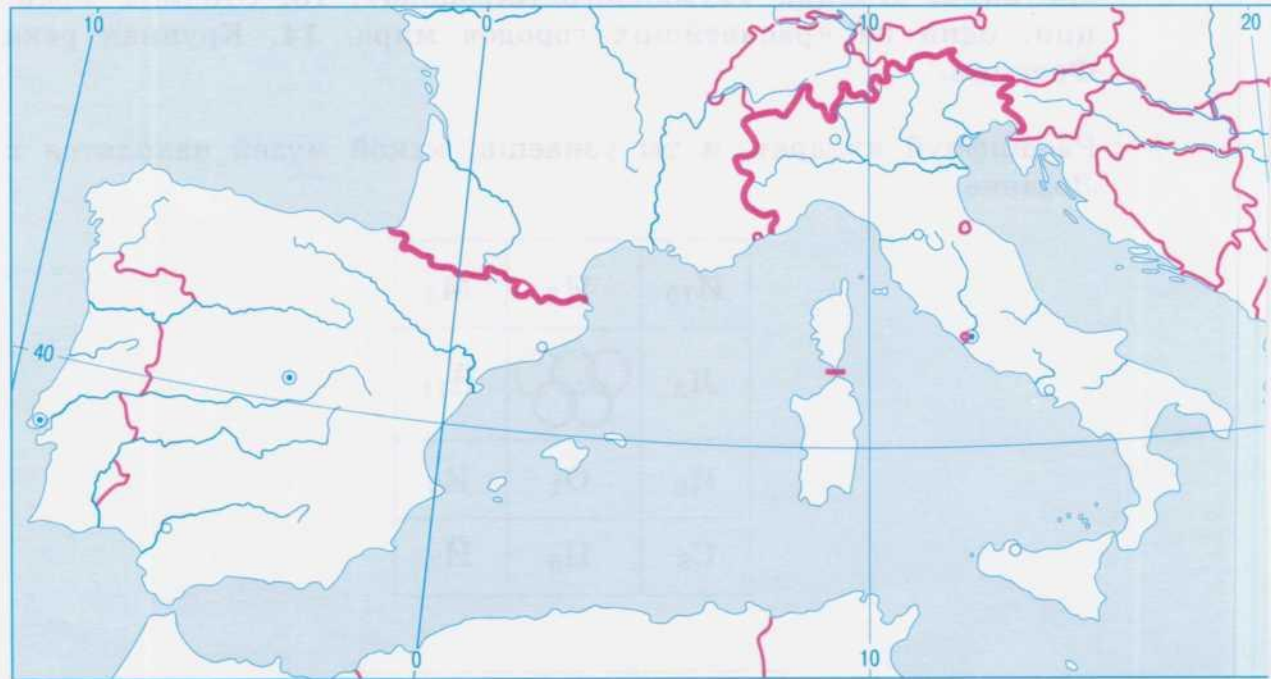


BMW и другие автомашины. 12. Самый крупный город Великобритании, столица «Туманного Альбиона». 13. Столица Франции, один из красивейших городов мира. 14. Крупная река Франции.

11. Расшифруй квадрат, и ты узнаешь, какой музей находится в Лозанне.

И ₁₀	И ₃	М ₄
Л ₂		Й ₁₁
И ₆	О ₁	К ₉
С ₈	П ₅	Й ₇

ЮЖНАЯ ЕВРОПА



Южная Европа



1. На контурной карте Южной Европы подпиши Средиземное море и полуострова: Пиренейский, Апеннинский и Балканский.
2. Раскрась разными «тёплыми» цветами крупные государства Южной Европы: Испанию, Португалию, Италию и Грецию.
3. Соедини стрелками названия государств и их столиц.

Государство	Столица
Испания	Афины
Португалия	Мадрид
Италия	Лиссабон
Греция	Рим



ИСПАНИЯ (КОРОЛЕВСТВО ИСПАНИЯ)

1. Используя карту в атласе и учебнике (с. 34—35), дополни предложения.

Испания расположена на _____ полуострове. На севере она граничит с _____, а на западе — с _____. Столица Испании — город _____.

Поверхность страны _____. От Франции Испанию отделяют горы _____. Вся Испания расположена на плоскогорье.

На севере Испанию омывают воды _____ залива, на юге и юго-востоке — _____ моря. От Африки Испанию отделяет _____ пролив.

2. Испанцы, живущие в центре страны, говорят о климате своей страны: «У нас три месяца хлада и девять месяцев ада». Используя схему, докажи правоту этого высказывания.

Климат Центральной Испании



3. Реши географическую задачу, используя политическую карту в учебнике (с. 34—35).

Путешественники отправились в путь на двух яхтах от северных берегов Испании вдоль побережья Европы. Конечный пункт путешествия — столица Финляндии город Хельсинки. Капитан первой яхты отмечал в судовом журнале водные географические объекты, капитан второй яхты — государства, вдоль побережий которых лежал их путь.

Заполни страницы судовых журналов за капитанов.



4. Почему Испанию называют аграрно-индустриальной страной? Заполни таблицу.

В Испании выращивают	В Испании производят

5. Выпиши из словаря значения слов.

Коррида — _____

Сиеста — _____

Придумай устно предложения с этими словами.

6. Заполни перфокарту.

Вопрос \ Ответ	Барселона	Прадо	Мадрид	Антонио Гауди	Фламенко
Столица Испании					
Город, в котором стоит памятник Колумбу					

Вопрос \ Ответ	Барселона	Прадо	Мадрид	Антонио Гауди	Фламенко
Национальный художественный музей					
Архитектор собора Святого Семейства					
Национальный испанский танец					

7. Составь устный рассказ о Барселоне по плану.

1) Город на восточном побережье страны.

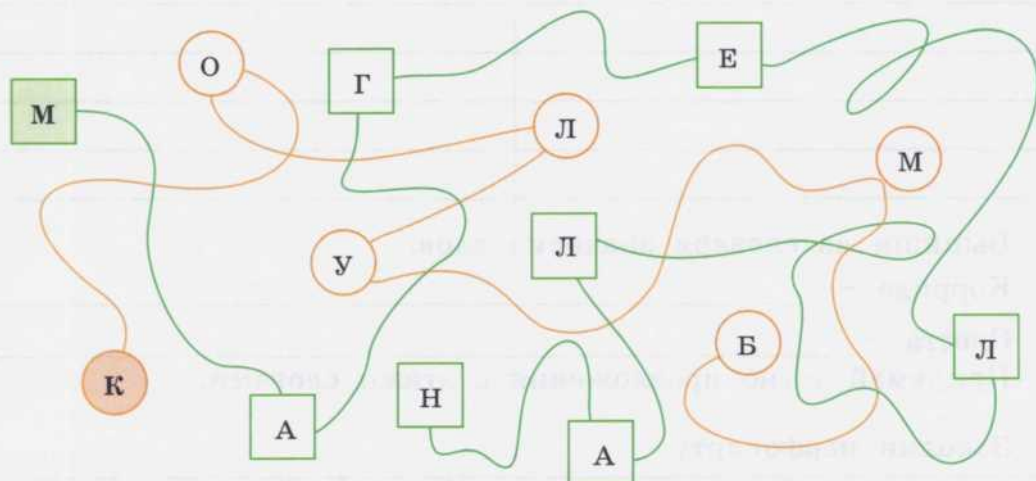
2) Барселона — крупный порт.

3) Достопримечательности города.

4) Барселона — один из центров международного туризма.

(Или: за что Барселону любят иностранные туристы.)

8. Испания дала миру многих великих путешественников. Среди них Христофор _____ и Фернан _____. Пройди по лабиринту и прочитай их фамилии.



9. Напиши профессии известных людей Испании.

Гойя, Пикассо, Дали — _____

Сервантес — _____

Колумб — _____

ПОРТУГАЛИЯ (ПОРТУГАЛЬСКАЯ РЕСПУБЛИКА)

1. Отметь на контурной карте Южной Европы (с. 20—21) Португалию и её столицу.

2. Ответь на вопросы.

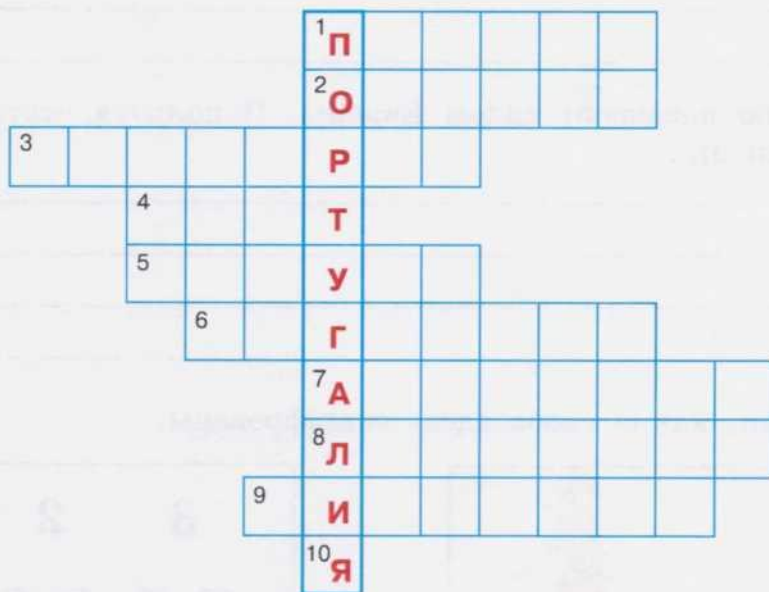
На каком полуострове расположена Португалия? _____

Кто является её единственным соседом? _____

Что влияет на климат Португалии? _____

Почему рыболовство является одной из ведущих отраслей хозяйства Португалии? _____

3. Реши кроссворд.



1. Изделие из дуба, по производству которого Португалия занимает первое место в мире. 2. Зелёные маслины. 3. Небольшой цитрусовый плод. 4. Одна из главных достопримечательностей Португалии. 5. Первооткрыватель Америки. 6. Известный путешественник Фернан ... 7. Оранжевый цитрусовый плод. 8. Столица Португалии. 9. Сочные ягоды, растущие гроздьями.

ИТАЛИЯ (ИТАЛЬЯНСКАЯ РЕСПУБЛИКА)

1. На контурной карте Южной Европы (с. 20—21) обозначь полуостров, на котором расположена Италия, подпиши моря, омывающие страну, и острова, принадлежащие ей.

2. Ответь на вопросы и выполни задания.

Определи, какой рельеф преобладает в Италии. Какие горы находятся на севере и в центральной части? Обозначь их на контурной карте.

В Италии поверхность _____.


На севере находятся горы _____, а в центральной части — _____.

Определи по карте название самой большой реки Италии. Подпиши её название на контурной карте Южной Европы.

Выпиши названия действующих вулканов.

3. Италию называют садом Европы. Используя статью учебника, докажи это.

4. Отгадай, какие слова здесь зашифрованы.



Острова **С**

ИЯ принадлежат Италии.

7. Прочитай задание, найди соответствующую ему иллюстрацию. Запиши в клеточку буквенный шифр.



5. И



2. Т



4. Л



6. Я



1. И



3. А

1. Колизей

2. Падающая Пизанская башня

3. Площадь Святого Марка

4. Город мостов и каналов

5. Фонтан в Риме

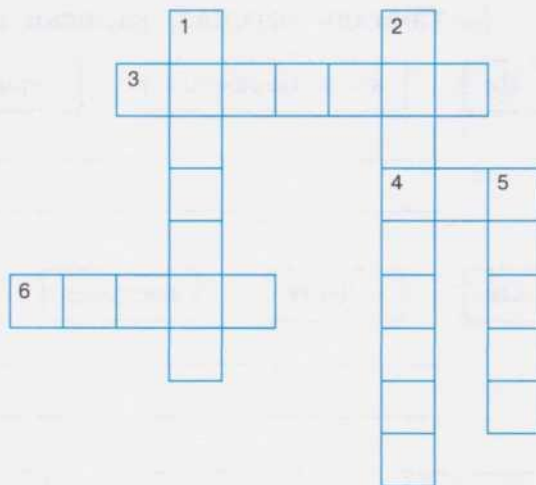
6. Панорама Рима

8. Используя карту, статью учебника, сведения из дополнительной литературы, а также слова для справок, реши кроссворд «Города Италии».

1. Жители этого города передвигаются по улицам на лодках (гондолах) — ведь он расположен на 118 островах. 2. Название этого города переводится как «цветущая». Именно в нём возникло искусство эпохи Возрождения. Может быть, поэтому итальянцы любовно называют его «Флорес». 3. Название этого

города переводится как «новый город». Главная его достопримечательность — действующий вулкан Везувий, грозно возвышающийся над городом.

4. Этот город называют «вечный». Он является столицей Италии. 5. В этом городе Северной Италии находится знаменитый на весь мир оперный театр Ла Скала. Это второй после Рима город по числу жителей. Итальянцы называют его «трудолюбивый». 6. Город, расположенный в предгорьях Альп, один из промышленных центров Италии. В нём находится автомобильный концерн «Фиат».



Дата _____

ГРЕЦИЯ (ГРЕЧЕСКАЯ РЕСПУБЛИКА)

1. Отгадай загадку.

Звалась она в древности Элладой,

Она же родина Олимпиады. _____

2. Отметь Грецию, её столицу и омывающие моря на контурной карте Южной Европы (с. 20—21).

3. Пользуясь текстом учебника, вставь пропущенные слова.

Береговая линия Греции _____, что образует многочисленные _____ и заливы.

Самые высокие горы Греции — _____ и _____.

Климат здесь _____. На участках, свободных от скал, выращивают _____. В горных районах разводят _____.

4. Выпиши из словаря значение слова «античный».

5. Составь рассказ, записав слова в нужной последовательности.

На

храм Парфенон

вершине

находится

холма Акрополь

Он

в честь

построен

богини Афины

Склоны

лестницами

холма

узкими

соединены

Это

с античными


древний

колоннами

храм

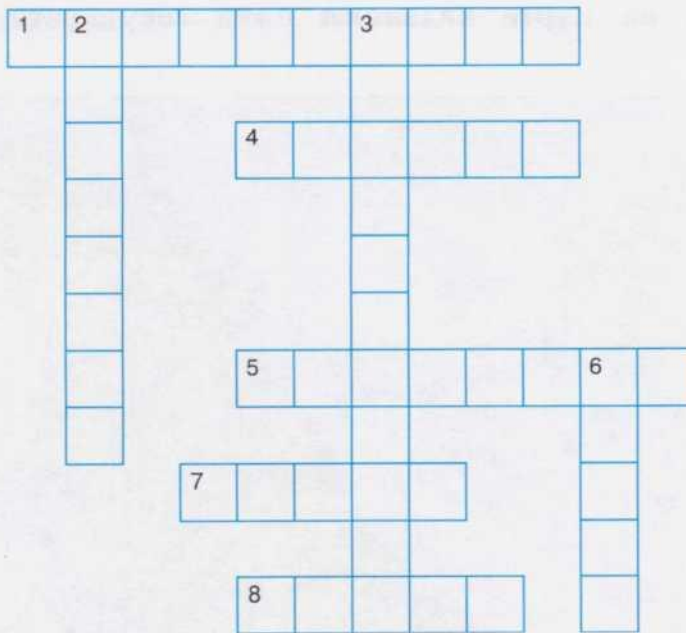
Прочитай составленный текст.

6. Запиши в пустые «вагоны» названия овощей и фруктов, которые экспортирует Греция.



7. Реши кроссворд.

1. Полуостров, на котором расположена Греция. 2. Холм в Афинах. 3. Море, омывающее Грецию с востока. 4. Государство, расположенное на Балканском полуострове. 5. Море, омывающее Грецию на юге. 6. Название горы, у подножья которой проводились спортивные соревнования. 7. Столица Греции. 8. Жители Греции.



Дата _____

СЕВЕРНАЯ ЕВРОПА

1. Используя карту учебника на с. 54, заполни схему.

Государства Северной Европы



2. Подпиши на карте названия пяти государств Северной Европы.



3. Определи, о каких государствах идёт речь, и обведи названия государств тем цветом, какой относится к нужному определению.

Розовый — в переводе на русский язык название этого государства звучит как «ледяная страна» («ис» — ледяная, «ланд» — страна). Здесь много вулканов.

Фиолетовый — название этой страны переводится как «лесная страна». От Скандинавского полуострова эту страну отделяет пролив, ширина которого 4 км.

Оранжевый — предки жителей этого государства называли свою страну «путь на север» — к северу от неё только воды Северного Ледовитого океана.

Зелёный — эта страна занимает бóльшую часть Скандинавского полуострова. С 1814 года она не участвует в войнах. Это одно из самых богатых европейских государств.

Жёлтый — эта страна — северный сосед России. За большое количество озёр её называют «страна тысячи озёр». От Скандинавского полуострова её отделяет Ботнический залив Балтийского моря.

4. По кратким характеристикам государств определи, люди каких профессий в них живут (соедини стрелками).

Норвегия

Море у берегов этой страны богато рыбой. Здесь умеют строить корабли — известно, что именно в Норвегии викинги готовили свои корабли к плаванию по морям Атлантического океана.

Швеция

Земли этой страны богаты рудами цветных металлов. Именно здесь сегодня производят надёжные и удобные автомобили «вольво».

рыбаки

корабелы

рудокопы

лесорубы

сталевары

животноводы

автомобилестроители

Дания

Эта страна славится лугами с зелёной и сочной травой, а также мягким климатом.

Исландия

Это островное государство поставляет в другие страны треску, сельдь и консервы из этих и других рыб.

Финляндия

Территория этой страны покрыта хвойными лесами. Здесь добывают железную руду, из которой строят отличные теплоходы.

5. Во многих странах считают, что избушка Деда Мороза находится в Лапландии. Тем не менее это не сказочная страна — Лапландией называют районы, расположенные на Скандинавском и Кольском полуостровах за Северным полярным кругом. Используя политическую карту Европы, скажи, северные районы каких стран можно назвать Лапландией.

НОРВЕГИЯ (КОРОЛЕВСТВО НОРВЕГИЯ)

- Отметь на карте Северной Европы (с. 32) столицу Норвегии.
- 1) Прочитай названия государств, которые граничат с Норвегией, проверь себя по карте. Зачеркни ненужное.
Швеция, Швейцария, Дания, Финляндия, Россия, Италия, Франция.
2) Прочитай названия морей, омывающих берега Норвегии. Проверь себя по карте. Зачеркни ненужное.
Северное море, Балтийское море, Средиземное море, Норвежское море, Чёрное море, Берингово море, Баренцево море.

- Заполни схему, вписав моря, омывающие Норвегию.



- Вставь в текст пропущенные слова.

Норвегия — самое _____ государство Европы. Её территория занимает северо-запад _____ полуострова. Норвегия омывается водами трёх морей — _____, _____, _____. Большую часть территории занимают _____ горы. Климат в Норвегии _____. Основное население страны — _____. Столица государства — город _____.

Слова для справок: северное, Скандинавский, Северное, Норвежское, Баренцево, Скандинавские, мягкий, Осло, норвежцы.



- Выпиши из словаря значение слова «фьорд».

6. Соедини стрелками фамилии известных людей Норвегии и область деятельности, в которой они достигли высоких результатов.

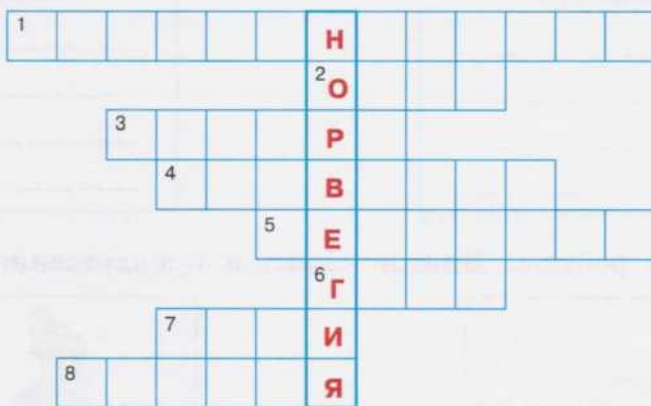


Р. Амундсен Э. Григ Х. Ибсен Т. Хейердал Ф. Нансен

7. Разгадай ребусы.



8. Реши кроссворд.



1. Полуостров, на котором расположена Норвегия. 2. Столица Норвегии. 3. Природная зона на территории Норвегии. 4. Жители Норвегии. 5. Море, омывающее Норвегию. 6. Скандинавские 7. Любимый вид спорта норвежцев. 8. Восточный сосед Норвегии.



ШВЕЦИЯ (КОРОЛЕВСТВО ШВЕЦИЯ)

1. На карте Северной Европы (с. 32) подпиши столицу Швеции.
2. Посмотри на политическую карту Европы и напиши, с какими государствами граничит Швеция.

3. Допиши рассказ, используя нужные слова для справок. Придумай название.

Швеция занимает _____ часть _____ полуострова. Имеет _____ и _____ границы со многими государствами. В стране много _____, самое крупное из которых _____. Лето в Швеции _____, зима _____.

Слова для справок: *большую, меньшую, Скандинавского, Балканского, морские, сухопутные, озёр, вулканов, Венерн, Байкал, снежная, прохладное, республика, королевство.*

4. Заполни схему.

Ведущие отрасли

промышленности

сельского хозяйства

5. Разгадай ребусы. Впиши слова в предложение.




_____ — это столица _____.


1. Полуостров, на котором расположена Швеция.
2. Название шведского музея, в котором находится один огромный экспонат.
3. Придумай вопрос самостоятельно.
4. Герой книг шведской писательницы Астрид Линдгрен.
5. Одно из самых красивых зданий Стокгольма.
6. Придумай вопрос самостоятельно.
7. Человек, занимающийся сельским хозяйством.
8. Второй по величине город Швеции.
9. Во главе шведского государства стоит ...
10. Учёный, который ввёл 100-градусную шкалу для измерения температуры.
11. Известная шведская писательница.
12. Автомобиль, выпускаемый в Швеции.

Дата _____

ФИНЛЯНДИЯ (ФИНЛЯНДСКАЯ РЕСПУБЛИКА)

1. На карте Северной Европы (с. 32) подпиши столицу Финляндии и заливы, омывающие эту страну. Назови пограничные государства.
2. Разгадай ребусы.



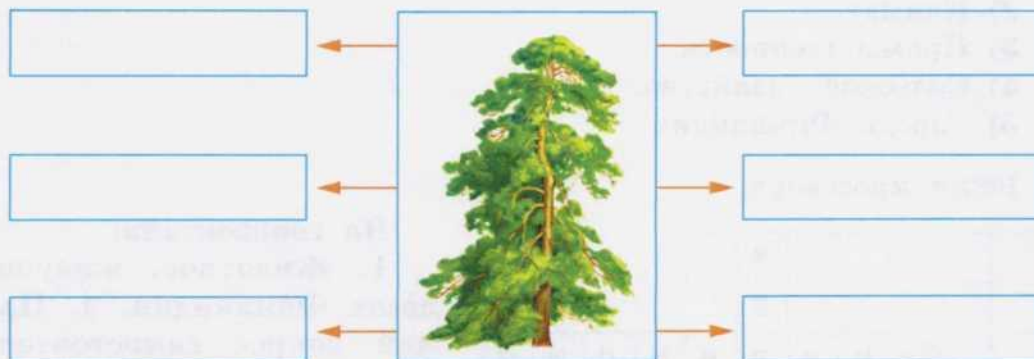


3. Какая самая известная отрасль промышленности в Финляндии? Запиши.

--	--	--	--	--	--	--	--	--	--	--	--	--	--	--	--	--	--	--	--

Из каких частей состоит это слово? Запомни, как оно пишется.

4. Что получают из древесины? Запиши в прямоугольники ответы.



5. Вычеркни лишнее слово, которое не относится к теме урока. Дай обобщающее понятие.

Хельсинки, Париж, Турку, Тампере — это _____
 Деревообрабатывающая, металлургическая, бумажная, хлопко-
 обрабатывающая _____

Сосны, финиковые пальмы, ели — _____

Медведи, рыси, жирафы, россомахи, белки — _____

Лыжи, борьба, хоккей, прыжки с трамплина — _____

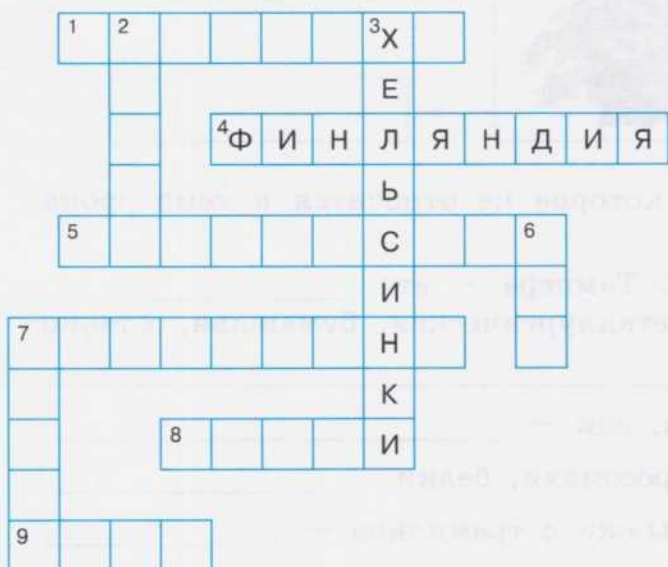
6. Заполни перфокарту.

Вопрос \ Ответ	Турку	Паром	Сауна	Лес	Лап- ландия	Хель- синки
Город, в котором есть улица Старых мастеров						
Основная природная ценность						
Водный вид транспорта, распро- странённый в Финляндии						
Согласно легенде ро- дина Санта-Клауса						
Финская сухая баня						
Столица Финляндии						

7. Составь рассказ по плану.

- 1) Положение Финляндии на карте.
- 2) Климат.
- 3) Промышленность.
- 4) Сельское хозяйство.
- 5) Города Финляндии.

8. Реши кроссворд.



По горизонтали:

1. Животное, живущее в лесах Финляндии.
4. Придумай вопрос самостоятельно.
5. Море, заливы которого омывают Финляндию.
7. Материал, получаемый из ели и сосны.
8. Как на финский язык переводится слово «Финляндия»? (Что это слово означает?)
9. Популярный в Финляндии спортивный инвентарь.

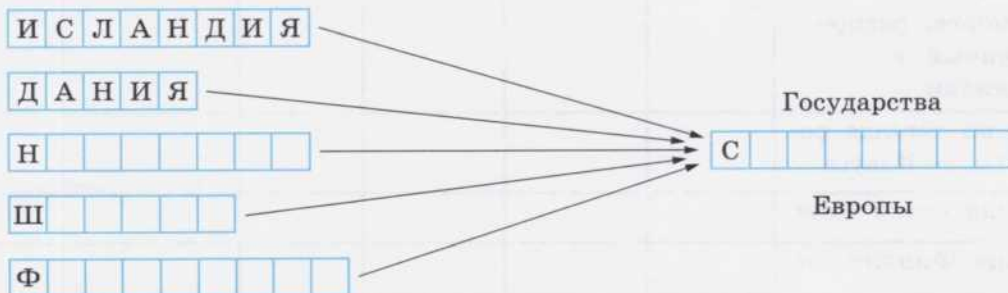
По вертикали:

2. Многочисленные водоёмы Финляндии.
3. Придумай вопрос самостоятельно.
6. Самое распространённое дерево в Финляндии.
7. Лесная птица.

9. В каких государствах жили эти замечательные люди?

- Г. Х. Андерсен (сказочник) — _____
- А. Линдгрэн, С. Лагерлёф (детские писательницы) — _____
- Р. Амундсен, Т. Хейердал (путешественники) — _____

10. Заполни клеточки.



ВОСТОЧНАЯ ЕВРОПА



1. Найди Восточную Европу на политической карте. Отметь на карте границы изучаемых государств.



2. Ответь на вопрос и выполни задание.

1) Какой географический регион отмечен на карте? (Ответ будет являться названием карты.)

2) Объясни выражение «государства ближнего зарубежья». (Ближе к чему?)



3. Используя картосхему, подпиши рядом с цифрами названия государств. Подчеркни названия государств ближнего зарубежья.

- | | |
|--------------------|-----------|
| 1. _____ | 8. _____ |
| 2. _____ | 9. _____ |
| 3. <u>Словакия</u> | 10. _____ |
| 4. _____ | 11. _____ |
| 5. _____ | 12. _____ |
| 6. _____ | 13. _____ |
| 7. _____ | |

4. Рядом с соответствующими буквами напиши названия морей, омывающих восточноевропейский регион.

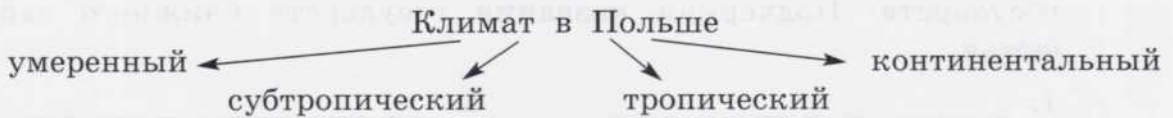
- А _____
- Б _____
- В _____
- Г _____

ПОЛЬША (РЕСПУБЛИКА ПОЛЬША)

1. Используя карту, впиши в прямоугольники названия государств, граничащих с Польшей.



2. На карте Восточной Европы (с. 42) подпиши столицу Польши. Вспомни из статьи учебника описание рельефа Польши. Продолжи устно. Большую часть площади...
3. Обведи правильный ответ.



4. Условными знаками обозначь, какие полезные ископаемые добывают в Польше. Используй статью учебника.

На территории Польши добывают _____ (), _____ (), _____ (), руды цветных металлов (▲).

5. Составь предложения, записав слова в нужной последовательности.

Ведущая

Польши

отрасль

это

промышленности

машиностроение



развито

В Польше

хорошо

хозяйство

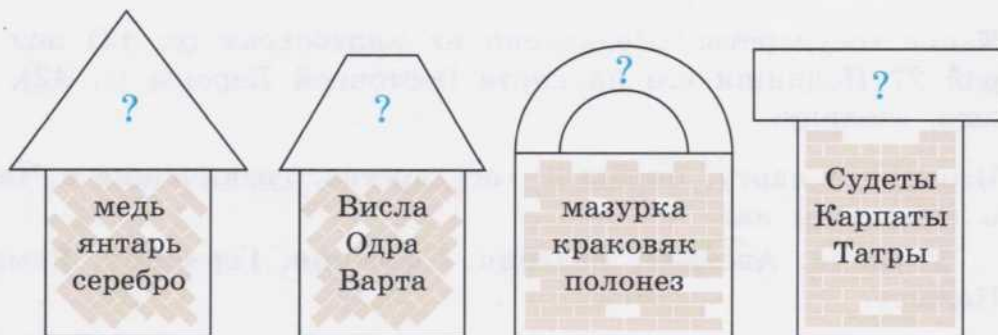
сельское

6. Что означают слова «дюны», «костёл»? Выпиши их значения из словаря.

Дюны — _____

Костёл — _____

7. Помоги украсить эти здания вывесками. Подбери к словам обобщающие понятия и впиши их вместо знака вопроса. Какую геометрическую форму имеют крыши этих домов?



8. Польша дала миру много известных людей. Соедини стрелками имя человека и область его деятельности.

Николай Коперник занимался изучением небесных тел и звёзд.

Музыка

Фредерик Шопен сочинил немало великих произведений для игры на фортепиано.

Живопись

Ян Матейко написал много замечательных картин.

Поэзия

Адам Мицкевич сочинял стихи.

Астрономия



9. Реши кроссворд.



1. Большие леса в Польше.
2. Известный польский музыкант и композитор.
3. Самая длинная река в Польше.
4. Главный морской порт страны.
5. Столица Польши.
6. Один из красивейших городов мира.

Дата _____

ЧЕХИЯ (ЧЕШСКАЯ РЕСПУБЛИКА)

1. Какое государство обозначено на картосхеме (с. 43) под цифрой 2? Подпиши его на карте Восточной Европы (с. 42), обозначь столицу.

2. Используя карту, определи государства, граничащие с Чехией, и подчеркни их.

Украина, Австрия, Венгрия, Словакия, Германия, Румыния, Польша.

3. Из текста статьи учебника прочитай предложение, в котором описывается рельеф государства.

4. В город Яблонец, который находится на северо-востоке Чехии, свозят кварцевый песок или уже готовое стекло, а также полудрагоценные камни. Зачем? Что из них делают?

5. Вставь в текст пропущенные слова.

На берегах реки Влтавы расположен красивый древний город _____. Его название произошло от слова «_____». Правый и левый берег соединяет множество мостов. Самый красивый из них _____. Самый известный чешский курорт — _____. Он славится _____.

Слова для справок: Карлов мост, целебная минеральная вода, Прага, Карловы Вары, порог.



СЛОВАКИЯ (СЛОВАЦКАЯ РЕСПУБЛИКА)

1. На карте Восточной Европы (с. 42) подпиши Словакию и соседние государства.
2. Ответь на вопросы.

Как называется столица Словакии? _____

Сельские жители Словакии разводят овец. Как называется эта отрасль животноводства? _____

Почему в Словакии главной отраслью сельского хозяйства является животноводство, а не земледелие? _____

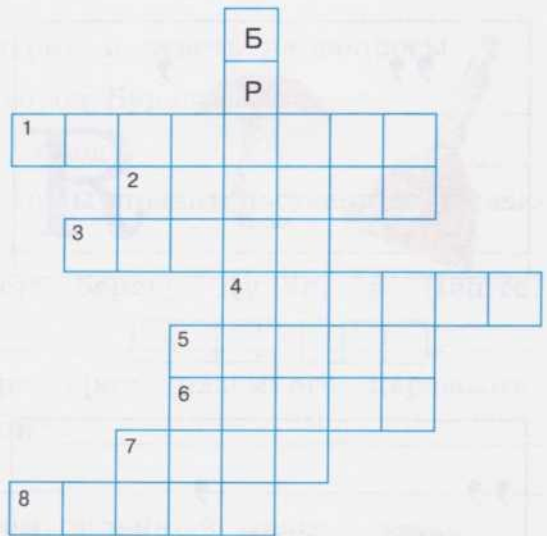
До какого года Чехия и Словакия были одним государством? _____

Какая страна имеет более развитую промышленность? _____

3. Реши кроссворд.

По горизонтали:

1. Небольшое государство в Восточной Европе.
2. Река, на берегах которой расположен город Прага.
3. Государство, лежащее в самом центре Европы.
4. На весь мир славится богемское
5. Самая большая река Чехии.
6. Чешский писатель, с юмором описавший приключения храброго солдата Швейка.
7. Национальный чешский напиток.
8. Столица Чехии.



Если ты отгадал всё правильно, то **по вертикали** у тебя получится название столицы Словакии. Обведи его цветным карандашом.

Какой государственный язык этого государства?



ВЕНГРИЯ

1. На карте Восточной Европы (с. 42) подпиши Венгрию, её столицу и крупную реку.

2. Впиши пропущенные слова, прочитай полученный текст.

Столица Венгрии — _____.

Одна из достопримечательностей страны — озеро _____.

По Венгрии протекает крупная река _____.

На территории Венгрии имеются 123 горячих _____.

На них расположены купальни, бассейны, _____.

Дунай

целебные источники

Будапешт

водолечебницы

Балатон


3. Разгадай ребусы.




□ □ □ □ □ □ □ □



□ □ □ □ □ □ □ □



□ □ □ □ □ □ □ □



□ □ □ □ □ □ □ □

4. Обведи в рамку транспортное средство, которое производят в Венгрии. Придумай предложение с этим словом.

BMW



Икарус

Ту-134



5. Прочитай рассказ о столице Венгрии и ответь на вопросы.

На берегах какой реки стоит город Будапешт? _____

Из каких двух частей состоит город? _____

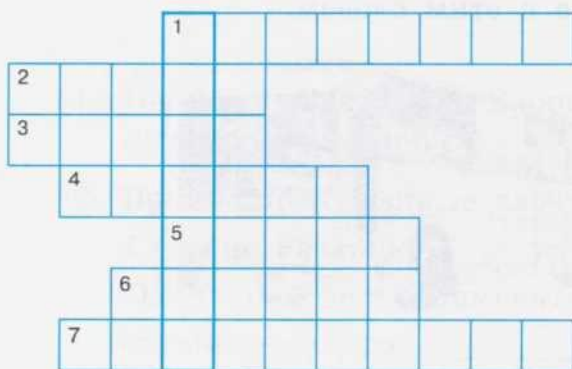
В какой части города расположены правительственные учреждения? _____

Что располагается на левом берегу Дуная, в Пеште? _____

Какой общественный транспорт, кроме наземного, перевозит жителей и гостей столицы Венгрии? _____

Докажи, что Будапешт — промышленный город.

6. Реши кроссворд.



По горизонтали:

1. Столица Венгрии.
2. Крупная река Венгрии.
3. Полезное ископаемое, добываемое в Венгрии.
4. Марка автобуса, идущего на экспорт.
5. Знаменитый венгерский сорт винограда.
6. Одна из самых известных пещер.
7. Государственный язык Венгрии.

Если всё отгадано верно, то по **вертикали** получится название известного озера. Обведи это слово цветным карандашом.

Дата _____

РУМЫНИЯ

1. Отметь на карте Восточной Европы (с. 42) Румынию и её столицу.
2. Используя карту, выпиши названия государств, граничащих с Румынией.

3. Заполни верхнюю строку таблицы.

Государство	Столица	Основное население	Горы	Река
Румыния				
Болгария				

4. Прочитай статью в учебнике и ответь на вопросы.

Воды какого моря омывают восточные берега Румынии?

Какие горы находятся на территории Румынии? _____

Какие отрасли сельского хозяйства развиты в Румынии?



Люди каких национальностей населяют Румынию? _____

Как называется столица Румынии? _____

5. Склоны гор в Румынии покрыты густыми хвойными и лиственными лесами. Напиши названия хвойных деревьев в левый столбик, лиственных — в правый.



Дата _____

БОЛГАРИЯ (РЕСПУБЛИКА БОЛГАРИЯ)

1. Отметь Болгарию и её столицу на карте Восточной Европы (с. 42).
2. По предложенному плану составь рассказ о географическом положении Болгарии, используя физическую и политическую карты.
 - 1) В каком регионе Европы находится Болгария?
 - 2) С какими государствами граничит?
 - 3) Воды какого моря омывают страну с востока?
 - 4) Какова поверхность страны?
 - 5) Какая река протекает по территории Болгарии?
 - 6) Как называется столица Болгарии?

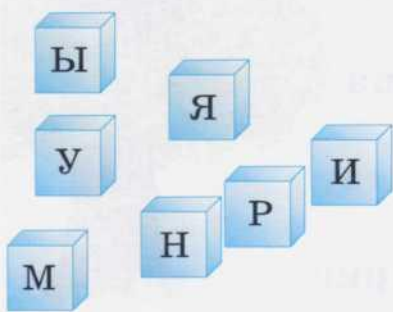
3. Прочитай статью учебника и дополни предложения.

На орошаемых землях Болгарии выращивают: _____

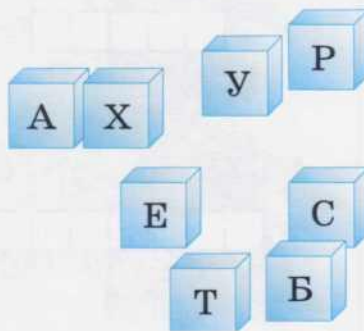
Болгария экспортирует: _____

4. Почему Болгарию называют страной роз? Что такое «ароматное золото»? Придумай и запиши предложения с этими словосочетаниями.

5. Составь из букв на кубиках названия государств и их столиц.




Государство _____



Столица _____



Государство _____



Столица _____

6. Продолжи заполнение таблицы (задание № 3 на с. 50).

Устно ответь на вопрос, чем похожи Румыния и Болгария и чем они различаются.

7. Соедини стрелкой вопрос и правильный ответ. Впиши в клетки буквы в той же последовательности.

1) Пограничное с Румынией государство.

Балканский → Й

2) Столица Румынии.

Чёрное → Н

3) Море, омывающее Румынию и Болгарию.

Бухарест → У

4) Столица Болгарии.

Молдавия → Д

5) Полуостров, на котором находится Болгария.

София → А

Номер вопроса	1	2	3	4	5
Буква ответа					

Дата _____

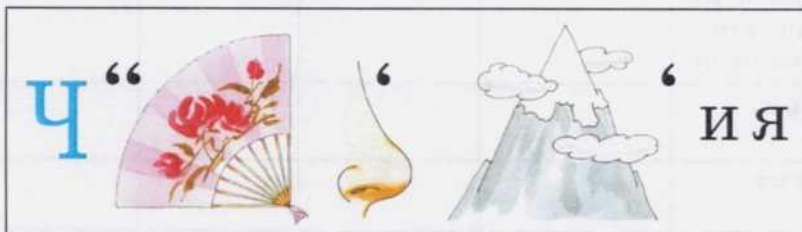
СЕРБИЯ (РЕСПУБЛИКА СЕРБИЯ). ЧЕРНОГОРИЯ

1. В 90-е годы 20 века бывшие республики Югославии стали независимыми. Покажи на политической карте Восточной Европы Словению, Хорватию, Боснию, Герцеговину, Македонию, Сербию и Черногорию.

На карте Восточной Европы (с. 42) отметь Сербию и Черногорию. Подпиши их столицы.

2. Отгадай ребусы.





3. По условным знакам определи, какие полезные ископаемые добывают в Сербии и Черногории. Впиши рядом с условными знаками названия полезных ископаемых. Пользуйся физической картой.

В Сербии и Черногории добывают (▲) _____,
 (△) _____, (■) _____, (■) _____.

4. Пользуясь статьёй учебника, ответь на вопросы.

Какие культуры выращивают вдоль реки Дунай?

Какие растения выращивают на берегах Адриатического моря?

Каких домашних животных разводят в Сербии и Черногории? _____

Какие отрасли промышленности здесь развиты?

5. Зачеркни все чётные числа. Выпиши только нечётные числа в порядке возрастания. Под ними запиши соответствующие им буквы.

9	2	1	11	3	4	5	13	7	6
р	я	б	а	е	у	л	д	г	с

Какое слово получилось? Придумай с ним предложение.

6. Заполни перфокарту.

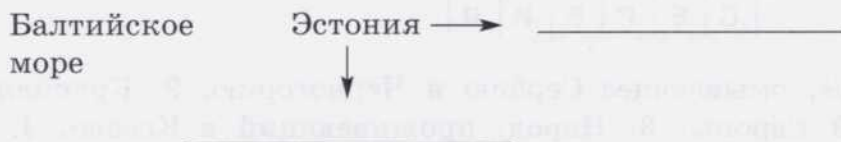
Вопрос	Ответ	Югославия	Сербский	Белград	Адриатическое
Город, название которого переводится как «светлый город»					
Название государства, в состав которого раньше входили Сербия и Черногория					
Государственный язык Сербии					
Море, которое омывает юго-запад страны					

_____ моря. Столицы Эстонии и Латвии — города _____ и _____ являются крупнейшими портами. Столица Литвы — город _____ построен в устье рек Нярис и Вильна. На востоке Эстония и Латвия граничат с _____. Литва на юге граничит с _____, а на юго-западе — с Калининградской областью Российской Федерации.

Дата _____

ЭСТОНИЯ (ЭСТОНСКАЯ РЕСПУБЛИКА)

1. Используя политическую карту, заполни схему.



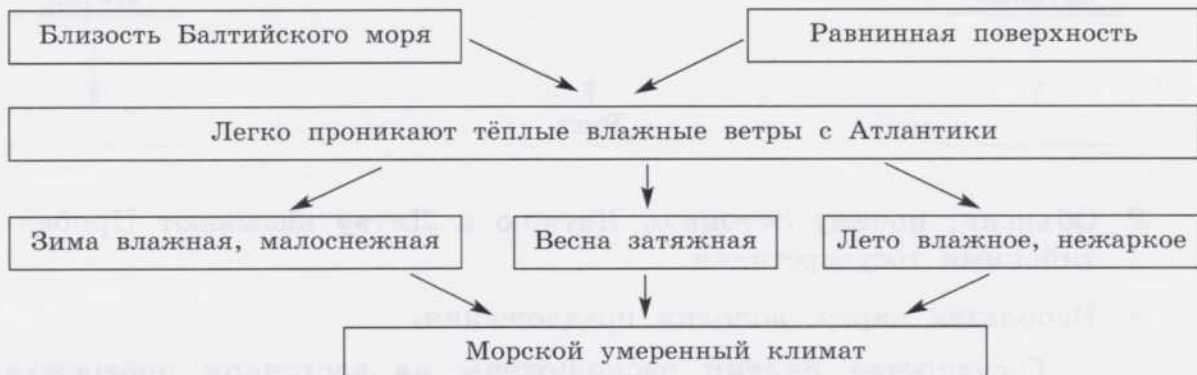
2. Отметь Эстонию и её столицу на карте (с. 42).
 3. Используя политическую карту Европы, напиши ответы на вопросы.

На побережье какого моря находится Эстония? _____


С какими государствами граничит Эстония на суше? _____

С какими странами Эстония имеет морские границы? _____

4. Используя схему, составь устно рассказ о климате Эстонии.



5. Разгадай ребусы.



6. Соедини с помощью стрелок буквы в нужном порядке, чтобы получились названия самого большого озера Эстонии и реки, из него вытекающей.

Е

Р

А

У О К

Н

Ч Д С

В

А

Озеро _____

Река _____

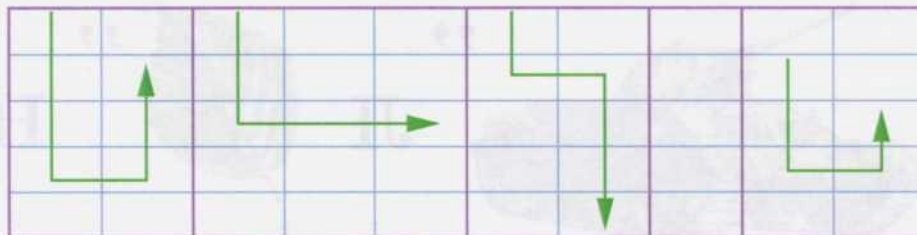
7. Прочитай рассказ, поставив предложения в нужной последовательности. Пронумеруй их.

Рыбаки выходят в море рано утром, когда только встаёт солнце. Рыба в сетях похожа на живое серебро. Одной из основных отраслей хозяйства является рыболовство. Эстония поставляет рыбу в Россию. Эстония имеет множество островов и из всех стран Прибалтики имеет самое большое побережье. Эстонцы ловят салаку, кильку, сельдь, лосося, угря.

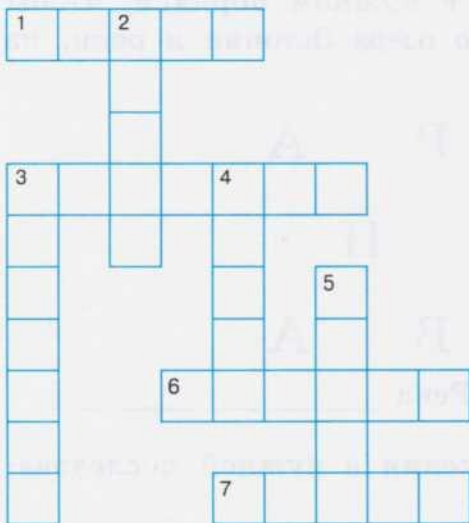


8. Прочитай слова по указанному плану. Запиши предложение.

Ч	У	О	К	В	Б	Г	Т	А	О
У	Е	З	С	Х	О	Г	М	Р	Н
Д	О	Е	Р	О	З	А	Б	Ы	Й
С	К	Ю	И	С	Н	Т	Р	Б	О
Д	Ш	А	Ж	Т	Х	О	Т	Г	Б



9. Реши кроссворд.



По горизонтали:

- 1. Небольшое эстонское поселение.
- 3. Одна из стран Балтии, берега которой больше других омываются морем.
- 6. Столица Эстонии.
- 7. Национальное увлечение эстонцев.

По вертикали:

- 2. В этом городе находится самый старый в стране университет.
- 3. Коренные жители Эстонии.
- 4. Река, которая протекает по границе Эстонии с Россией и впадает в Балтийское море.
- 5. Каменная глыба.

10. Определи, о каких городах Эстонии приведены сведения. Впиши названия этих городов в пустые клеточки.

--	--	--	--	--	--

— этот город второй по величине после Таллина, известен с 1030 года. Сначала он назывался Юрьев. Здесь находится старинный университет.



--	--	--	--	--	--

— этот город — один из лучших курортов Прибалтики. Он расположен на юге Эстонии возле места впадения рек Пярну и Сауга в море и назван в честь одной из этих рек.

--	--	--	--	--	--

— этот город расположен на границе с Россией. Река делит его на две части. Одна часть принадлежит России, другая — Эстонии.

Слова для справок: *Нарва, Тарту, Пярну.*

11. Придумай вопросы к кроссворду.



- _____
- _____
- _____
- _____
- _____
- _____
- _____

12. Вставь пропущенные слова.

Эстония — одно из государств

--	--	--	--	--	--	--

. Столица Эстонии —

--	--	--	--	--	--	--

. Крупными городами являются

--	--	--	--	--	--	--

 и

--	--	--	--	--	--	--

. Основное население —

--	--	--	--	--	--	--

. В стране развиты м

--	--	--	--

 м о

--	--	--	--	--	--	--

 я промышленность, р ы

--	--	--	--	--	--	--

 л

--	--	--	--	--	--	--

 о.



ЛАТВИЯ (ЛАТВИЙСКАЯ РЕСПУБЛИКА)

1. Отметь на карте (с. 42) границы Латвии. Подпиши её столицу.


2. Вставь в текст пропущенные слова.

Латвия лежит на побережье _____ залива _____ моря, к югу от Эстонии. Она граничит также с _____, _____, _____.

Поверхность страны в основном _____. Так же как и в Эстонии, здесь встречаются холмы и каменные валуны. В Латвии много небольших озёр и _____. Самая крупная река страны — _____ (Западная Двина). Она начинается на Валдайской возвышенности в России, течёт через всю Латвию и впадает в _____ море.

Слова для справок: Рижский, Балтийское, Россия, Белоруссия, Литва, равнинная, реки, Даугава.

3. Впиши буквы в соответствующие геометрические фигуры, чтобы получилось название реки, которая протекает по территории Латвии и впадает в Балтийское море.



4. Из словаря в конце учебника выпиши и запомни значения следующих слов:

Дюна — _____

Этнографический — _____

Орган — _____

5. Расскажи о животном мире латвийских лесов.

6. Соедини названия товаров, выпускаемых в Латвии, с названиями соответствующих отраслей промышленности. Используя полученные данные, составь рассказ о промышленности Латвии.



7. Дopiши предложения.

Рига — это _____

Лиeпая — это _____

Даугава — это _____

Животноводство — это _____

Латвийский язык — это _____

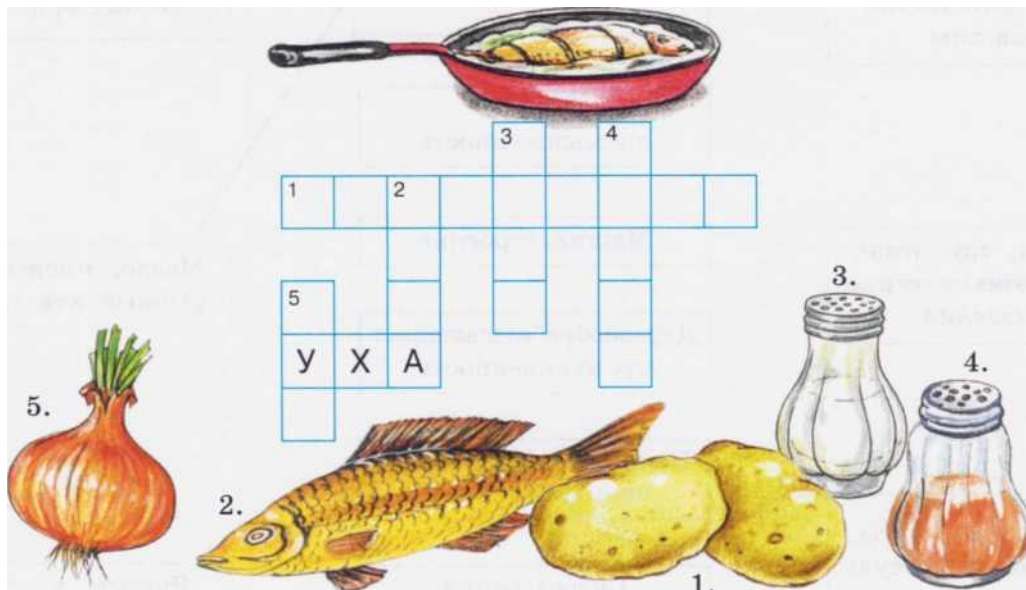
8. Впиши слоги в клетки, начиная с цифры 1.



1			2		3	
---	--	--	---	--	---	--

4			5			—	6		7	
---	--	--	---	--	--	---	---	--	---	--

9. В Латвии очень любят блюда из рыбы. Реши кроссворд и узнай, какие продукты используются для приготовления ухи.



10. Ответь на вопросы.

О каких традиционных латвийских народных промыслах ты узнал из статьи учебника? _____

Из чего образуется янтарь? _____

Где используют этот камень? _____

11. Вставь пропущенные буквы, запомни написание этих слов.

К л __ тышским н __ родным промыслам относится обр—ботка кож __ и изг __ товление кож __ __ых изделий. Из янт __ __ря изг __ тавливают кр __ сивые юв __ лирные укр—шения.

Дата _____

ЛИТВА (ЛИТОВСКАЯ РЕСПУБЛИКА)

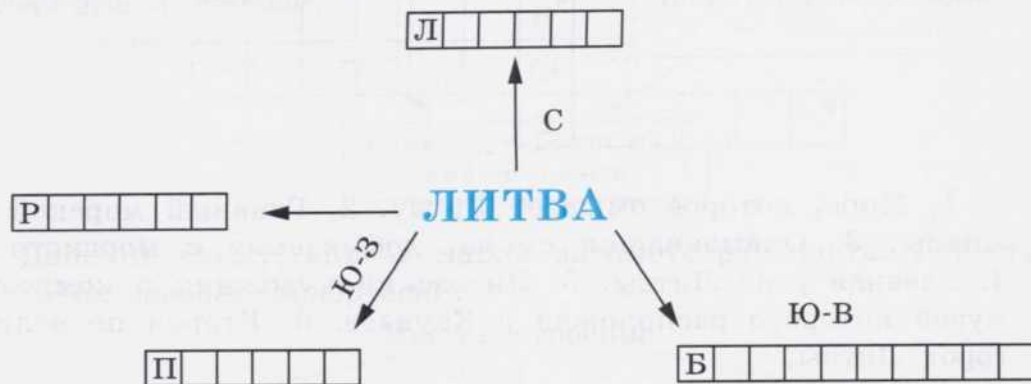
1. Отметь на карте (с. 42) границу Литвы, подпиши её столицу.

2. Пользуясь политической картой, дополни предложения.

Литва — самое _____ из государств Балтии. На севере Литва граничит с _____, на юго-востоке —

с _____, а на юго-западе — с _____ и с Калининградской областью. Западные берега Литвы омывают воды _____. Столицей государства является город _____.

3. Впиши в пустые клеточки страны, которые граничат с Литвой.



4. Объясни, почему Литву называют «страна лесов, песков и дюн».

5. Используя схему, составь устный рассказ об особенностях климата и природы Литвы.

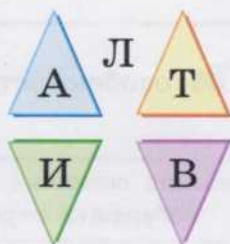


6. Реши кроссворд.



1. Море, которое омывает Литву. 2. Главный морской порт Литвы. 3. Окаменевшая смола, добываемая с морского дна. 4. Главная река Литвы. 5. Литовский художник и композитор, музей которого расположен в Каунасе. 6. Второй по величине город Литвы.

7. Впиши буквы, соответствующие цветам треугольников. Какое слово получилось?



Дата _____

БЕЛОРУССИЯ (РЕСПУБЛИКА БЕЛОРУССИЯ)

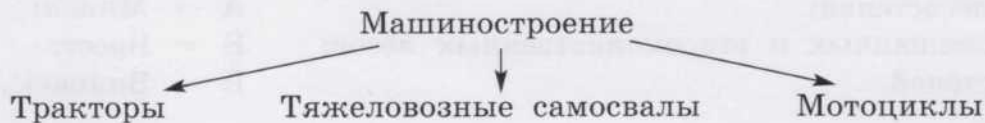
- Обведи на карте (с. 42) границы Белоруссии, подпиши её столицу.
- Заполни схему, вписав соседние с Белоруссией государства.



3. Используя схему, составь устный рассказ о климате Белоруссии.



4. Дополни схему, вписав марки автотранспорта, выпускаемого на заводах Белоруссии.



Слова для справок: *БелАЗ*, *«Минск»*, *«Беларусь»*.

5. Объясни, почему в Белоруссии хорошо развита лесоперерабатывающая промышленность.
6. Используя дополнительную литературу, составь рассказ о заповеднике Беловежская Пуца. Нарисуй самого главного обитателя этого заповедника — зубра.

Беловежская Пуца



7. Выбери несколько правильных ответов. Зачеркни ненужное.

Белоруссия граничит:

- А — с Россией, Украиной;
- Б — с Литвой, Латвией, Польшей;
- В — с Венгрией, Румынией.

Белоруссия богата:

- А — лесами;
- Б — степями;
- В — болотами и озёрами;
- Г — морями.

На территории Белоруссии протекают реки:

- А — Днепр, Западная Двина;
- Б — Неман;
- В — Волга, Дон.

Крупные города Белоруссии:

- А — Минск, Гомель, Могилёв;
- Б — Одесса, Киев;
- В — Витебск, Брест.

8. Выбери один правильный ответ.

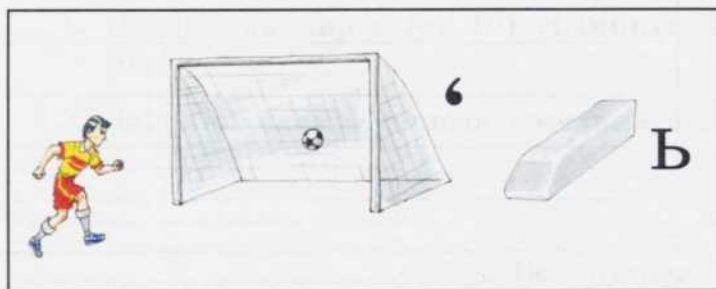
Белоруссия расположена в зоне:

- А — лесостепей;
- Б — смешанных и широколиственных лесов;
- В — степей.

Столица Белоруссии:

- А — Минск;
- Б — Брест;
- В — Вильнюс.

9. Отгадай названия двух городов и реки, спрятавшиеся в ребусах.



10. Собери съедобные грибы в корзину, соединив стрелками. Напиши названия грибов в клеточках.



- 11.** Запиши числа в порядке убывания, а под ними соответствующие буквы. Ты узнаешь национальное блюдо белорусов.

4	2	5	7	3	1	6
Н	К	А	Д	И	И	Р

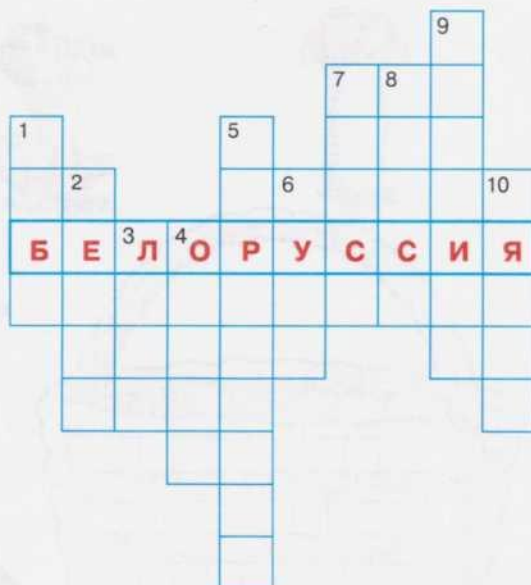
Попробуй приготовить

Тебе понадобится: 6 штук картофеля, 4 чайные ложки муки, 1 яйцо, $\frac{1}{3}$ чайной ложки соды, соль по вкусу, подсолнечное масло.

Картофель помыть, почистить, натереть на тёрке, отжать жидкость, добавить яйцо, муку, соль, питьевую соду. Всё перемешать. Сковородку разогреть, смазать маслом. Из полученной массы сделать лепёшки и поджарить с двух сторон. Приятного аппетита!

- 12.** Реши кроссворд.

1. Животное, занесённое в Красную книгу, символ Беловежской Пути. 2. Река, протекающая по территории Белоруссии. 3. Значительную площадь в Белоруссии занимают 4. Красивые водоёмы, которые дали название северной части Белорус-



сии — Поозёрье. 5. Основная сельскохозяйственная культура, любимая еда белорусов. 6. Беловежская 7. Столица Белоруссии. 8. Город Белоруссии, принявший на себя первый удар фашистских захватчиков в 1941 году. 9. Национальное блюдо, оладьи из тёртого картофеля. 10. Белорусский музыкальный ансамбль, его название переводится как «Друзья».

Дата _____

УКРАИНА

1. Обведи на карте (с. 42) границы Украины, подпиши её столицу.

2. Закрась условными цветами природные зоны Украины.



— степи



— лиственные леса



— смешанные леса



— субтропики

3. Пользуясь картой, дополни предложения.

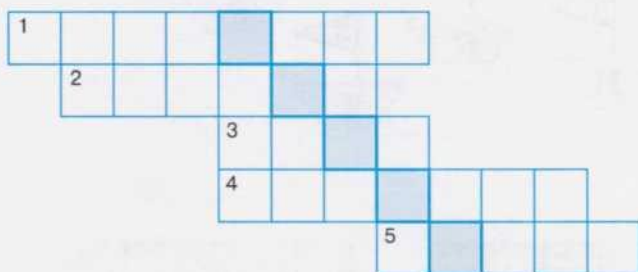
На севере Украина граничит с _____, на востоке — с _____, на западе — с _____, _____. На юге берега Украины омывают _____ и _____ моря. На крайнем западе поднимаются горы _____.



4. Используя схему, докажи, что природа Украины благоприятна для развития сельского хозяйства.



5. Реши кроссворд. Прочитай, что получилось в выделенных клетках.



1. Море, омывающее берега Украины на юге. 2. Река, протекающая по территории Украины и Молдавии. 3. Столица Украины. 4. Горы на западе Украины. 5. Город на западе Украины.

6. Впиши нужные ответы. В случае затруднения пользуйся подсказками из правого столбика.

Украина расположена в _____

Столица Украины — _____

Основные реки Украины — _____

Моря, омывающие территорию Украины, — _____

На территории Украины хорошо развиты _____

Главные достопримечательности Украины — _____

Киев

Восточная Европа

Чёрное, Азовское

Киево-Печерская лавра,
Софийский собор

Днепр, Дунай, Южный Буг

Сельское хозяйство,
рыболовство,

тяжёлая

промышленность

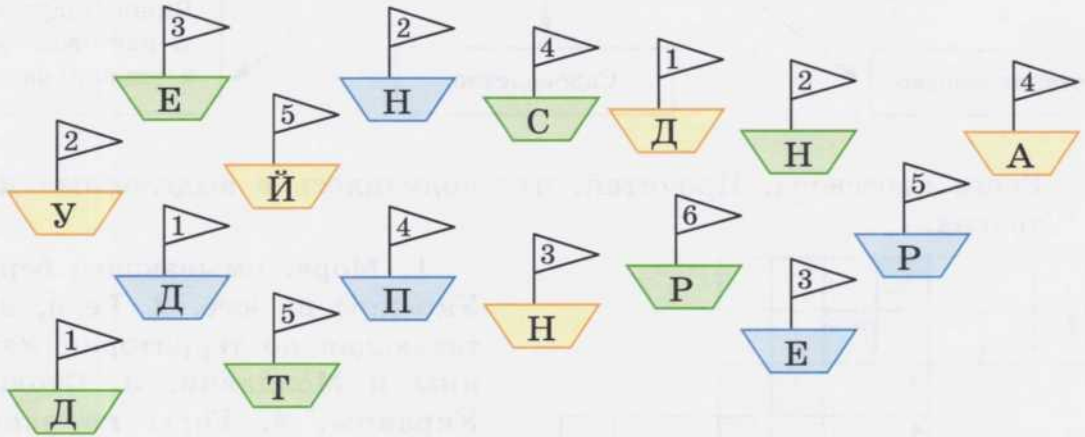
7. Дополни предложения, расшифровав знаки.

Украина богата (▲) _____ и (■) _____.

В стране есть небольшие месторождения (▲) _____
и (△) _____.

Какие ещё полезные ископаемые Украины ты знаешь?

8. 1) Собери буквы на кораблях одного цвета.
2) Впиши их по порядку в пустые клеточки того же цвета и узнаешь названия главных рек Украины.




1	2	3	4	5
---	---	---	---	---

1	2	3	4	5	6
---	---	---	---	---	---

1	2	3	4	5
---	---	---	---	---

В какое море впадают эти реки?

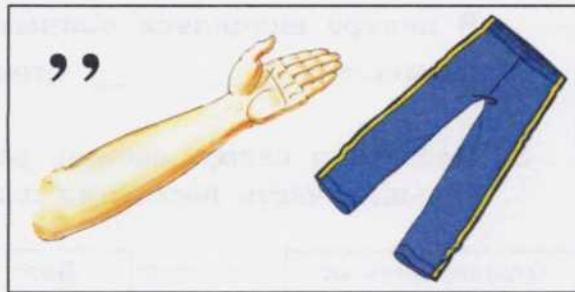
9. Разгадай ребусы.



Столица _____




Горы _____



Город _____

Растение _____

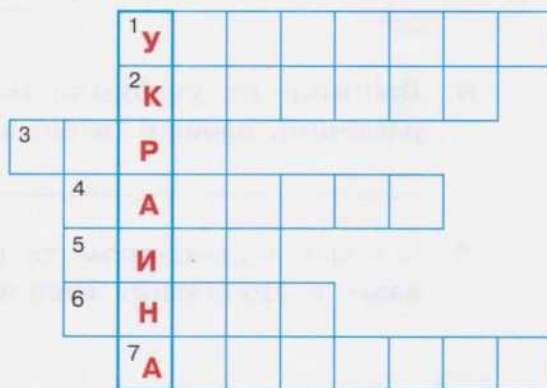


Денежная единица Украины

Национальная еда

10. Реши кроссворд.

1. Основное население Украины.
2. Горы на западе Украины.
3. Традиционное национальное блюдо.
4. Крупный город, областной центр.
5. Столица Украины.
6. Главная река страны.
7. Море, омывающее территорию Украины.



Дата _____

МОЛДАВИЯ (РЕСПУБЛИКА МОЛДОВА)

1. Отметь Молдавию и её столицу на карте (с. 42).
2. Составь рассказ о Молдавии, используя карту.

Молдавия расположена в _____ Европе. На западе она граничит с _____. Поверхность страны _____.




В центре находится покрытая лесами возвышенность, которая называется _____. Столица Молдавии — город _____.

3. Используя схему, составь рассказ о климате Молдавии. Почему большая часть населения занята в сельском хозяйстве?

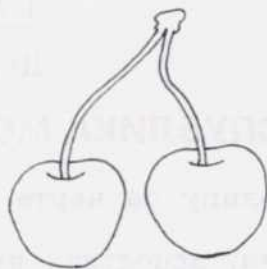


4. Выпиши из учебника (с. 103) названия сельскохозяйственных растений, овощей, ягод, выращиваемых в Молдавии. _____


5. Закрась карандашом те культурные растения, которые выращивают в Молдавии. Подпиши их.





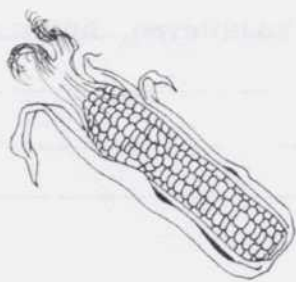
--	--	--	--	--	--	--	--



--	--	--	--	--



--	--	--	--	--	--	--	--	--	--	--	--	--	--



6. Выбери один правильный ответ.

Население Молдавии составляют:

- А — армяне;
- Б — русские, украинцы;
- В — молдаване;
- Г — венгры, цыгане;
- Д — все ответы.

Крупные города Молдавии:

- А — Кишинёв, Бендеры, Тирасполь;
- Б — Львов, Харьков, Киев, Одесса;
- В — Минск, Брест, Гомель.

7. Выбери несколько правильных ответов.

В Молдавии хорошо развиты:

- А — рыболовство;
- Б — растениеводство, садоводство, виноделичество;
- В — производство консервов.

Молдавия поставляет в другие страны:

- А — автомобили;
- Б — виноград, фрукты, овощи;
- В — нефть, природный газ;
- Г — консервы, вино.

8. Продолжи предложения. В случае затруднения пользуйся статьёй учебника (с. 104).

Климат в Молдавии мягкий, а почвы плодородные, поэтому ведущая отрасль экономики — _____.

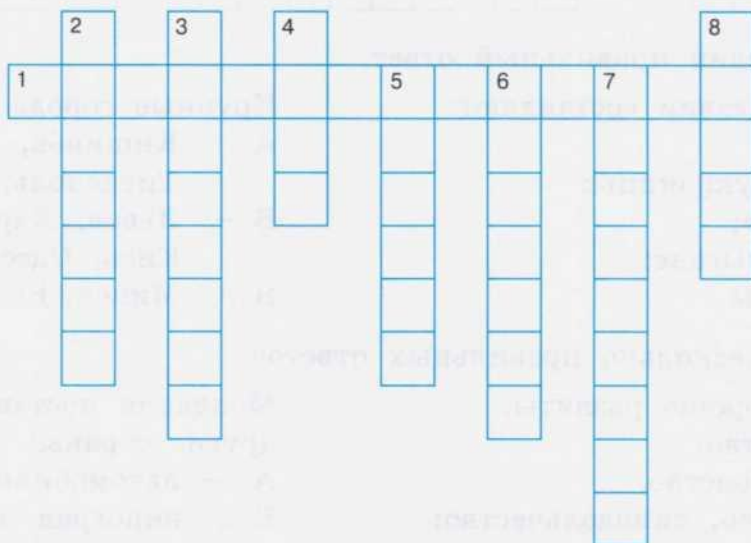
Основное занятие населения — сельское хозяйство, поэтому большинство людей живут в _____.

Традиционные народные промыслы: _____
_____.

9. Ответь устно на вопросы.

- 1) Какие крупные реки протекают по территории Молдавии?
- 2) Как используются воды этих рек?
- 3) Что такое Кодры?
- 4) Почему в Молдавии ведущая отрасль производства — пищевая промышленность?
- 5) Что такое виноградарство?
- 6) Какие сорта винограда выращивают в Молдавии?
- 7) На какой продукции в магазинах можно прочитать «Сделано в Молдавии»?

10. Реши кроссворд.



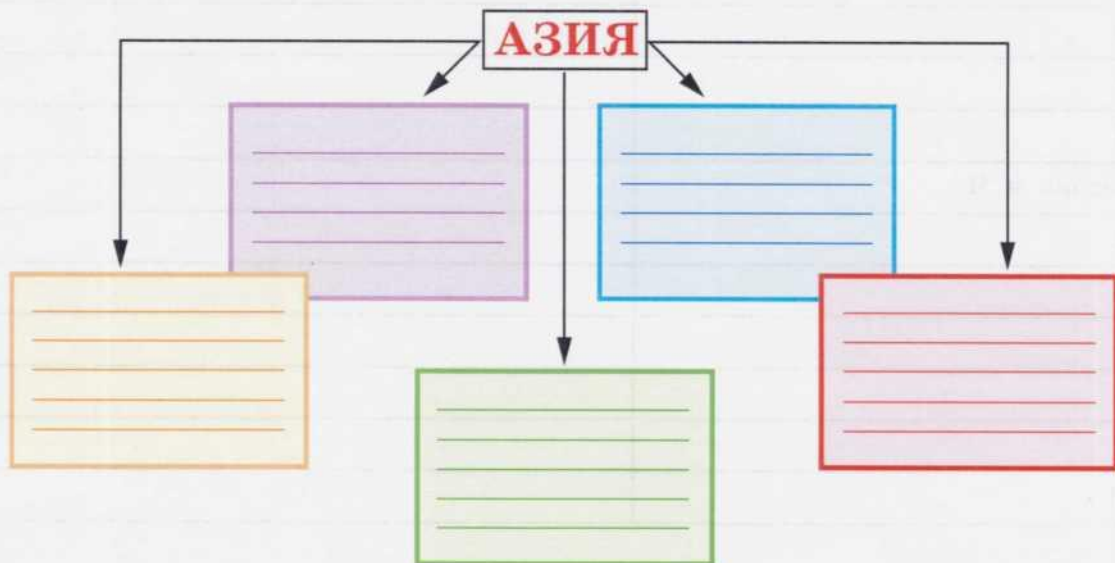
1. Отрасль промышленности, хорошо развитая в Молдавии.
2. Город, в котором А. С. Пушкин провёл три года ссылки.
3. Небольшое государство в Восточной Европе. 4. Вторая по величине река Молдавии. 5. Река, которая делит государство на левобережную и правобережную части. 6. Пограничное с Молдавией государство. 7. Крупный город в Молдавии. 8. Возвышенность в центральной части Молдавии.

Выпиши изученные государства Восточной Европы и их столицы.

Государство Восточной Европы	Столица
Польша	
Ч	
С	
В	
Р	
Б	
Сербия и Ч	
Э	
Л	
Л	
Б	
У	
М	

АЗИЯ

Азия занимает бóльшую часть материка Евразия. Условно Азия делится на Центральную, Юго-Западную, Южную, Восточную и Юго-Восточную. Заполни схему.



ЦЕНТРАЛЬНАЯ АЗИЯ

Пользуясь политической картой, выпиши государства Центральной Азии.

К

--	--	--	--	--	--	--	--	--	--	--	--	--	--	--	--	--	--	--	--	--

У

--	--	--	--	--	--	--	--	--	--	--	--	--	--	--	--	--	--	--	--	--

К

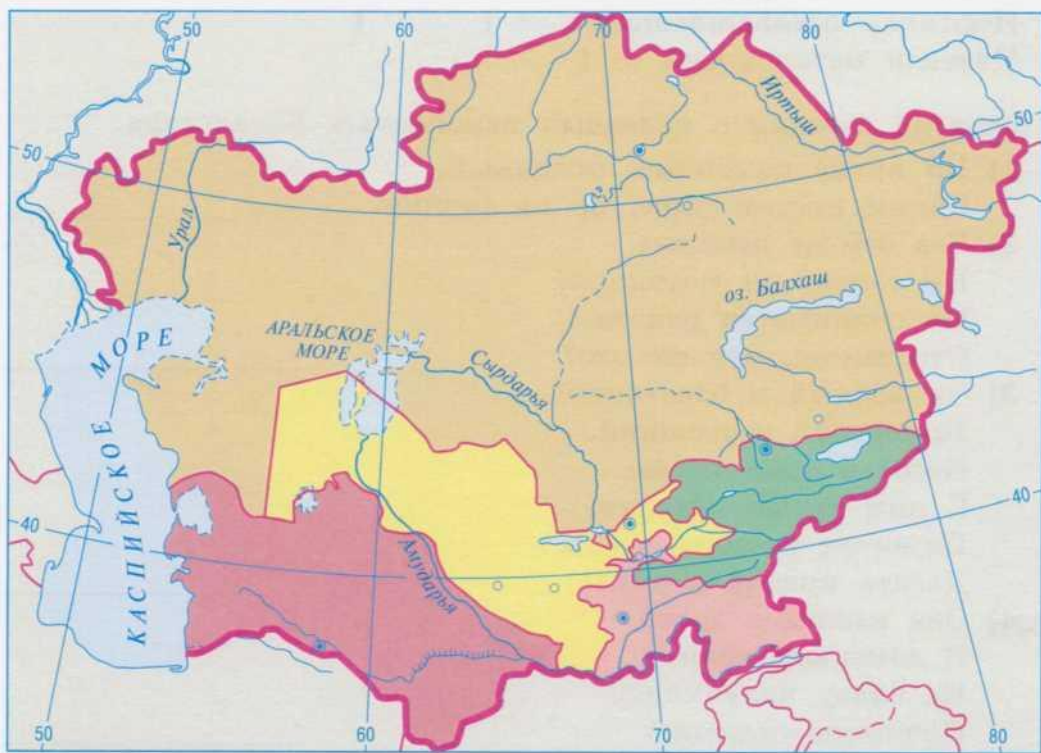
--	--	--	--	--	--	--	--	--	--	--	--	--	--	--	--	--	--	--	--	--

Т

--	--	--	--	--	--	--	--	--	--	--	--	--	--	--	--	--	--	--	--	--

Т

--	--	--	--	--	--	--	--	--	--	--	--	--	--	--	--	--	--	--	--	--



КАЗАХСТАН (РЕСПУБЛИКА КАЗАХСТАН)

1. Отметь на карте Центральной Азии (с. 77) границы Казахстана, его столицу и крупные города.

2. Дополни предложения. Пользуйся статьёй учебника (с. 107—108).

Самая протяжённая граница у Казахстана с _____.
 На западе страну омывает _____ море. Рельеф Казахстана в основном _____. На западе лежит _____
 низменность, на юге — _____. На востоке и юго-востоке вдоль границы с Китаем поднимаются снежные вершины гор _____ и _____. Климат Казахстана _____.

3. Определи, какие полезные ископаемые добывают в Казахстане, и обозначь их условными знаками (см. учебник на с. 107).

Каменноугольная промышленность — ()

Чёрная металлургия — ()

Нефтяная промышленность — ()

Цветная металлургия — ()

4. Отгадай загадки о полезных ископаемых Казахстана.

1) На кухне помощник отличный,
 Синим цветом горит он от спички. _____

2) Без неё не побежит
 Ни такси, ни мотоцикл,
 Не поднимется ракета.
 Отгадай-ка, что же это? _____





3) Он чёрный и блестящий,
 Помощник настоящий.
 Несёт в дома тепло,
 С ним уютно и тепло.
 Помогает плавить сталь,
 Делать краску и эмаль. _____

4) Она варилась долго
 В доменной печи,
 На славу получились
 Ножницы, ключи. _____

5. Ведущая отрасль сельского хозяйства Казахстана — растениеводство. Используя рисунки, определи, что выращивают на полях страны.



6. Обширные пастбища и сенокосы создают хорошие условия для животноводства. Определи по контурам и подпиши, каких животных разводят в Казахстане.



7. Используя слова для справок, дополни рассказ, вписав в клеточки названия городов Казахстана.

--	--	--	--	--	--	--	--

— в 1997 году этот город стал столицей Казахстана.

--	--	--	--	--	--	--	--	--	--	--

— центр угольной промышленности, расположенный в центре Карагандинского угольного бассейна.

--	--	--	--	--	--	--	--	--	--

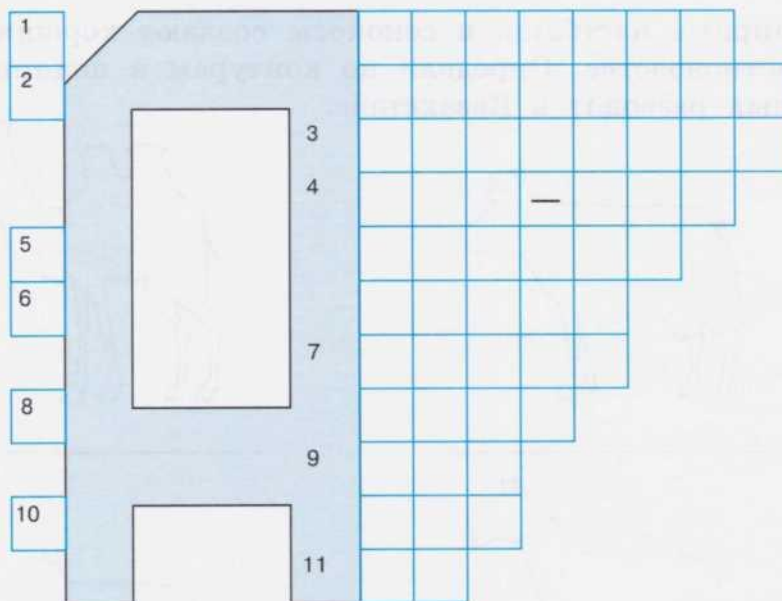
— космодром, откуда в 1961 году первым в космос отправился Ю. А. Гагарин.

--	--	--	--	--	--

— бывшая столица Казахстана, расположена в горах Тянь-Шаня на высоте 700—900 м, название переводится как «отец яблок», потому что в городе и округе много яблоневых садов.

Слова для справок: *Байконур, Алма-Ата, Астана, Караганда.*

8. Реши кроссворд.



1. Самое большое по площади государство Центральной Азии.
2. Море, которое омывает Казахстан на западе.
3. Море, лежащее на юге страны.
4. «Отец яблок» — бывшая столица Казахстана.
5. Название космодрома.
6. Первый космонавт, старто-

вавший с Байконура. 7. Современная столица Казахстана. 8. Самое крупное озеро Казахстана. 9. Оросительный канал в Азии. 10. Пастух, пасущий овец. 11. Горное селение в Казахстане.

Дата _____

УЗБЕКИСТАН (РЕСПУБЛИКА УЗБЕКИСТАН)

1. Отметь границу Узбекистана на карте (с. 77).
2. Пользуясь картой, определи, как называется пустыня на западе Узбекистана, какие горы окружают страну на юге и юго-востоке.

3. Подпиши условные знаки полезных ископаемых, добываемых в Узбекистане.









4. Вставь в текст пропущенные слова. Используй слова для справок.

Узбекистан граничит с _____, _____, _____, _____ и _____. На западе страны расположена _____ низменность, на востоке — горные хребты _____. На равнинах раскинулись _____ и пустыня _____. Климат в Узбекистане _____, _____. Крупные реки _____ и _____ впадают в _____ море. В Узбекистане находятся месторождения _____, _____, _____, _____, _____, _____. Ведущая отрасль экономики — _____. _____ — главная сельскохозяйственная культура Узбекистана. В садах зреют _____, _____, _____, _____,

на бахчах — сочные, сладкие _____. Животноводы занимаются разведением _____. В городах работают _____, _____, _____ комбинаты.

Слова для справок: *Туранская, Тянь-Шань, Казахстан, Туркменистан, Афганистан, Таджикистан, Киргизия, степь, Кызылкум, Аральское, Амударья, Сырдарья, жаркий, сухой, уголь, серебро, золото, алюминиевые руды, нефть, медь, хлопчатник, сельское хозяйство, инжир, яблоки, виноград, дыни, гранаты, хлопкопрядильные, шелкопрядильные, текстильные, каракульские овцы.*

5. Выпиши из текста статьи учебника (с. 112) причину обмеления Аральского моря.

6. Собери в корзину фрукты, выращиваемые в Узбекистане. Напиши названия фруктов в клеточках.



7. Найди в квадрате названия растений пустынной зоны Узбекистана и выдели их цветными карандашами.



О	С	О	А	К
С	С	К	А	А
О	А	А	У	Ц
Л	К	С	Л	И
Я	Н	К	А	Я



8. Какое растение называют «белое золото»? Почему?

9. Заполни таблицу «Животный мир Узбекистана».

Животные	Звери	Птицы
Место обитания		
Пустыня	_____	_____
	_____	_____
	_____	_____
Берега рек	_____	_____
	_____	_____
	_____	_____

10. Выпиши из текста статьи и словаря учебника значения следующих слов:

Арык — _____

Кокон — _____

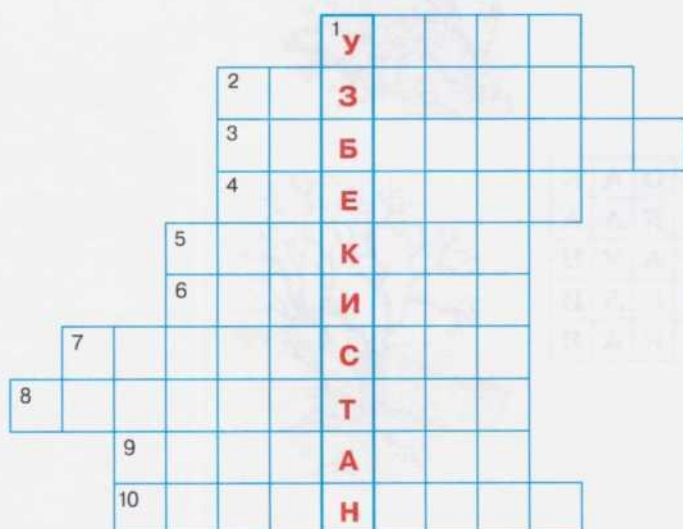
Медресе — _____

Мечеть — _____

Плов — _____

Тюбетейка — _____

11. Реши кроссворд.



1. Житель Узбекистана.
2. Пустыня на территории Узбекистана.
3. Национальный головной убор узбеков.
4. Животное пустыни.
5. Столица Узбекистана. В переводе означает «каменный город».
6. Птица, живущая на берегах Амударьи и Сырдарьи.
7. Море, в которое впадает Амударья.
8. Главная сельскохозяйственная культура Узбекистана («белое золото»).
9. Река, протекающая по территории Узбекистана.
10. Низменность на западе Узбекистана.

Дата _____

ТУРКМЕНИСТАН (ТУРКМЕНИЯ)

1. Отметь Туркменистан и его столицу на карте (с. 77).
2. Пользуясь картой и учебником, дополни предложения.



Туркменистан граничит на севере и северо-востоке с _____, на юге с _____ и _____. Почти вся земля Туркменистана — это пустыни; самая большая — _____. С запада Туркменистан омывают воды _____ моря. Климат _____, осадков выпадает _____. Крупная река _____ протекает только по восточной границе страны. На юге более чем на 1000 км протянулся _____ канал.

3. Объясни и запиши значения следующих слов. В случае затруднения воспользуйся статьёй учебника и словарём.

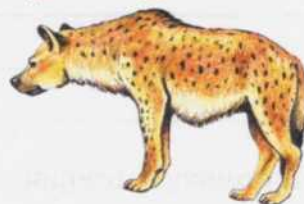
Бархан — _____

Оазис — _____


7. Найди в квадрате названия животных горной местности Туркменистана. Выдели их цветными карандашами. Остались четыре неиспользованные буквы. Составь из них слово — название горной птицы.



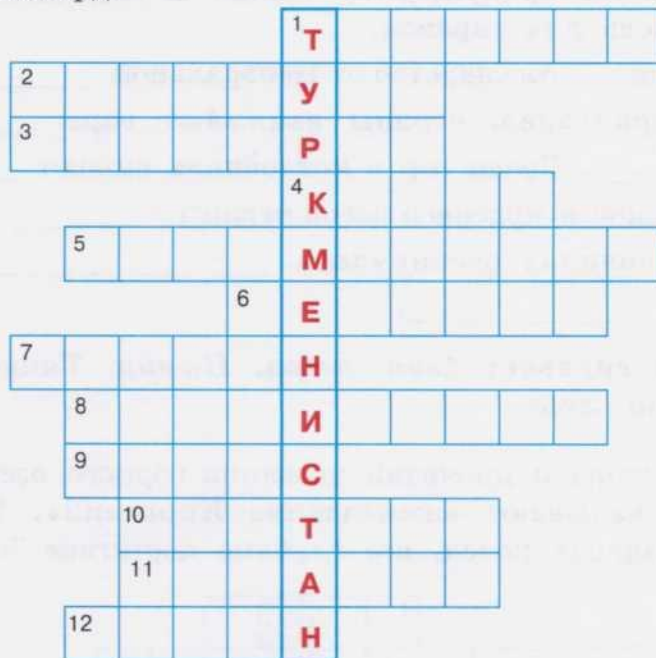
Б	Р	Л	Е	О
А	В	А	Л	П
Р	Г	Р	А	А
С	И	Ё	Н	Р
О	Е	Н	А	Д



8. Рассмотрите картинки. Подпиши названия животных, которых разводят туркменские животноводы.



9. Реши кроссворд.



1. Житель Туркменистана.
2. Пустыня в Туркменистане.
3. Река, протекающая по территории Туркменистана.
4. Редкое копытное животное.
5. Государственный язык Туркменистана.
6. «Корабль пустыни».
7. Песчаный холм в пустыне.
8. Море, в которое несёт свои воды Амударья.
9. «Зелёный остров» в пустыне.
10. Природная зона Туркменистана.
11. Столица Туркменистана.
12. «Пустынный крокодил».

Дата _____

КИРГИЗИЯ (КИРГИЗСКАЯ РЕСПУБЛИКА)

1. Отметь на карте (с. 77) границы Киргизии.
2. Впиши в схему соседние с Киргизией государства.

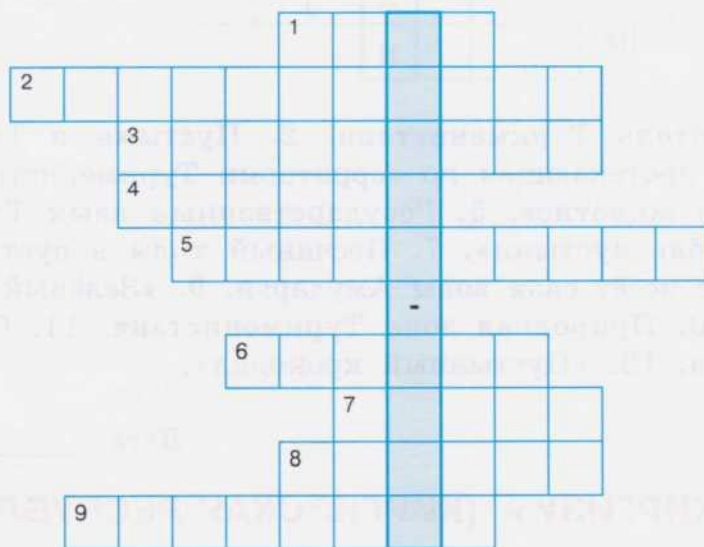


3. Вставь в текст пропущенные слова. В случае затруднения используй слова для справок.

Киргизия — государство в Центральной _____. Почти всю территорию страны занимают горы _____, _____. Среди гор в котловинах синеют _____. Самое большое и красивое озеро страны — _____. В горных долинах раскинулись _____. Склоны гор покрыты _____.

Слова для справок: Азия, озёра, Памир, Тянь-Шань, Иссык-Куль, степи, леса.

4. Реши кроссворд и прочитай название горного озера в Киргизии. Это озеро называют «жемчужина Киргизии». В него впадает около 80 горных речек, его глубина достигает 702 м.



1. Часть света, в которой находится Киргизия. 2. Государство, расположенное юго-западнее Киргизии. 3. Государство, которое находится к северу от Киргизии. 4. Самый высокий пик Тянь-Шаня (7439 м). 5. Государство на западе от Киргизии. 6. Столица Киргизии. 7. Национальный напиток киргизов из кобыльего молока. 8. Ровная площадка между горами. 9. Река, берущая начало в горах Тянь-Шань на территории Киргизии, а протекающая в низовьях по территории Казахстана.

Впиши название высокогорного озера. -

5. Соедини стрелками название животного и место его обитания.

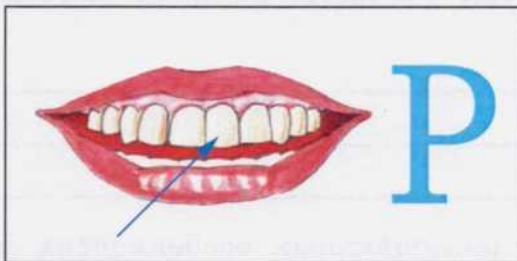
Барсук
Заяц
Лиса
Кабан
Медведь

Степь

Горные леса

Каменная куропатка
Дикобраз
Рысь
Горлица

6. Разгадай ребусы. В них зашифрованы названия животных, обитающих в Сары-Челекском заповеднике.



7. Заполни таблицу «Отрасли сельского хозяйства Киргизии».

Скотоводство	Растениеводство



3. Ответь на вопросы.

Почему значительная часть территории Таджикистана на физической карте окрашена в коричневый цвет? _____

Какие реки текут в Таджикистане? _____

С чем связаны проблемы этих рек? _____

Чем отличается климат в долинах и высокогорьях? _____

4. В Таджикистане работают нефтеперерабатывающие, металлургические, химические и машиностроительные заводы. Какие полезные ископаемые добывают в стране, если всё сырьё для заводов есть в Таджикистане?

Для нефтеперерабатывающих — () _____.

Для металлургических — () _____.

Для машиностроительных — () _____.

5. Вставь пропущенные буквы. Дай обобщающее понятие.

Дж__йраны, к__баны, ш__калы, винт__рогие к__злы, ле__парды, бурые м__дведи — это _____.

6. Дополни предложения.

В заповеднике Тигровая Балка водятся _____

Здесь обитает редкое животное, похожее на обычного оленя, — _____.

7. Подпиши, какие растения выращивают в Таджикистане.

1)

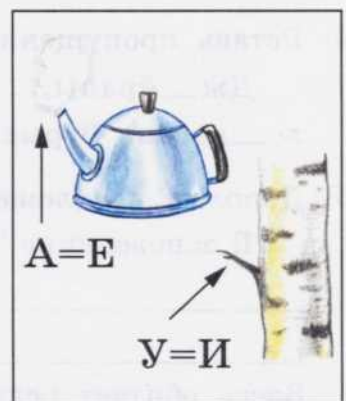

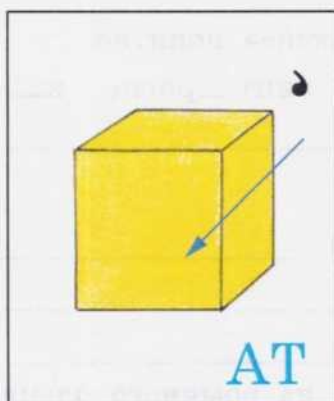
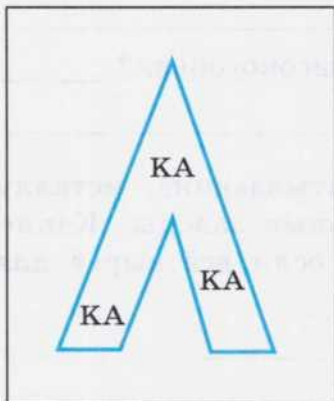




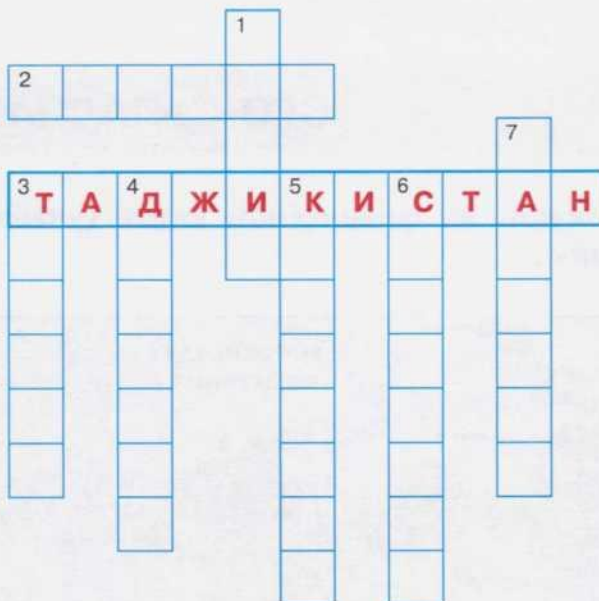
2) Цитрусовые: _____, _____, _____.

3) Главное место в сельском хозяйстве занимает _____.

8. Разгадай ребусы.



9. Реши кроссворд.



1. Горы, занимающие почти всю территорию Таджикистана.
2. Таджикское село.
3. Специальная печь, в которой таджики пекут хлеб.
4. Столица Таджикистана.
5. Северо-восточный сосед Таджикистана.
6. Река, протекающая на северо-востоке Таджикистана.
7. Кафе, где можно выпить чай и отведать национальные таджикские блюда.

10. Подведи итоги. Какие государства находятся в Центральной Азии?

Под названием государства подпиши его столицу.
Что общего у этих государств?

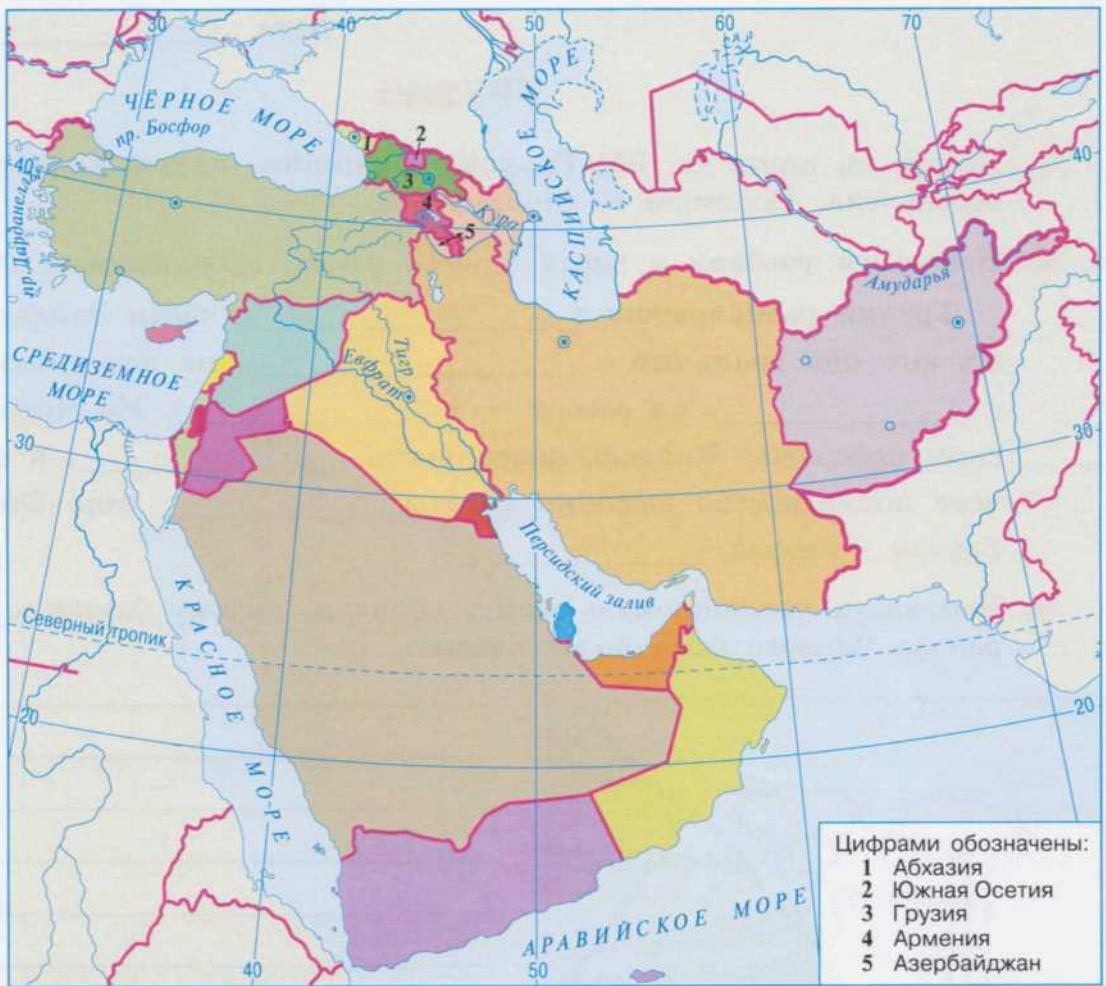
ЮГО-ЗАПАДНАЯ АЗИЯ

1. Покажи на физической карте (учебник, с. 128) Юго-Западную Азию.



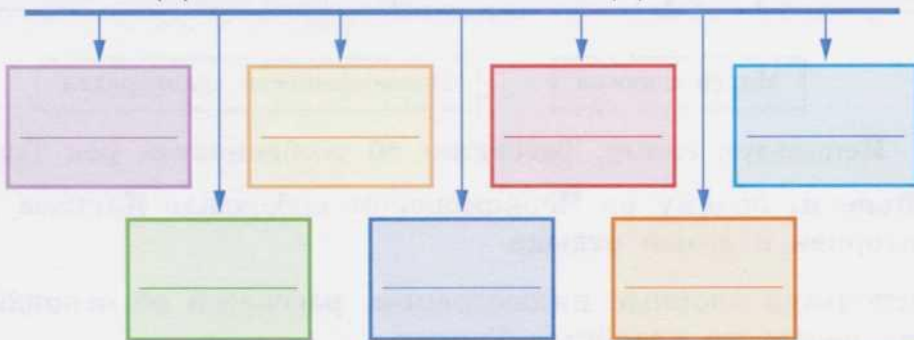
На каких полуостровах, кроме материковой части, она находится? _____

По цвету на карте определи, какое большое нагорье находится в Юго-Западной Азии. _____ нагорье.



2. Пользуясь политической картой Юго-Западной Азии, заполни схему. Обрати внимание на то, что названия всех государств пишутся с заглавной буквы. (Грузия, Азербайджан, Армения, Турция, Ирак, Иран, Афганистан.)

ГОСУДАРСТВА ЮГО-ЗАПАДНОЙ АЗИИ




ГРУЗИЯ

1. Найди на карте (с. 95) Грузию и напиши, какой цифрой она обозначена. Подпиши её столицу.

2. Используя учебник и карту (с. 94), вставь пропущенные слова.

Грузия расположена в _____ части Закавказья. На юге она граничит с _____, на юго-востоке — с _____, на севере — с _____. На Черноморском побережье Кавказа поверхность _____, а на севере поднимаются высокие хребты _____ гор. Столица Грузии — город _____.

3. Используя предлагаемую схему, объясни, почему ближе к побережью Чёрного моря более влажно.



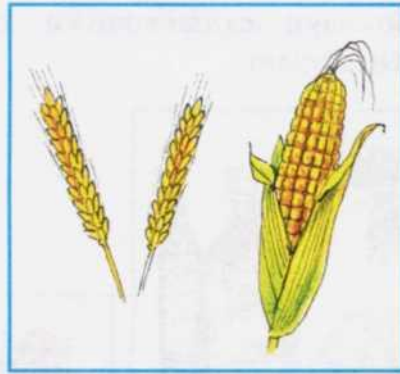
4. Соедини стрелками словосочетания.

Горные реки	Быстрое течение	Много гидроэлектростанций
Много порогов	Невозможность судоходства	

Используя схему, расскажи об особенностях рек Грузии.

5. Объясни, почему на Черноморском побережье Кавказа много санаториев и домов отдыха.

6. Используя опорные иллюстрации, расскажи об основных отраслях сельского хозяйства Грузии.



7. Запиши названия растений, которые произрастают в Грузии.

Цитрусовые: _____

Розоцветные: _____

Хвойные: _____

Слова для справок: мандарин, пихта, слива, лимон, яблоко, сосна, апельсин, алыча, груша.

8. Дай определение.


Грузия —

Боржоми, Цхалтубо —

Виноградарство — с / х

Тбилиси —

9. Используя иллюстрации, назови ведущие отрасли промышленности Грузии.



10. Разгадай ребусы.



Республика _____

Столица _____

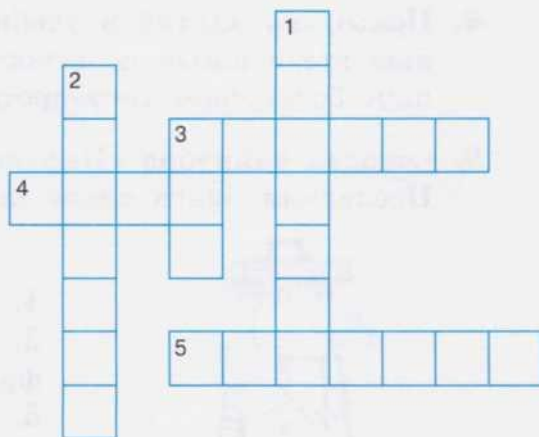
11. Реши кроссворд.

По горизонтали:

3. Море, омывающее берега Грузии. 4. Река в Грузии.
5. Столица Грузии.

По вертикали:

1. Название грузинского города, который известен одноимённой минеральной водой.
2. Основное население Грузии.
3. Растение, листья которого заваривают для приготовления ароматного напитка.



12. Составь рассказ о столице Грузии по плану:

- | | |
|----------------------|----------------------------|
| 1) Название столицы. | 4) Наличие гор. |
| 2) Возраст города. | 5) Исторические памятники. |
| 3) Наличие реки. | 6) Национальные традиции. |

Дата _____

АЗЕРБАЙДЖАН (АЗЕРБАЙДЖАНСКАЯ РЕСПУБЛИКА)

1. Найди на карте (с. 95) Азербайджан и подпиши, какой цифрой он обозначен. Подпиши его столицу.
2. Используя карту, дополни предложения.
Азербайджан расположен на берегу _____ моря.
Большую часть страны занимают _____ горы.
3. Соедини стрелками словосочетания и составь рассказ об особенностях климата Азербайджана.

Высокие Кавказские горы

Тёплая зима на низменностях

Скудная растительность

Сухие степи

Не пропускают влажные ветра с Чёрного моря

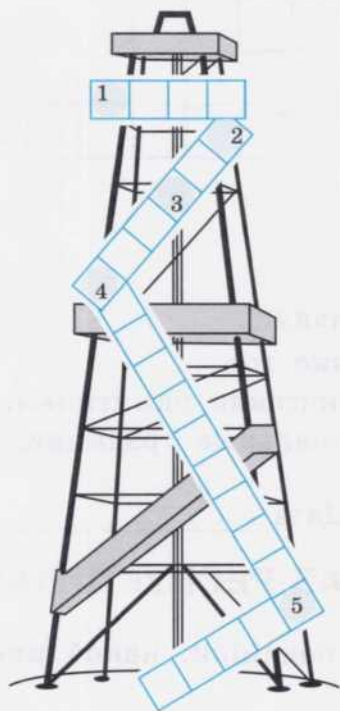
Мало осадков

Холодная зима в горах

Жаркое лето

Необходимо искусственное орошение

4. Пользуясь картой в учебнике на с. 128, определи, какие полезные ископаемые добывают в Азербайджане. Что является главным богатством государства?
5. Отгадай чайнворд «Нефтяная вышка». Впиши слова сверху вниз. Последняя буква слова является началом следующего слова.



1. Приток Куры.
2. Питательный напиток из ягод или фруктов.
3. Крупная река Азербайджана.
4. Государство со столицей Баку.
5. Главное богатство Азербайджана.

Расскажи, какие ещё полезные ископаемые добывают в Азербайджане.

6. Выдели лишнее слово в каждом ряду. Зачеркни его. Объясни, какое отношение к Азербайджану имеют оставшиеся слова. Составь с ними предложения.

Алыча, яблоня, пальма, груша.

Самшит, берёза, тис.

Медведь, кавказский олень, кролик, рысь.

Тур, зубр, горный козёл.

Белый медведь, полёвка, тушканчик, змея.

Гусь, голубь, лебедь, пеликан, утка.


Чай, маслина, мох, кукуруза, рис, подсолнечник.

Слова для справок: ценные и редкие породы деревьев, в лесах водятся, дикорастущие плодовые деревья, высоко в горах обитают, на зимовку прилетают, в степях и полупустынях обитают, выращивают сельскохозяйственные культуры.

7. Отгадай загадки о растениях Азербайджана.


- 1) Азербайджан — богатая страна.
Там горы есть, луга, леса.
И на полях там колосится,
Блестя как золото, _____.
- 2) Я рассыпчатый и белый,
Как в России снег зимой.
Попадаю в плов я смело.
Угадай, кто я такой? _____
- 3) Мои ягоды всегда
На ветке вместе, как семья,
Пусть нас много — так не скучно.
Мы вкусны и неразлучны.
На горошинки похожи,
Иногда и цветом схожи.
К вам на стол попасть мы рады,
Угоститесь _____.

8. Определи место обитания этих животных (поставь стрелки).



9. На берегу Каспийского моря и на островах находится большой Кызыл-Агачский заповедник — царство водоплавающих птиц. Подпиши, какие птицы зимуют и живут в этом заповеднике.













10. Реши кроссворд.



1. Приток Куры. 2. Горючее полезное ископаемое, добываемое в Азербайджане. 3. Полезное ископаемое, главное богатство страны. 4. Самая крупная река в Азербайджане. 5. Столица государства. 6. Море, омывающее Азербайджан с востока. 7. Культура, выращиваемая на плантациях орошаемых земель страны. 8. Цитрусовый фрукт. 9. Животное, обитающее в степях и полупустынях Азербайджана. 10. Небольшая кислая слива. 11. Плодовое дерево, которое растёт не только в садах, но и на склонах гор Азербайджана.


Дата _____

АРМЕНИЯ (РЕСПУБЛИКА АРМЕНИЯ)

1. Найди на карте (с. 95) Армению и подпиши, какой цифрой она обозначена. Подпиши её столицу.
2. Заполни схему «Соседние государства Армении».



3. Объясни, почему климат Армении в разных районах неодинаковый.
4. Подпиши условные знаки полезных ископаемых, добываемых в Армении.



О каком полезном ископаемом эта загадка?

Он очень прочен и упруг.

Строителям — надёжный друг.

Дома, ступени, постаменты

Красивы станут и заметны. _____

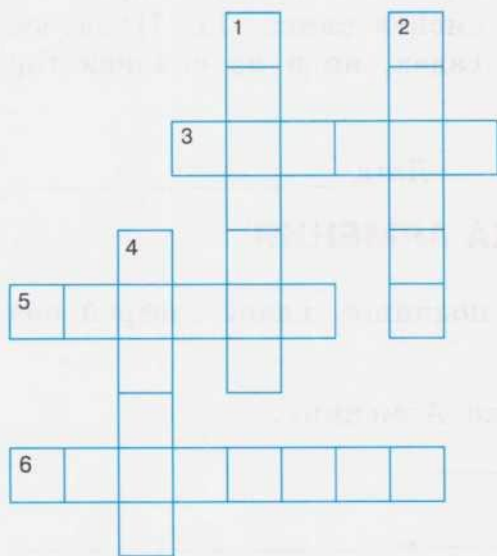
5. Ответь на вопросы.

Как называется столица Армении? _____

Как называется долина, где находится Ереван? _____

Какое озеро, расположенное на высоте почти 2000 м, считается гордостью Армении? _____

6. Реши кроссворд.



1. Птица — символ Армении.
2. Полезный фрукт тёмно-красного цвета, выращиваемый в долинах Армении.
3. Столица Армении.
4. Камень, полезное ископаемое Армении, используется в строительстве.
5. Рыба, которая водится в озёрах Армении.
6. Ядовитый паук, встречающийся в полупустынях Армении.

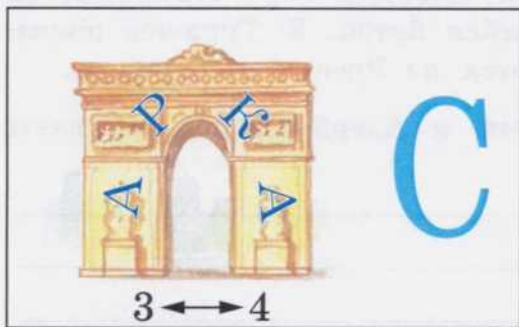
7. Вставь в текст пропущенные слова.

Армения находится в _____ Азии. Она граничит на севере с _____, на востоке с _____, на юге с _____, а на западе с _____. Столица государства — город _____. Основное население — _____. Государственный язык _____. Поверхность страны _____. Высочайшая точка Армении — гора _____. Армения расположена в _____ зоне.

Слова для справок: Юго-Западная, Грузия, Азербайджан, Иран, Турция, Ереван, армяне, армянский, горная, Арагац, сейсмоопасная.


8. Составь устный рассказ о столице Армении. Используй в своём повествовании следующие слова и словосочетания: Ереван, древний город, памятники истории и архитектуры, древние храмы, здания из розового туфа, Детская картинная галерея.

9. Разгадай ребусы. Запиши ответы.



Самая крупная река Армении —

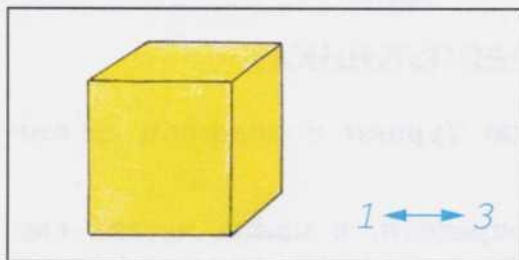
--	--	--	--



Самое крупное озеро


Армении —

--	--	--	--



Растение Армении —

--	--	--



Животное Армении —

--	--	--	--



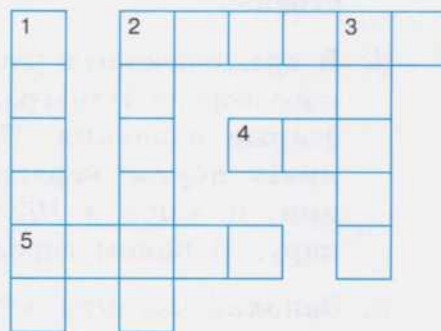
Столица Армении —

--	--	--	--	--	--

10. Реши кроссворд.

По горизонтали:

- Основное население Армении.
- Красивый строительный камень, из которого построено большое количество домов в городах и сёлах Армении.
- Река, которая протекает вдоль границы Армении с Турцией и Ираном.



По вертикали:

1. Столица Армении. 2. Самая высокая гора Армении, её вершина похожа на нераспустившийся бутон. 3. Горючее полезное ископаемое, которое поставляется из России в Армению.

- 11.** Объясни, почему Грузию, Армению и Азербайджан называют Закавказскими республиками.

Дата _____

ТУРЦИЯ (ТУРЕЦКАЯ РЕСПУБЛИКА)

1. Отметь на карте (с. 95) территорию Турции и подпиши её столицу.
2. Пользуясь политической картой, определи, в каких частях света находится Турция, и дополни предложения.

Турция расположена одновременно в _____ и в _____. Большая часть территории страны лежит в _____ и находится на _____ полуострове. Небольшая часть страны находится в _____.

3. Подпиши на карте моря, омывающие территорию Турции, и проливы.
4. По физической карте в учебнике на с. 128 определи рельеф страны.
5. В средневековых русских летописях встречается название турецкого города Царьград. Затем он назывался Константинополь. Это старые названия. Сегодня этот самый крупный город Турции имеет другое название. Долгое время город был столицей Турции, и лишь в 1923 году столица Турции переместилась в Анкару. О каком городе идёт речь? _____
6. Заполни таблицу «Растительный мир Турции».

Дикорастущие растения			Культурные растения
Морское побережье	Степи	Горы	

7. В рассказе о Турции допущены ошибки. Зачеркни по одному лишнему слову в каждом предложении.

Большая часть Турции расположена в Азии, меньшая — в Африке.

С Турцией граничат государства Сирия, Иран, Греция, Франция.

На территории страны водятся рыси, волки, газели, олени, слоны.

Из полезных ископаемых в Турции добывают нефть, уголь, железную руду, алмазы, цинк, серу.

В горных районах страны занимаются животноводством, там разводят коз, овец, страусов, коров.

Из шерсти ангорских коз делают мохер.

На рынках в России можно увидеть турецкие товары из кожи, золота, бумаги.

8. Соедини стрелкой вопрос и правильный ответ.

Самый большой город Турции
 Пролив, соединяющий две части Стамбула
 Столица Турции
 Название Стамбула в древности
 Туристическая столица Турции
 Самая высокая гора Турции
 Моря, омывающие Турцию

Стамбул
 Чёрное, Средиземное
 Анкара
 Босфор
 Большой Арарат
 Константинополь
 Анталья

9. Составь устно рассказ о Турции, пользуясь опорными словами.

- 1) Чёрное, Средиземное, Мраморное, Эгейское моря;
- 2) плоскогорье, равнины, горы, Большой Арарат;
- 3) субтропический, континентальный климат;
- 4) низкорослые деревья, кустарники, вечнозелёные дубы и сосны;

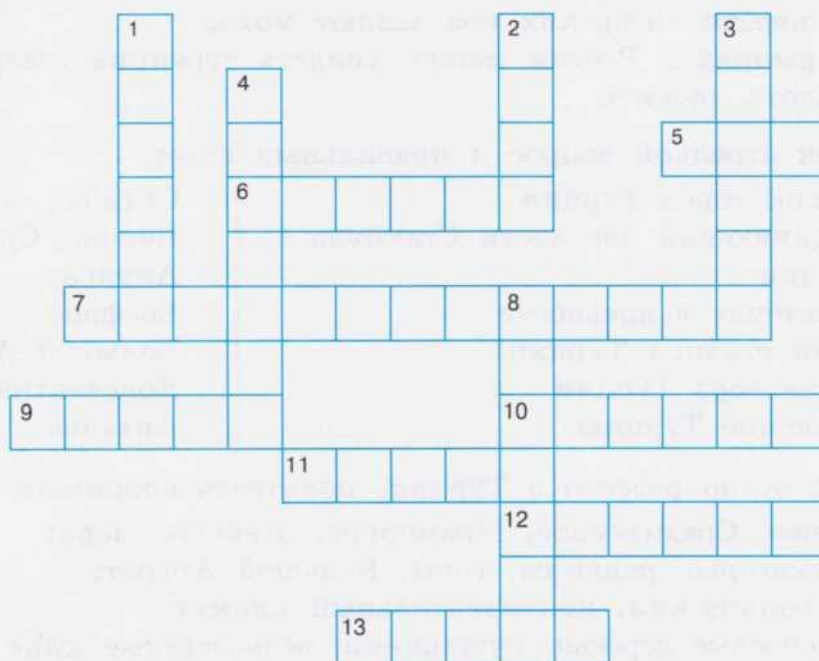


- 5) пшеница, рожь, табак, лимоны, мандарины, виноград, чай;
- 6) козы, овцы, коровы;
- 7) варежки, шапки, свитера, шарфы;
- 8) море, пляжи, курорты, туристы.

10. В любом турецком городе есть базар. Напиши на пустых чемоданах то, что ты купил бы на базаре в Турции.



11. Реши кроссворд.



1. Море, омывающее берега Турции. 2. Часть света, в которой расположен полуостров Малая Азия. 3. Известный турецкий курорт. 4. Туристическая столица Турции. 5. Напиток, который очень любят турки. 6. Государство, большая часть которого расположена в Юго-Западной Азии. 7. Турция — сейсмически активный район. Здесь бывают 8. Самый большой город Турции. 9. Святая, в честь которой в 6-м веке был построен православный храм. Он расположен в центре Стамбула. 10. Столица Турции. 11. Официальная религия многих народов Юго-Западной Азии. 12. Пролив, через который перекинут подвесной мост, соединяющий Европу и Азию. 13. Полезное ископаемое, добываемое в Турции.

Дата _____

ИРАК (РЕСПУБЛИКА ИРАК)

1. Отметь на карте (с. 95) Ирак и его столицу.
2. Пользуясь политической картой (с. 94), выпиши соседние государства Ирака.

На севере Ирак граничит с _____, на востоке — с _____ и _____, на юге — с _____ и _____, на западе — с _____.

3. Ответь на вопросы.

Какие две реки пересекают Ирак с северо-запада на юго-восток? _____

Как называется столица Ирака? _____

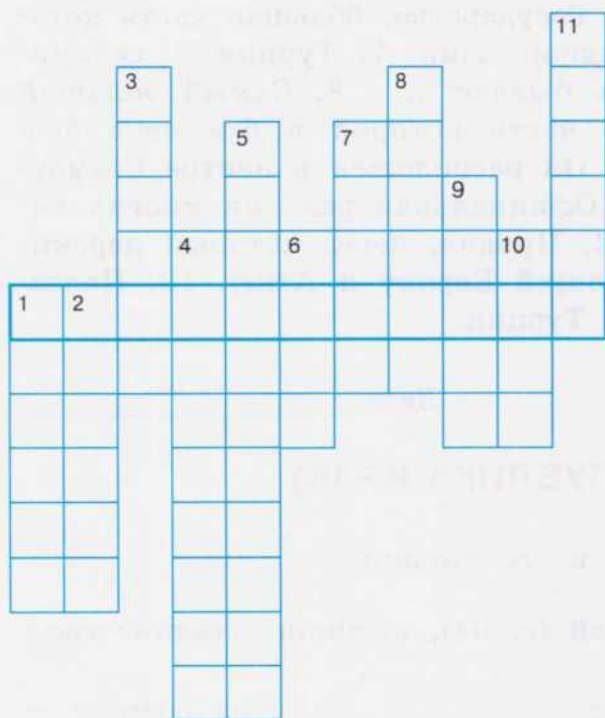
Каким заливом омывается Ирак с юго-востока? _____

Какое полезное ископаемое, которое называют «чёрное золото», является главным сокровищем и капиталом Ирака?

Почему, несмотря на богатейшие запасы нефти, Ирак является одной из самых бедных стран мира? _____



4. Реши кроссворд и узнай ключевое слово, которое подскажет, как называлась эта страна раньше.



1. Мусульманский храм.
2. Главная река Ирака.
3. Самый жаркий месяц в стране.
4. В переводе с греческого означает Ирак.
5. Климат на юге страны.
6. Поверхность на границе с Турцией.
7. Главное полезное ископаемое Ирака.
8. Столица Ирака.
9. Растение, которым зарастают болота.
10. Река, носящая название хищного животного.
11. Страна, граничащая с Ираком, — Саудовская

5. Выбери правильные ответы и запиши их.

Государственный язык Ирака _____

Реки Тигр и Евфрат впадают в _____

Что выращивает население Ирака? _____

Кого разводят крестьяне? _____

По вероисповеданию жители Ирака _____

Персидский залив


Верблюды, лошади,
овцы, козы

Мусульмане


Арабский

Пшеница, ячмень,
рис, хлопчатник,
овощи, фрукты


6. Разгадай ребусы.




Государство _____



Город _____



Река _____

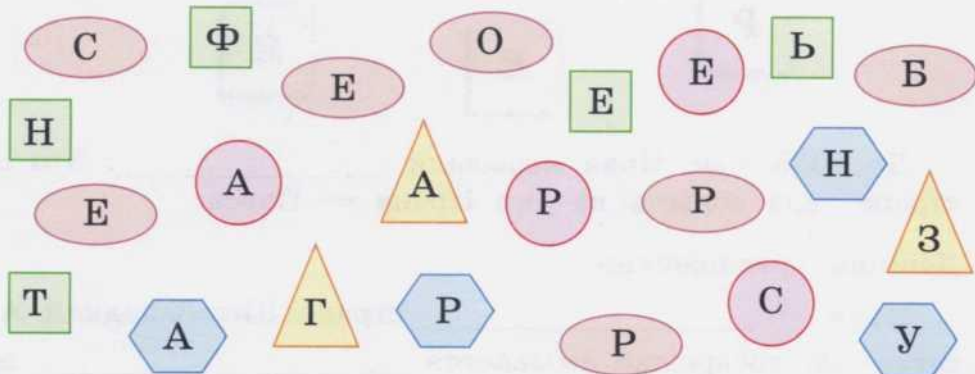


Река _____



Население _____

7. Найди соответствующие геометрические фигуры. Выпиши из них буквы, из которых составь названия полезных ископаемых, добываемых в Ираке.













8. Закончи предложения.

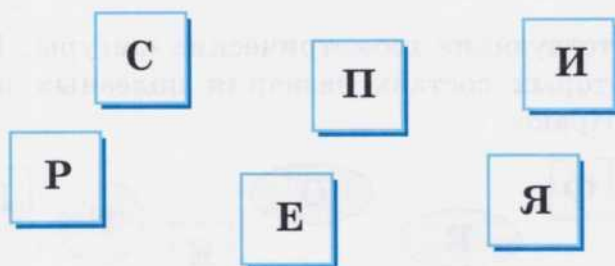
Ирак расположен в _____. Ирак имеет выход к _____. Основу экономики составляет _____. Столица Ирака — _____. Национальным блюдом Ирака являются _____.

Слова для справок: Багдад, нефть, Юго-Западная Азия, Персидский залив, финики.

Дата _____

ИРАН (ИСЛАМСКАЯ РЕСПУБЛИКА ИРАН)

1. На карте (с. 95) обведи территорию Ирана и подпиши его столицу.
2. Соедини буквы так, чтобы прочесть прежнее название Ирана.



До 1935 года Иран называли _____. Это название стране дала область на юге Ирана — Парса.

3. Допиши предложения.

Иран — _____ страна Юго-Западной Азии. На севере её побережье омывается _____ морем, а

на юге _____ заливом. На территории Ирана находится _____ нагорье. Поверхность — _____. Природная зона в основном _____. Большинство рек Ирана _____.

Слова для справок: Персидский, крупная, Каспийское, Иранское, равнины, низменности, горы, пустыня, горные.

4. Объясни устно, от чего зависит климат в Иране.
5. Заполни таблицу, используя материал учебника (с. 147).

Сельское хозяйство Ирана

Что выращивают	Каких животных разводят

6. Закончи предложения.

В пустынях Ирана обитают _____

На орошаемых землях жители Ирана выращивают _____

В Каспийском море ловят _____

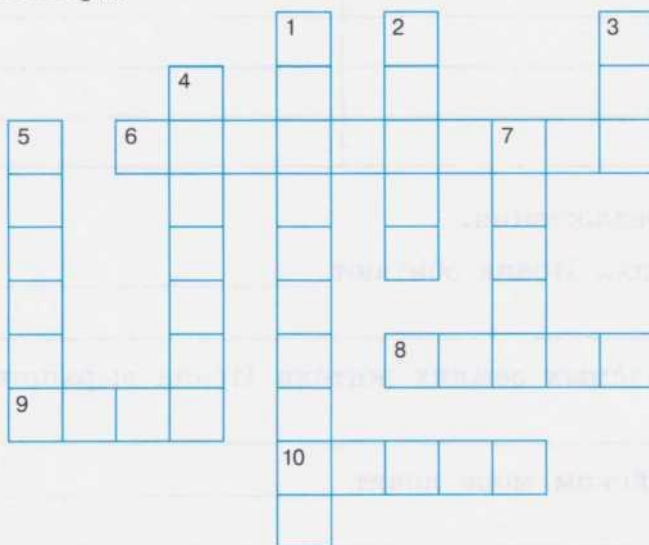
7. «Население Ирана». По первым буквам догадайся, кто проживает в Иране.



8. Попробуй прочитать.



9. Реши кроссворд.



1. Жители Ирана по вероисповеданию.
2. Длинная накидка, закрывающая лицо и тело.
3. Растение, выращиваемое на плантациях Ирана, его листья используют для приготовления ароматного напитка.
4. Столица Ирана.
5. Сухофрукт, экспортируемый из Ирана в Россию.
6. Залив, воды которого омывают Иран на юге.
7. Изделие, которое ткут в небольших мастерских. Персидский ... славится во всём мире.
8. Национальность большей части населения Ирана.
9. Крупное государство Юго-Западной Азии.
10. Ценное горючее полезное ископаемое, добываемое в Иране, которое идёт на экспорт.

АФГАНИСТАН (ИСЛАМСКАЯ РЕСПУБЛИКА АФГАНИСТАН)

1. Отметь на карте (с. 95) Афганистан и его столицу.
2. Используя статью учебника (с. 149), дополни предложения.

Афганистан в основном _____ страна. Преобладают каменные _____ и сухие _____. Через всю страну протянулись мощные _____ хребты. Население сосредоточено в _____. В Афганистане климат _____. Единственная судоходная река страны — _____.

3. Заполни таблицу, используя приложение к учебнику.

Сельское хозяйство Афганистана

Растениеводство	Садоводство	Животноводство
_____	_____	_____
_____	_____	_____
_____	_____	_____

4. Прочитай начало высказывания и найди его продолжение. соедини части стрелками.

В Афганистане выращивают мелкий рогатый скот,

потому что часто бывают засухи, а реки маловодны.

Внешняя торговля очень важна для Афганистана,

потому что на территории страны много степей и горных пастбищ.

Земли Афганистана нуждаются в искусственном орошении,

потому что в стране плохо развита промышленность.

5. Вместо вопросительных знаков напиши недостающие слова.
1) В Афганистане выращивают фрукты:

ГРАНАТ

?

ПЕРСИК

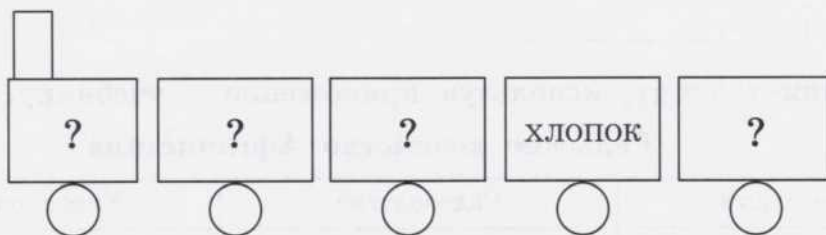
?

?

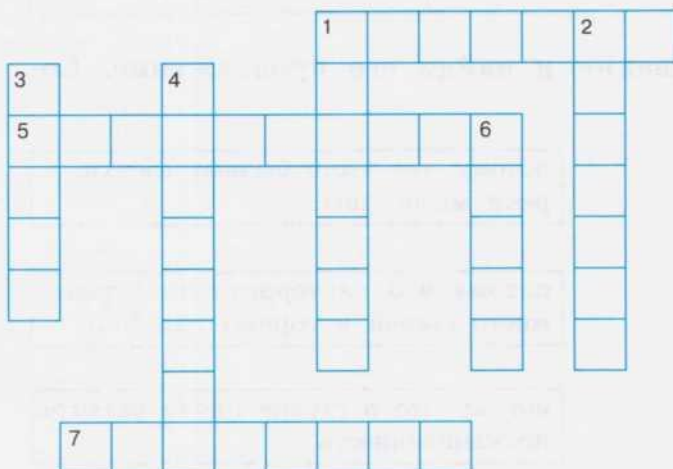
2) Недра Афганистана богаты полезными ископаемыми — это:



3) На экспорт идут:



6. Реши кроссворд.



По горизонтали:

1. Самая многочисленная народность Афганистана. 5. Одна из беднейших стран мира, где более 20 лет идёт гражданская война. 7. Продукция, по экспорту которой Афганистан занимает одно из первых мест в мире.

По вертикали:

1. Природная зона в Афганистане. 2. На западе Афганистана находится Иранское 3. Столица Афганистана. 4. Крупный город страны. 6. Молитва у мусульман.

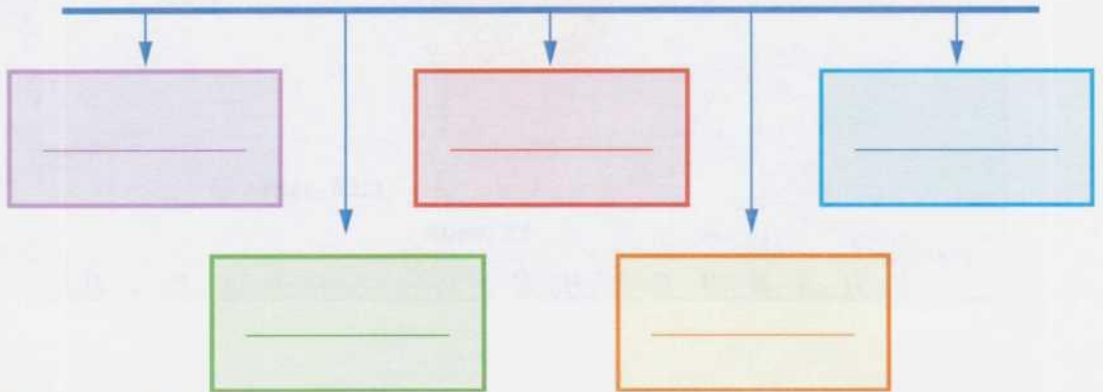
ЮЖНАЯ АЗИЯ

Определи по политической карте, какие государства расположены в Южной Азии. Отметь их на схеме (с. 118).





ЮЖНАЯ АЗИЯ




ИНДИЯ (РЕСПУБЛИКА ИНДИЯ)

1. На карте (с. 118) обведи границу Индии. Подчеркни названия океана и залива, омывающих берега полуострова. Подпиши столицу и название гор. Обведи крупнейшую реку Индии.

2. Используя статью учебника, дополни предложения.

Индия граничит с _____, _____, _____, _____, _____ и _____. Она расположена на полуострове _____. На севере возвышаются горы _____. Климат Индии _____.

3. Реши кроссворд «Индия». Все ответы начинаются с буквы «И».



1. Самый тёплый океан. 2. Страна, которая омывается водами этого океана. Путь к ней искали все европейцы. 3. Полуостров, на котором находится страна. 4. Жители страны. 5. Одна из трёх самых больших рек этой страны.

4. Ответь на вопросы. Из таблицы выбери буквы, которые соответствуют правильным ответам. Впиши их в клеточки.

1) Как называется регион в Азии, в котором расположена Индия?

2) Какой русский путешественник первым побывал в Индии?

3) Какая страна занимает второе место в мире по численности населения?

4) Как называется самая крупная река Индии?

5) Как называется столица Индии?



6) Где родина цейлонского чая?


7) Как называется национальная одежда женщин в Индии?

Ответ	Шифр
Южная Азия	Г
Индия	М
Нью-Дели	Л
Никитин	И
Ганг	А
Сари	И
Шри-Ланка	А

Ответ:

5. Разгадай ребусы.






6. Назови сельскохозяйственные растения, выращиваемые в Индии.


Нарисуй животных и впиши их названия в клеточки.

7. Священное животное Индии.



--	--	--	--	--	--

Животное-символ, которое используют и как средство передвижения, и как средство для переноски грузов.



--	--	--	--

8. Животный мир Индии очень разнообразен. Подпиши названия тех животных, которых ты видишь на рисунках. Найди недостающую деталь и дорисуй её.



--	--	--	--	--	--	--	--




--	--	--	--	--	--	--	--



--	--	--	--



--	--	--



--	--	--	--

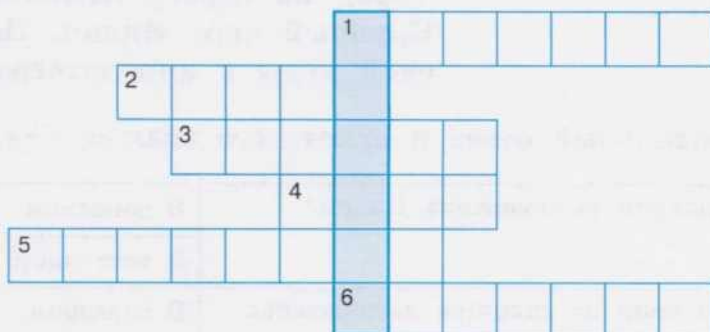


--	--	--	--	--	--	--	--



9. Реши кроссворд «Животный мир Индии». Отгадав кроссворд, ты узнаешь, чья красота начинается с хвоста.

1. Кошка эта черна,
Очень она страшна.
Многие звери боятся
В джунглях с ней повстречаться.
2. Змея очкастая,
Очень опасная.
Смотрит недобро,
Зовут её
3. Зверь огромный, трёхметровый,
А похож он на корову.
4. Больше всех на суше он,
Серый, сильный, добрый

5. По реке плывёт бревно.
Ох, и злющее оно!
Тем, кто в реку угодил,
Нос откусит
6. Он один имеет рог
И к тому же очень строг.
И в округе все стремятся
Никогда с ним не встречаться.



10. Художник на одном листе бумаги сделал рисунок девяти животных. Какие животные здесь нарисованы? Напиши их названия в клеточки.



11. Впиши названия индийских городов.

-

— столица Индии.

— город расположен на берегу Бенгальского залива. Самый большой город Индии. Долгое время был её столицей.

— город на берегу Аравийского моря. Крупный порт Индии. Центр индийской моды и кинематографии.


12. Выбери правильный ответ и отметь его знаком «+».

1	В каком полушарии расположена Индия?	В западном	
		В восточном	
2	В каком полушарии от экватора расположена Индия?	В северном	
		В южном	
3	На каком материке расположена Индия?	В Африке	
		В Евразии	
4	Какой океан омывает берега Индии?	Индийский	
		Тихий	
5	На каком полуострове расположена Индия?	Индокитай	
		Индостан	
6	Как называется столица Индии?	Нью-Дели	
		Мумбаи	
7	Как называется всё население Индии?	Индейцы	
		Индийцы	
8	Какое самое знаменитое здание Индии?	Тадж-Махал	
		Эрмитаж	

13. Реши кроссворд. Прочитай слово, которое получилось по вертикали. Что оно значит?

1. Национальный цветок Индии. 2. Национальная птица Индии с ярким оперением. 3. Ценная порода дерева, древесина которого имеет приятный запах. 4. Обитатели национальных

парков Индии. 5. Столица государства. 6. Из этого камня построено большинство индийских храмов. 7. Индийская национальная женская одежда. 8. Широко распространённый национальный язык в Индии. 9. Национальный напиток. 10. Хищник, который изображён на индийском гербе.

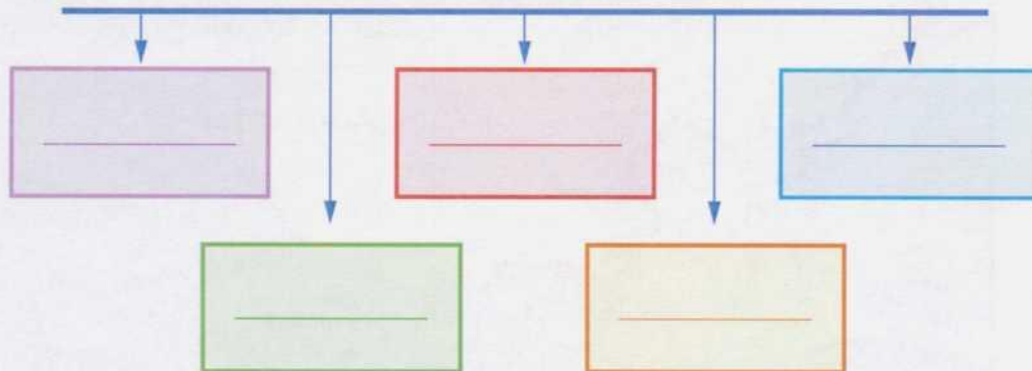


Дата _____

ВОСТОЧНАЯ АЗИЯ

Определи по политической карте (с. 126) государства, которые расположены в Юго-Западной Азии. Впиши их названия в схему.

ВОСТОЧНАЯ АЗИЯ





КИТАЙ (КИТАЙСКАЯ НАРОДНАЯ РЕСПУБЛИКА)

1. Отметь на карте (с. 126) границу Китая, столицу, города. Выпиши названия крупных рек Китая.

2. Используя физическую карту в учебнике на с. 162, ответь на вопросы.

Какие моря омывают восточные берега Китая?

Какой рельеф государства?

Какие полезные ископаемые добывают в Китае?

3. Впиши в клеточки название острова, разделяющего Восточно-Китайское и Южно-Китайское моря.

--	--	--	--	--	--	--	--

4. Вставь пропущенные слова и прочитай полученный текст.

Китай расположен в восточной части Азии, на западном берегу _____ океана. По размерам территории он занимает _____ место в мире после России и Канады. На западе расположено самое большое в мире нагорье _____. На востоке раскинулась _____ равнина. На большей части страны климат _____.

5. Прочитай предложения, рассмотри рисунки, подумай, о какой стране идёт речь. Напиши название страны и её столицу.

После долгого путешествия Марко Поло попал в очень интересную страну.


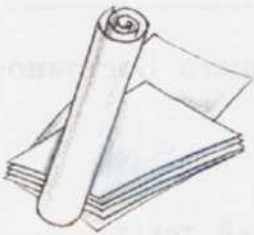
- 1) Сейчас в ней живёт пятая часть всего человечества.
- 2) Здесь впервые изобрели бумагу, порох, зеркало.
- 3) Здесь была построена самая длинная стена.
- 4) В этой стране были выведены золотые рыбки.
- 5) Именно здесь были напечатаны первые книги.





Страна _____ Столица _____

6. Китай — страна с богатой историей. Именно здесь впервые были созданы бумага, магнитный компас, механические часы, зеркало. Ответь устно, как человек использует эти предметы в наше время.



7. Прочитай вопросы. Выбери и зачеркни неправильный ответ.

1) Китай омывается:

- Жёлтым морем;
- Южно-Китайским морем;
- Восточно-Китайским морем;
- Японским морем.

2) Китай является родиной:

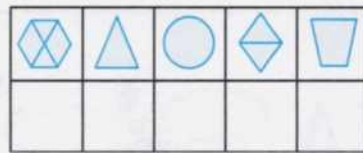
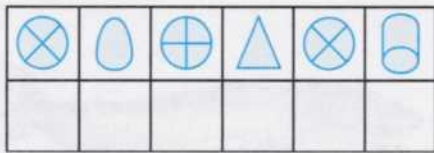
- мандаринов;
- бананов;
- риса;
- чая.

3) В лесах Китая водятся:

- тигры, леопарды;
- слоны, носороги;
- белые медведи, моржи.

8. Расшифруй и запиши названия китайских рек.

Я	А	З	Х	Ц	Н	У	Ы	Э



9. Продолжи предложения, подобрав подходящие слова.

Две крупные реки Китая — _____

Реку Хуанхэ называют _____

Китай занимает первое место по _____

Недра Китая богаты _____

Жители Китая выращивают в основном _____

Слова для справок: Хуанхэ и Янцзы, Сырдарья и Амударья, «зелёная река», «жёлтая река», количество озёр, размер территории, количество населения, нефть, каменный уголь, минеральные удобрения, поваренная соль, картофель, репа, капуста, яблоки, вишни, абрикосы, чай, рис.

10. Заполни таблицу «Промышленность Китая».


Отрасли тяжёлой промышленности	Отрасли лёгкой промышленности
_____	_____
_____	_____
_____	_____
_____	_____

11. Назови десять видов растений и животных, встречающихся в Китае.

12. Разгадай ребусы.



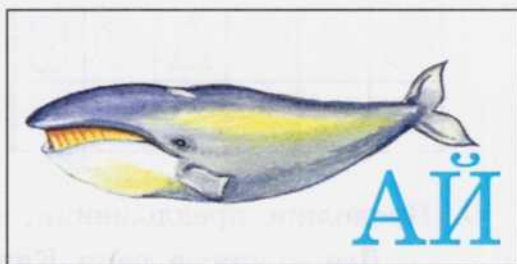
_____ — столица Китая.



_____ — полуостров.




_____ — государство,
с которым Китай граничит на юге.



_____ — крупное го-
сударство в Восточной Азии.

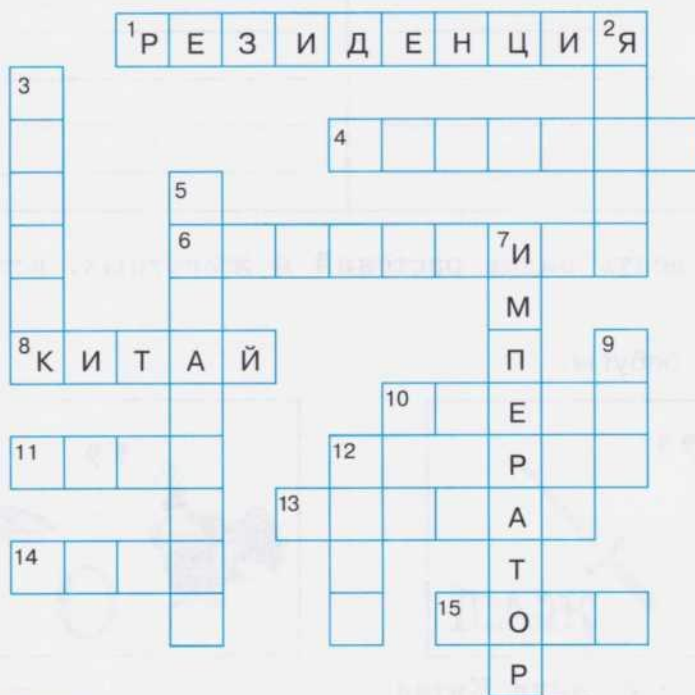


_____ — редкое
животное.



_____ — ценное дере-
во, из которого делают лыж-
ные палки.

13. Реши кроссворд.



1. Дворец китайских императоров.
2. Великая китайская река.
3. Растение на юге Китая, которое используется для лёгких построек, спортивного инвентаря, мебели.
4. Зерновая культура, которую выращивают не только в нашей стране, но и в Китае.
5. Государственный язык Китая.
6. Письменные знаки, обозначающие слова.
7. Глава государства в Древнем Китае.
8. Самое многочисленное государство в мире.
9. Любимый напиток китайцев — зелёный
10. Самое известное сооружение Китая, длина которого больше 6 тыс. км.
11. В горах Китая обитает снежный
12. Народность Китая.
13. Один из самых больших городов мира, находится в Китае.
14. Национальное блюдо китайцев — пекинские
15. Пустыня в Монголии и Китае.

Дата _____

МОНГОЛИЯ

1. На карте (с. 126) отметь Монголию и её столицу.
2. Используя статью учебника (с. 171), ответь на вопросы.

Каков рельеф Монголии? _____

Когда в Монголии отмечают Новый год? _____

Какая отрасль сельского хозяйства занимает в Монголии ведущее место? _____

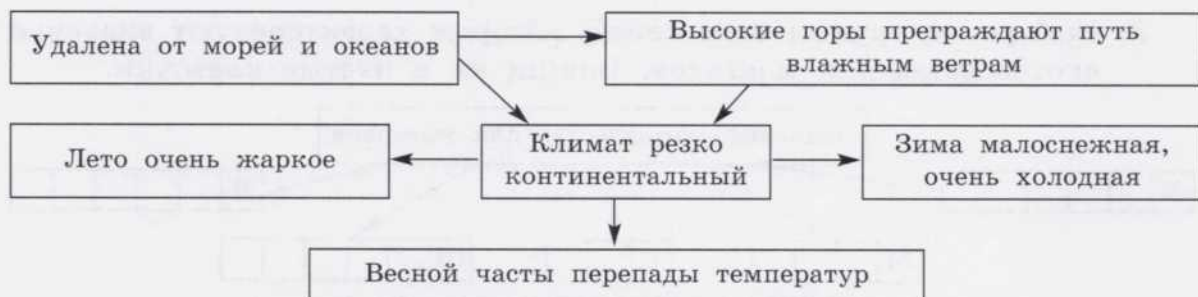
Каких животных разводят в Монголии? _____

Какие растения выращивают в Монголии? _____

Какую продукцию экспортирует Монголия? _____

3. Используя схему, подготовь рассказ о Монголии.

Климат Монголии



4. Продолжи выполнять задание по образцу.

Азия — часть света. Монголия — страна. Гоби — _____.
Селенга — _____. Резко континентальный _____.
Лиственница — _____. Ковыль — _____.
Верблюды — _____. Щука — _____. Медная
руда — _____. Юрта — _____. Улан-
Батор — _____.

5. Узнай по описанию природные зоны.

Эта природная зона расположена на севере Монголии. Здесь растут лиственница, кедр, сосна, ель, пихта. _____

Образованию этих зон способствуют высокие хребты и резко континентальный климат. Там растут мятлик, осока, полынь, ковыль, дикий лук. _____

6. Определи по рисункам, какая отрасль сельского хозяйства развита в Монголии. Придумай предложения по этим рисункам.



7. Выбери из группы слов слова, которые характеризуют значение скотоводства для монголов. Впиши их в пустые клеточки.



Слова для справок: пух, шерсть, яйца, сыр, кожа, мясо, молоко, жемчуг, войлок.

8. Какие слова здесь спрятались?



9. Соедини стрелкой слово и его значение.

Кумыс

Ездовое животное

Юрта

Лошадиное молоко

Жилище

Лошадь

Вьючное животное

Пастухи, которые перемещаются с места на место

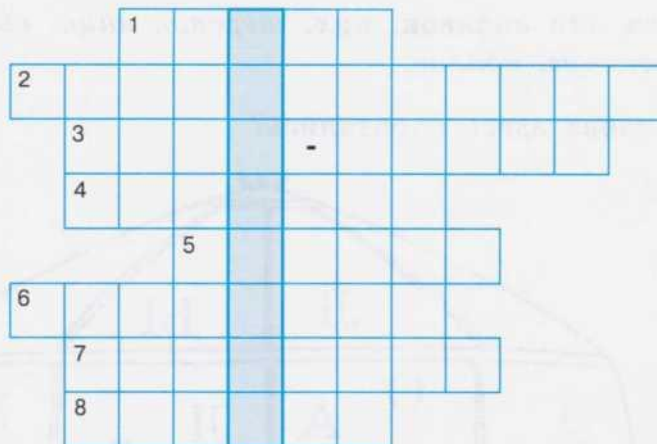
Верблюд

Кочевники

10. Реши кроссворд.

1. Напиток из кобыльего молока. 2. Главное занятие населения Монголии. 3. Столица Монголии. 4. Основное население Монголии. 5. Самое распространённое животное Монголии. 6. В пустынях Монголии живут двугорбые 7. Полезное ископаемое в Монголии, месторождение которого одно из крупнейших в мире. 8. Народы, живущие в Монголии.

Поставь вопрос к слову, которое получилось по вертикали.

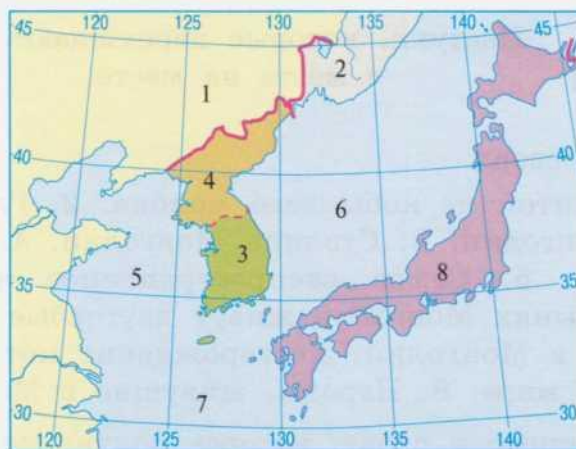


Дата _____

КОРЕЙСКАЯ НАРОДНО-ДЕМОКРАТИЧЕСКАЯ РЕСПУБЛИКА (КНДР)

РЕСПУБЛИКА КОРЕЯ

1. Обведи на карте (с. 126) Корейский полуостров, подчеркни омывающие его моря и подпиши названия государств, находящихся на этом полуострове.
2. Выпиши пограничные с Корейской Народно-Демократической Республикой (Северной Кореей) и Республикой Кореей (Южной Кореей) государства, их столицы и омывающие эти государства моря, обозначенные на картосхеме цифрами.



Северная Корея (КНДР)
Пограничные государства.

1. _____
2. _____
3. _____

Столица _____

Моря, омывающие Корейский полуостров

5. _____
6. _____
7. _____

Южная Корея (РК)

Сухопутная граница с

4. _____

Морские границы с

1. _____
8. _____

Столица _____

3. Дополни текст, пользуясь статьёй учебника (с. 175—176).

Корейская Народно-Демократическая Республика расположена на севере _____ полуострова. Это государство ещё называют _____. Она граничит с _____ и _____. С _____ граница небольшая. В КНДР есть полезные ископаемые: _____.

В стране развивается промышленность: _____.

В Японском море ловят _____.

Крестьяне выращивают _____.

Ким Чен Ир — _____ страны. Столица — город _____.

4. Вставь пропущенные слова.

Республика Корея лежит на полуострова. Её часто называют Кореей.

В Республике Корея высоко развита и _____, и _____ . В Южной Корее производят _____.

Известные марки бытовой техники _____.

Корея торгует с , и другими странами. Основное население — . Главный продукт питания — . Столица — город .


5. Подпиши названия представителей животного мира Кореи. Найди их место обитания, соединив стрелкой.












Животные леса







Обитатели
Японского моря



Озёрные птицы











6. Выбери правильные ответы. Впиши их в нужном падеже. Используй полученный текст для устного составления рассказа «Национальные особенности корейцев».

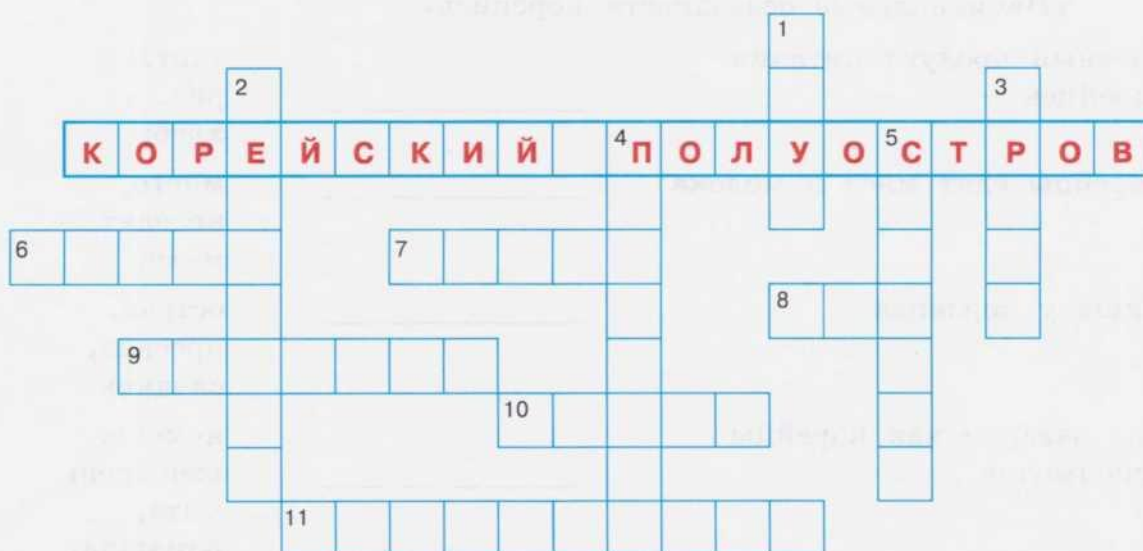
Главный продукт питания корейцев —	_____	торт, рис, хлеб;
Корейцы едят мяса и молока	_____	много, не едят, мало;
Пища у корейцев	_____	острая, пресная, сладкая;
Для заварки чая корейцы используют	_____	ячмень, женьшень, мята, ромашка;
Корейцы едят	_____	вилки, руки, палочки;
Корейцы могут сидеть и спать на	_____	потолок, пол, балкон;
Национальная одежда корейских мужчин	_____	куртка, широкие штаны, белые носки, халат, тюбетейка, кимоно;
Сейчас корейцы пишут	_____	иероглифы, буквы, цифры.

7. Реши кроссворд «Корея».

1. Столица Южной Кореи.
2. Ценное лечебное растение.
3. Обитатели Японского моря.
4. Острые приправы.
5. Известная южнокорейская марка бытовой техники.
6. Горючее полезное ископаемое, которое добывается в Корее.
7. Корея, пограничная с КНДР.
8. Национальное блюдо корейцев.
9. Столица



Северной Кореи. 10. Дерево, растущее в Корее. Бывает кедровая, бывает красная. 11. Утка с ярким оперением.



Дата _____

ЯПОНИЯ

1. Отметь Японию на карте (с. 126). Подпиши её столицу, подчеркни названия омывающих морей и океана.
2. Прочитай статью учебника (с. 179) о Японии и ответь на вопросы словами из текста.

Как называют Японию издавна? _____


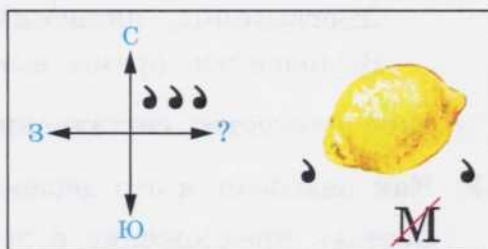
Что изображено на флаге и гербе Японии? _____

Каков климат на Японских островах? _____

Каков рельеф Страны восходящего солнца? Как называется самая высокая гора? _____

Какие растения выращивают японцы? _____

3. Реши ребусы.



4. Вставь пропущенные слова.

Эту страну называют Страной восходящего солнца, это _____ . Столица страны — город _____ . Япония в основном тёплая и очень солнечная страна, хотя климат её _____ . Самая высокая гора — потухший вулкан _____ . Населяют страну _____ . В японских домах _____ мебели. Япония богата полезными ископаемыми и природными ресурсами. Япония вывозит в другие страны _____ , _____ и другие промышленные товары. Основное занятие сельского населения — _____ , _____ , _____ . Основная зерновая культура, которую выращивают японцы, — _____ .

Слова для справок: Япония, Токио, влажный, Фудзияма, японцы, мало, машины, аппаратура, овощеводство, садоводство, рыболовство, рис.

Прочитай, что получилось.

5. Вычеркни лишнее.

Японию омывают моря: Японское, Охотское, Чёрное, Филиппинское, Восточно-Китайское.

Прочитай, что осталось. Покажи эти моря на карте (с. 126).

6. Прочитай названия растений, которые растут в Японии.

Лиственница, японский кедр, ель, бук, липа, клён, берёза.

Выделенные буквы впиши в клеточки. Так называется японское искусство составления букетов:

--	--	--	--	--	--	--	--

.

7. Как называется это дерево? Запиши его название. _____

Составь предложение с этим словом. _____



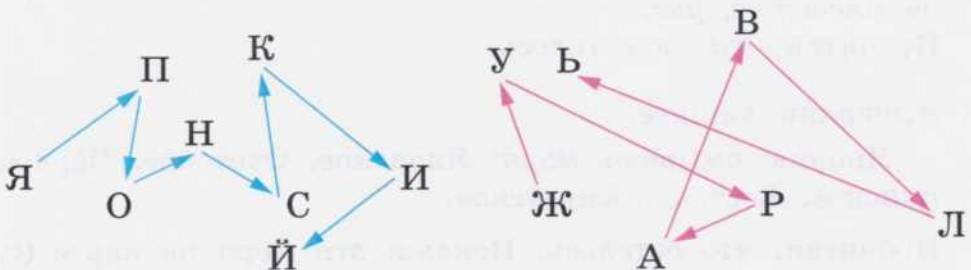
8. Вычеркни лишнее. Если затрудняешься, воспользуйся статьёй учебника (с. 180).

Животный мир Японии: белогрудые медведи, тюлени, коротконогие волки, слоны, пятнистые олени, верблюды, енотовидные собаки, жирафы, барсуки, киты, лисицы, соболи, белки, зайцы, крокодилы, японские макаки.

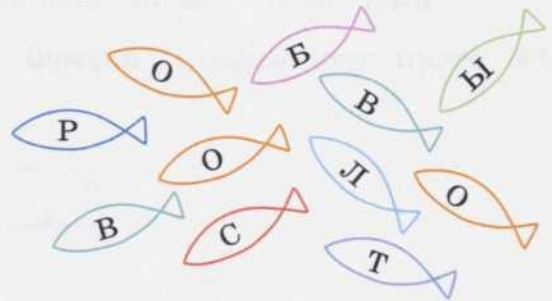
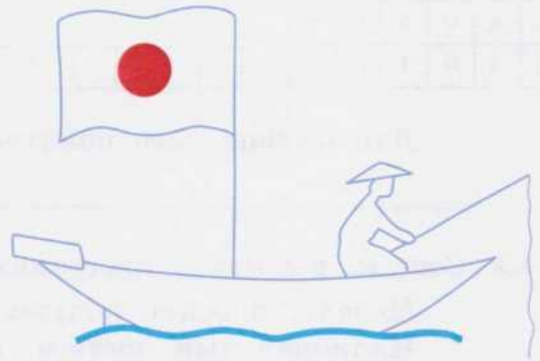
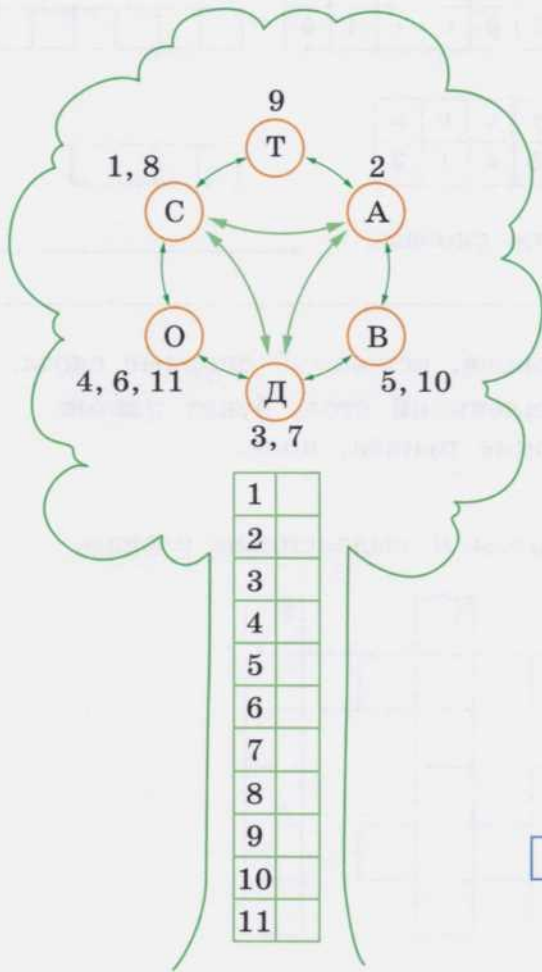
9. Впиши название самой известной птицы Японии.

--	--	--	--	--	--	--	--

--	--	--	--	--	--	--	--



10. Заполни пустые клеточки, и ты узнаешь основные занятия населения Японии.



11. Пользуясь статьями учебника (с. 179—185), объясни и запиши значения слов.

Фудзияма — _____
 Тайфун — _____
 Татами — _____
 Икебана — _____
 Сакура — _____
 Тойота — _____

12. Расшифруй шифрограмму.

о	з	д	ю	д
5	2	4	3	1

--	--	--	--	--

а	р	е	к	а	т
2	3	6	1	4	5

--	--	--	--	--	--

й	д	о	а	к	и
2	5	6	1	3	4

--	--	--	--	--	--

у	о	с	м
2	4	1	3

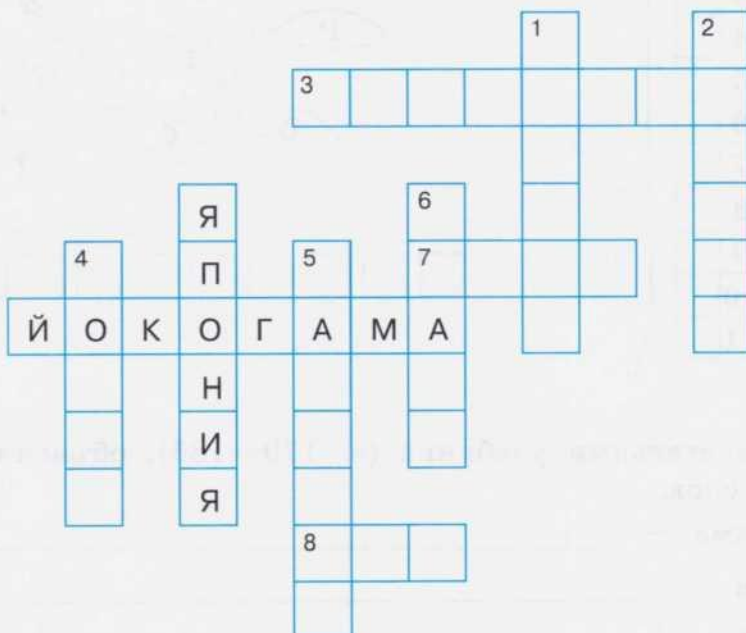
--	--	--	--

Дай обобщающее понятие этим словам. _____

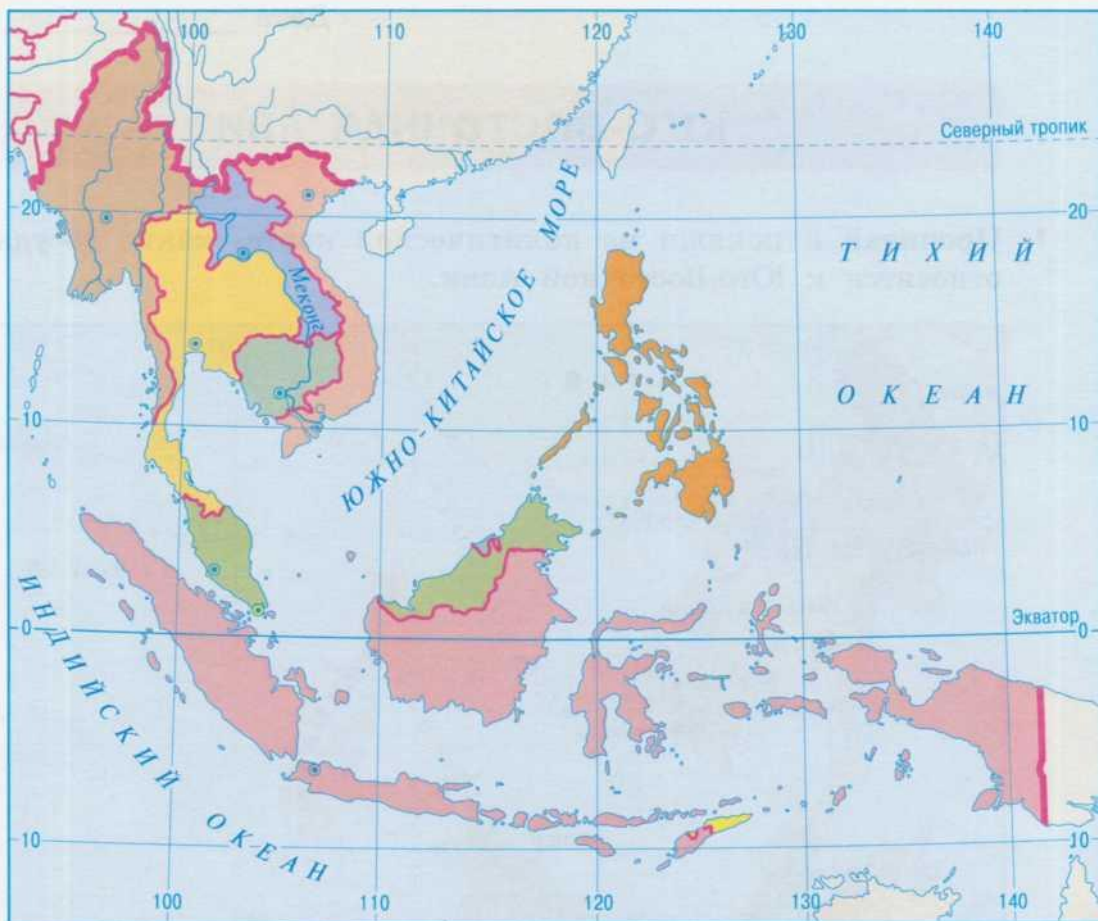
13. Составь рассказ о традициях японцев, используй опорные слова.

Мебель, плоские подушки, маленький стол, букет цветов.
 Национальный костюм, широкие рукава, пояс.
 Рис, рыба, лапша, палочки.

14. Реши кроссворд. Придумай вопросы к выделенным словам.

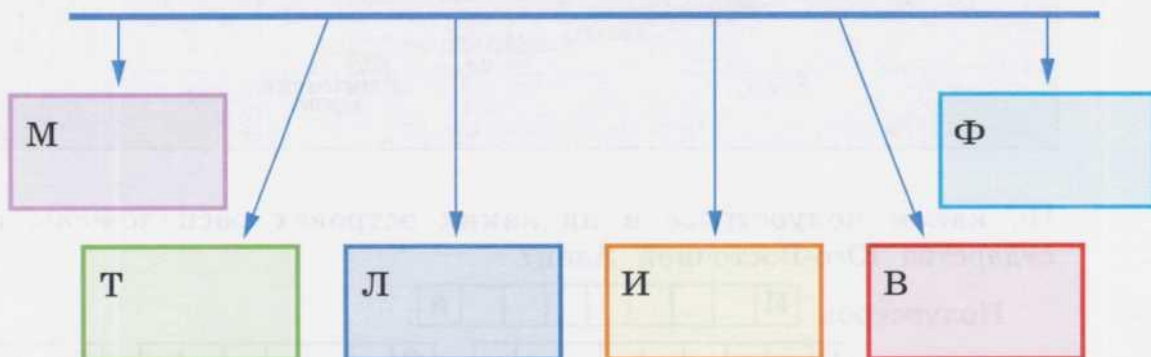


1. Традиционная одежда.
2. Японская вишня.
3. Священная гора.
4. Столица Японии.
5. Всемирно известный центр зимнего спорта, славится ежегодными снежными фестивалями.
6. Большой город в Японии.
7. Всемирно известная марка.
8. Основная зерновая культура.



2. Пользуясь политической картой (с. 143), заполни схему.

ЮГО - ВОСТОЧНАЯ АЗИЯ



ТАИЛАНД (КОРОЛЕВСТВО ТАИЛАНД)

1. Подпиши на карте Юго-Восточной Азии (с. 144) Таиланд.
2. Подчеркни названия тех государств, с которыми граничит Таиланд.
Ирак, Мьянма, Лаос, Китай, Индия, Камбоджа, Малайзия, Япония.
3. Заполни таблицу.

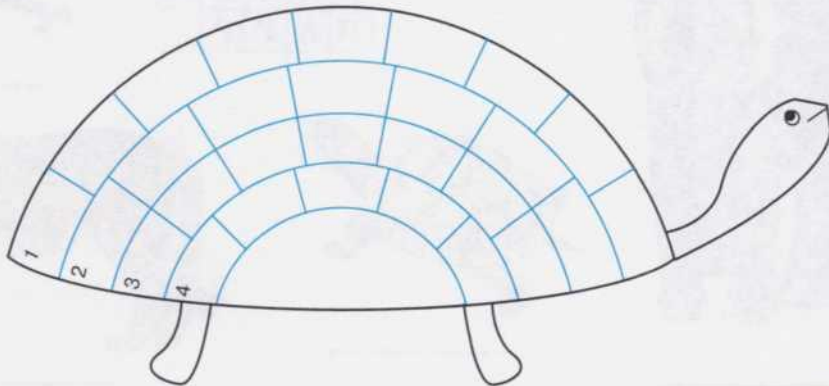
Государство	Столица	Крупная река	Какими морями омывается	Основное население
Таиланд				

4. Вставь в текст пропущенные слова.

Таиланд занимает центральную часть полуострова _____ и север полуострова _____. Таиланд омывается _____ морем и _____ океаном. Большую часть Таиланда занимают _____. На севере страны расположены невысокие _____. По территории Таиланда протекает самая крупная река Южной Азии — _____.

Слова для справок: *Индокитай, Малакка, Южно-Китайское, Индийский, равнины, горы, Меконг.*

5. В Таиланде черепаха означает долголетие. Разгадав головоломку, ты узнаешь, что скрывает черепаха.



1. В центральной части какого полуострова расположен Таиланд? 2. Как называется столица Таиланда? 3. Какая поверхность земли занимает бóльшую часть в Таиланде? 4. Основное население Таиланда.

6. Составь устный рассказ о климатических условиях Таиланда, используя следующие слова и словосочетания:

климат, жаркий, три периода, температура поднимается, сезон дождей, кратковременный, проливной, температура опускается.

7. Ответь на вопросы.

Какие растения выращивает местное население? _____



Месторождения каких полезных ископаемых разрабатываются в Таиланде? _____

Какие товары экспортирует Таиланд? _____

8. Найди в квадрате названия животных, которые обитают в Таиланде, и закрась эти слова-названия цветными карандашами. Подпиши рисунки.



Ч	С	Л	О	А
Е	Н	О	В	Н
Р	А	Т	Е	Я
Е	Х	И	З	Ь
П	А	Г	Р	



9. Впиши название животного. Запомни, какая третья буква в этом слове.



10. Выбери растения, произрастающие в Таиланде, и животных, обитающих в этой стране. Впиши их в таблицу. В случае затруднения воспользуйся учебником и приложением к нему.

Орхидея, слоны, железное дерево, тигры, манго, гиббоны, леопарды, чёрное дерево, крокодилы, ратанговая пальма, лори, тапиры, ананас, змеи, банановая пальма, рыбы, птицы, сахарный тростник, кокосовая пальма.

Растения Таиланда	Животные Таиланда

11. Вставь пропущенные буквы.

Б нгкок, Т иланд, Инд китай.

12. Реши кроссворд.

По горизонтали:

3. Крупное животное, обитающее в лесах Таиланда. 4. Самая крупная река в Южной Азии. 6. Ценная порода дерева, растущего в тропических лесах Таиланда. 7. Пресмыкающееся животное, которое демонстрируют туристам на фермах в Таиланде.

По вертикали:

1. Пятнистый хищник. 2. Фрукт, по выращиванию которого

Таиланд занимает одно из первых мест в мире. 3. Прежнее название Таиланда. 5. Средство передвижения тайцев по воде.



Дата _____

ВЬЕТНАМ (СОЦИАЛИСТИЧЕСКАЯ РЕСПУБЛИКА ВЬЕТНАМ)

1. На карте (с. 144) отметь территорию Вьетнама и его столицу.
2. Ответь на вопросы.

В какой части полуострова Индокитай расположен Вьетнам?

С кем граничит Вьетнам на севере? _____

С кем граничит на западе? _____

Какая поверхность в этой стране? _____

Какой там климат? _____

Кто населяет это государство? _____

Какой город является крупнейшим промышленным и торговым центром Южного Вьетнама? _____

На побережье какого моря расположен Вьетнам? _____

3. Объясни устно, как ты понимаешь вьетнамскую пословицу «Увидишь тучи на востоке — убегай, увидишь тучи на юге — продолжай работу».
4. Найди для каждой сельскохозяйственной культуры, которую выращивают во Вьетнаме, обобщающее понятие. Соедини их стрелкой.



Соя



Каучуконосы



Хлопок



Пряности



Чай

Технические культуры

Пищевые культуры



Рис



Фрукты



Сахарный тростник



Кофе

5. Прочитай, вставь пропущенные буквы. Придумай заголовок к тексту. Перескажи его.

Рис — основная пища _____ многих _____ родов _____ зии. В этой части света живёт больше _____ половины человечества _____ много _____ ша.

Рис очень _____ полезное _____ растение. Ему нужны _____ тепло и _____ влага. Главное — рис даёт большие _____ урожаи. В Индии, Индонезии, Китае, Вьетнаме и других _____ азиатских странах собирают по 2—3 _____ урожаев риса в год. _____ крестьяне этих стран вывели более 10 тысяч _____ сортов риса.

6. Расскажи, что изготавливают из рисовой соломы. Используй слова: *крыши, шляпы, сандалии, циновки, корзины, канаты, бумагу*. Запомни, как пишутся эти слова.
7. Прочитай шифрограмму, и ты узнаешь, какие лекарственные растения растут в тропических лесах Вьетнама.

1	2	3	4	5	6	7	8	9	10	11	12	13
о	к	и	а	е	ь	р	с	д	ж	м	ш	н

4	13	3	8

2	4	7	9	4	11	1	13

10	5	13	6	12	5	13	6

8. Выбери правильные ответы. Поставь их в нужном падеже. Прочитай получившийся текст.

Большинство вьетнамцев
живут в _____

столица,
города,
деревни

Свои дома они строят из _____

кирпич,
панельные
блоки, мрамор

Бедные крестьяне для постройки
жилищ используют _____

солома,
пальмовые
листья, песок

На работу и на рынок
люди ездят на _____

лодки,
велосипеды,
автомшины

Тяжёлые условия жизни вьетнамцев
во многом связаны с _____

длительная
война, землетря-
сение, изверже-
ние вулкана

Дата _____

ИНДОНЕЗИЯ (РЕСПУБЛИКА ИНДОНЕЗИЯ)

1. Отметь на карте (с. 144) островное государство — Индонезию. Подпиши её столицу и самые крупные острова.
2. Подчеркни названия только тех островов, которые входят в состав Индонезии. Самые крупные из них обведи в рамку.

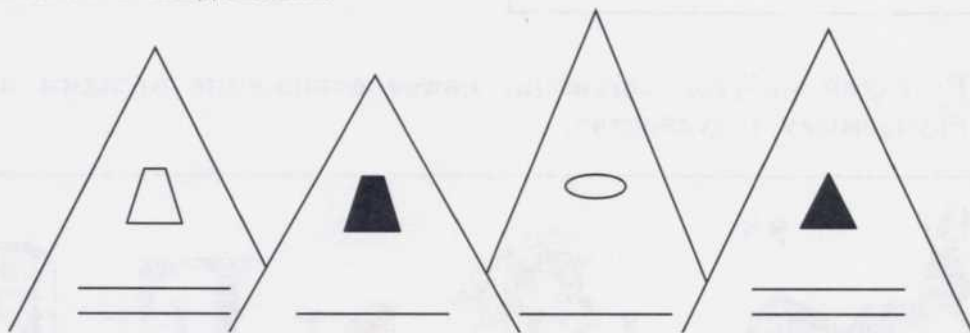
Сахалин, Ява, Шри-Ланка, Мадагаскар, Суматра, Калимантан, Новая Гвинея, Огненная Земля, Бали.

3. Объясни, почему острова, принадлежащие Индонезии, называют «Тихоокеанским поясом огня».

4. Вставь в текст пропущенные слова.

Значительная часть территории Индонезии покрыта _____ лесами. Животный и растительный мир страны очень богат. Здесь растёт _____ — самый большой цветок в мире. В лесах много деревьев ценных пород: _____, _____, _____, _____. Деревья переплетает самое длинное в мире растение — _____. На островах обитают _____, _____, _____, _____, _____, _____ и другие животные и птицы тропических лесов. Только в Индонезии на одном из островов живут гигантские трёхметровые _____. За большие размеры их называют драконами.

5. По условным знакам определи, какие полезные ископаемые добывают в Индонезии.



6. Приведи примеры.

В Индонезии:

добывают полезные ископаемые: _____

произрастают растения: _____

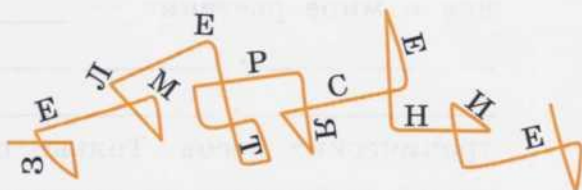


обитают дикие животные и птицы: _____

выращивают сельскохозяйственные культуры: _____

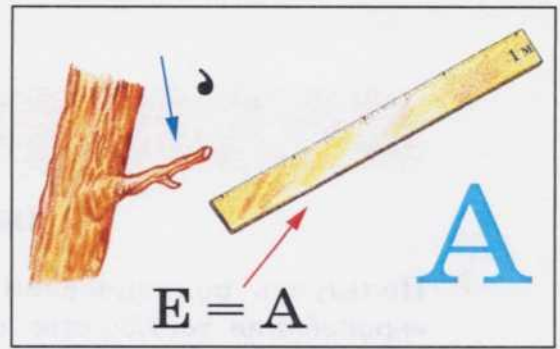

7. Отгадай и напиши, какие природные явления наносят урон Индонезии.

Цунами



8. Разгадай ребусы. Объясни, какое отношение отгадки имеют к изучаемому государству.

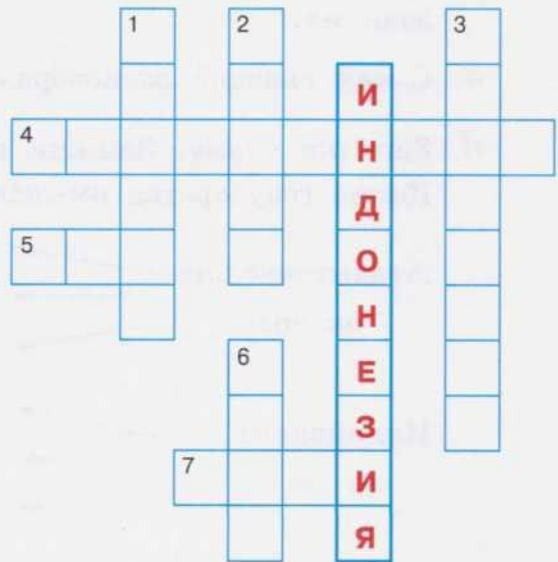




9. Реши кроссворд.

1. Гора, из вершины которой извергается лава. В Индонезии их около 400. 2. В Индонезии добывают драгоценные Из них делают ювелирные украшения. 3. Столица Индонезии. 4. Большой остров, часть которого принадлежит Индонезии. 5. Густонаселённый остров страны. 6. Самый известный памятник — древний буддийский 7. Остров-курорт.

Придумай вопрос к выделенному слову.



ЕВРАЗИЯ

(Обобщающий урок)

1. Пользуясь политической картой Евразии, сравни по площади европейские государства с площадью Казахстана, Монголии, Китая, Индии. Сделай вывод.

2. Вставь пропущенные слова.

Евразия имеет разнообразный рельеф. Здесь расположены самые высокие горы _____ и нагорье _____, самая глубокая на суше впадина _____ моря и самая обширная из лежащих ниже уровня моря _____ низменность.

Слова для справок: Гималаи, Тибет, Мёртвое, Прикаспийская.


3. Через весь материк Евразии с запада (Пиренеи) на восток (Гималаи) тянутся горы. Глядя на физическую карту Евразии, назови их.
4. С чем связано разнообразие климата Евразии?
5. Заполни схему. Запиши государства, которые знаешь.

Какие государства омываются водами

Атлантического океана
 ↗ _____
 → _____
 ↘ _____

Индийского океана
 ↗ _____
 → _____
 ↘ _____

Тихого
океана



6. Евразия по количеству крупных рек превосходит другие материки. Реки Евразии питают своими водами все четыре океана земли. Выпиши самые крупные реки.

Северный Ледовитый океан	Тихий океан	Индийский океан	Атлантический океан
<hr/> <hr/> <hr/>	<hr/> <hr/> <hr/>	<hr/> <hr/> <hr/>	<hr/> <hr/> <hr/>

Слова для справок: *Обь, Енисей, Лена, Северная Двина, Печора, Амур, Хуанхэ, Янцзы, Меконг, Инд, Ганг, Дунай, Днепр, Рейн, Эльба.*

7. Ответь на вопросы устно.

Какой регион Азии можно назвать одним из самых жарких в мире, если жители Индии говорят: «У нас девять месяцев жаркие, а остальные три месяца очень жаркие»?

Какие сельскохозяйственные культуры возделывают в Азии?

С китайского языка слово «завтрак» дословно переводится как «ранний рис», «обед» — как «полдневный рис», а «ужин» — как «поздний рис». Какое значение имеет рис в жизни азиатских народов?

Зачем столетие назад европейские купцы снаряжали корабли в далёкую и сказочную Индию? Что они оттуда привозили?

О каких качествах монгол говорят пословицы «Счастлив тот, у кого бывают гости», «Радостен тот дом, у которого всегда стоят кони приезжих»?

Всеми миру известно весеннее цветение вишни в японских садах и парках. Как называется это растение?

8. Что экспортируют азиатские государства? Найди правильные ответы.



9. Заполни перфокарты «Столицы европейских государств».

Западная Европа

Государство \ Столица	Берн	Париж	Вена	Лондон	Берлин
Великобритания					
Франция					
Германия					
Австрия					
Швейцария					

Южная Европа

Государство \ Столица	Афины	Лиссабон	Рим	Мадрид
Испания				
Португалия				
Италия				
Греция				

Северная Европа

Государство \ Столица	Стокгольм	Осло	Хельсинки
Норвегия			
Швеция			
Финляндия			

Восточная Европа

Государство \ Столица	Братислава	Таллин	Будапешт	Белград	Варшава	Вильнюс	Прага	Рига	Бухарест	Киев	София	Кишинёв	Минск
Польша													
Чехия													
Словакия													
Венгрия													
Румыния													
Болгария													
Сербия и Черногория													
Эстония													
Латвия													
Литва													
Белоруссия													
Украина													
Молдавия													



10. Запиши столицы азиатских государств.

Центральная Азия

Казахстан — _____

Узбекистан — _____

Туркмения — _____

Киргизия — _____

Таджикистан — _____

Южная Азия

Индия — _____

Юго-Западная Азия

Грузия — _____

Азербайджан — _____

Армения — _____

Турция — _____

Ирак — _____

Иран — _____

Афганистан — _____

11. Соедини стрелками государства Восточной Азии и их столицы.

Пекин

Китай

Улан-Батор

Монголия

Сеул

КНДР

Республика
Корея

Токио

Япония

Пхеньян

12. Вместо вопросительных знаков вставь нужные слова.

Юго-Восточная Азия	
Государство	Столица
?	Бангкок
Вьетнам	?
?	Джакарта

РОССИЯ

(Повторение)

1. Посмотри свою рабочую тетрадь по географии для 7 класса. Вспомни, что ты изучал по географии России. Покажи свою страну на карте. Дополни предложения.

Россия — страна, в которой мы живём, — самая большая по площади. Она расположена в _____ частях света: в _____ и в _____.

Западная и южная границы _____, а _____ и _____ морские.

На западе Россия граничит с _____.

На юге Россия имеет границу с _____.

Северная граница России проходит по морям Северного Ледовитого океана: _____.

Восточная граница России морская. Её омывают воды морей: _____.

2. Заполни таблицу.

Равнины, плоскогорья	Горы	Крупные реки	Озёра	Полезные ископаемые

3. Перечисли ведущие отрасли промышленности России:

4. Запиши названия городов-миллионеров:

5. В состав России входит 46 областей, 22 республики, 9 краёв, 3 города федерального значения, 4 автономных округа, 1 автономная область. Впиши названия некоторых из них в таблицу.

Субъекты Российской Федерации

Края	Области	Республики	Автономные округа	Автономная область
_____	_____	_____	_____	_____
_____	_____	_____	_____	_____
_____	_____	_____	_____	_____
_____	_____	_____	_____	_____
_____	_____	_____	_____	_____
_____	_____	_____	_____	_____
_____	_____	_____	_____	_____

6. Составь рассказ о столице России.

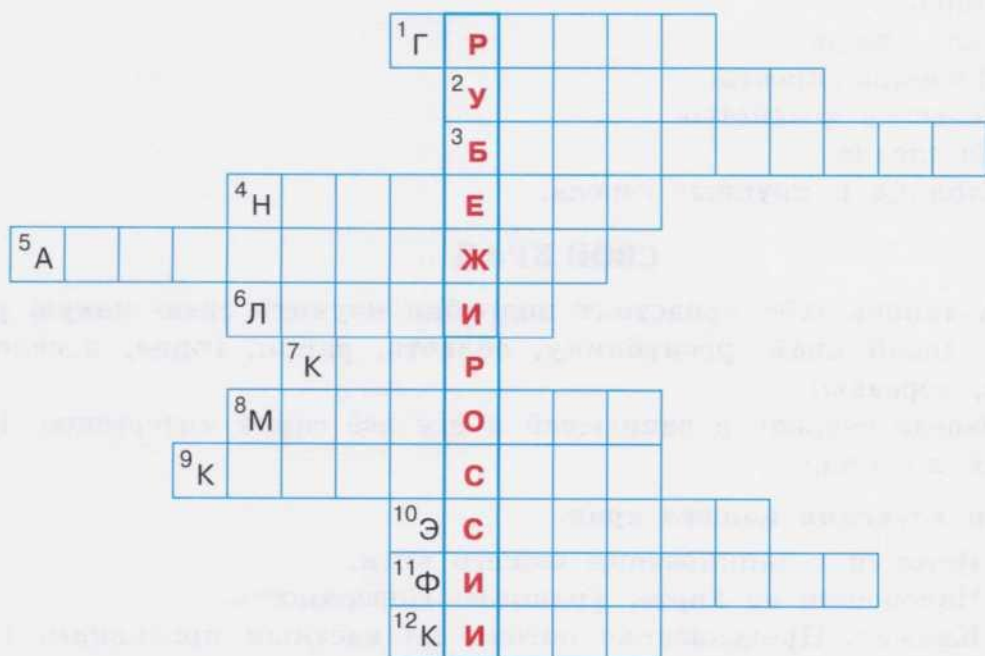
7. Составь из этих букв названия городов России.

Як+куст = _____

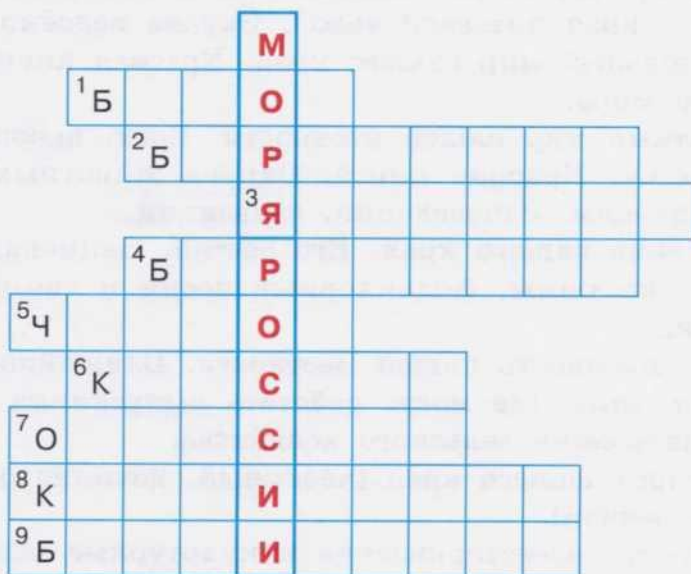
Вал+сток+диво = _____

Бар+улан = _____

8. Реши кроссворд «Страны, граничащие с Россией».



9. Реши кроссворд «Моря России».



10. Составь обобщающий рассказ о России по плану.

- 1) Границы.
- 2) Пограничные государства.



- 3) Рельеф.
- 4) Моря.
- 5) Реки, озёра.
- 6) Промышленность.
- 7) Сельское хозяйство.
- 8) Население.
- 9) Столица и крупные города.

СВОЙ КРАЙ

А теперь тебе предстоит подробно изучить свою малую родину (свой край, республику, область, район, город, посёлок, село, деревню).

Заведи тетрадь и записывай в неё всё самое интересное. Работай по плану.

План изучения нашего края.

- 1) История возникновения нашего края.
 - 2) Положение на карте. Границы. Поверхность.
 - 3) Климат. Предсказание погоды по местным признакам. Народные приметы.
 - 4) Полезные ископаемые и почвы нашей местности.
 - 5) Реки, пруды, озёра, каналы нашей местности. Водоснабжение нашего края питьевой водой. Охрана водоёмов.
 - 6) Растительный мир нашего края. Красная книга. Охрана растительного мира.
 - 7) Животный мир нашей местности. Вред, наносимый природе браконьерами. Красная книга. Охрана животных. Помощь зимующим птицам. Заповедники, заказники.
 - 8) Население нашего края. Его состав. Национальные обычаи, традиции, костюмы, фольклорные песни и танцы, национальная кухня.
 - 9) Промышленность нашей местности. Ближайшее промышленное предприятие, где могут работать выпускники школы.
 - 10) Специализация сельского хозяйства.
 - 11) Транспорт нашего края (наземный, железнодорожный, авиационный, речной).
 - 12) Архитектурно-исторические и культурные памятники нашего края.
 - 13) Наш город (посёлок, село, деревня).
- Любите свою Родину, берегите её, продолжайте изучать!

**ОТВЕТЫ НА КРОССВОРДЫ, ЗАГАДКИ,
РЕБУСЫ, ЗАДАНИЯ**

- С. 6. № 3. Уэльс. Ирландия. Англия.
С. 7. № 5. Ла-Манш.
С. 7. № 7. Лондон. Туман.
С. 7. № 8. Атлантический. Северное.
Темза.
С. 8. № 10. Тунец. Треска. Пикша.
Окунь. Сельдь. Камбала. Промысловые рыбы.
С. 8. № 12. Достопримечательности.
С. 8—9. № 13. Кроссворд. 1. Лондон.
2. Сити. 3. Северное. 4. Темза.
5. Бирмингем. 6. Шекспир. 7. Тауэр.
8. Елизавета. 9. Ньютон.
С. 10. № 6. Париж. Франция.
С. 11. № 8. Кроссворд. 1. Эйфелева.
2. Французский. 3. Альпы. 4. Марсель.
5. Лувр. 6. Бискайский. 7. Сена.
8. Париж.
С. 11. № 9. Кот в сапогах. Золушка.
Красная Шапочка.
С. 13. № 5. Кроссворд. 1. Гамбург.
2. Рождество. 3. Рейн. 4. Мюнхен.
5. Альпы. 6. Берлин. 7. Сосиски.
8. Галерея.
С. 14. № 7. Бетховен. Рейн. Мюнхен.
Лейпциг. Бремен. Нос. Мук. Мюнхгаузен.
С. 14. № 1. Австрия. Вена.
С. 17. № 6. Зальцбург. Вена. Инсбрук.
Лозанна. Цюрих. Берн. Женева.
В таблицу не занесён город Париж.
С. 18. № 8. Кроссворд. 1. Альпы.
2. Женева. 3. Рейн. 4. Берн. 5. Президент.
6. Часы.
С. 18—19. № 10. Кроссворд. 1. Темза.
2. Швейцария. 3. Альпы. 4. Дунай.
5. Боденское. 6. Берн. 7. Вена.
8. Франция. 9. Берлин. 10. Австрия.
11. Германия. 12. Лондон.
13. Париж. 14. Сена.
С. 24. № 8. Колумб. Магеллан.
С. 24. № 9. Художники. Писатель. Путешественник.
С. 25. № 3. Кроссворд. 1. Пробка.
2. Оливки. 3. Мандарин. 4. Мост.
5. Колумб. 6. Магеллан. 7. Апельсин.
8. Лиссабон. 9. Виноград.
С. 26. № 4. Италия. Рим. Сицилия.
Сардиния.
С. 28. № 7. Италия.
С. 28—29. № 8. Кроссворд. 1. Венеция.
2. Флоренция. 3. Неаполь. 4. Рим.
5. Милан. 6. Турин.
С. 29. № 1. Греция.
С. 30—31. № 7. Кроссворд. 1. Балканский.
2. Акрополь. 3. Средиземное.
4. Греция. 5. Эгейское. 6. Олимп.
7. Афины. 8. Греки.
С. 34. № 3. Норвежское. Баренцево.
Северное.
С. 35. № 7. Норвегия. Осло.
С. 35. № 8. Кроссворд. 1. Скандинавский.
2. Осло. 3. Тундра. 4. Норвежцы.
5. Северное. 6. Горы. 7. Лыжи.
8. Швеция.
С. 36. № 5. Стокгольм. Швеция.
С. 37—38. № 9. Кроссворд. 1. Скандинавский.
2. Ваза. 4. Карлсон. 5. Рагуша.
7. Фермер. 8. Гётеборг.
9. Король. 10. Цельсий. 11. Линдгрен.
12. Вольво.
С. 38. № 2. Финляндия. Хельсинки.
С. 38. № 3. Деревообрабатывающая.
С. 40. № 8. Кроссворд. **По горизонтали:** 1. Росомаха. 5. Балтийское.
7. Древесина. 8. Суоми. 9. Лыжи.
По вертикали: 2. Озёра. 6. Ель.
7. Дятел.
С. 46. № 9. Кроссворд. 1. Пуца.
2. Шопен. 3. Висла. 4. Гданьск.
5. Варшава. 6. Краков.
С. 47. № 3. Кроссворд. **По горизонтали:**
1. Словакия. 2. Влтава. 3. Чехия.
4. Стекло. 5. Эльба. 6. Гашек.
7. Пиво. 8. Прага. **Братислава.**
С. 48. № 3. Венгрия. Будапешт. Балатон.
Икарус.

- С. 50. № 6. Кроссворд. 1. Будапешт. 2. Дунай. 3. Уголь. 4. Икарус. 5. Токай. 6. Домица. 7. Венгерский. **Балатон.**
- С. 52. № 5. Румыния. Бухарест. Болгария. София.
- С. 53. № 7. Дунай.
- С. 53. № 2. Сербия. Черногория.
- С. 54. № 5. Белград.
- С. 55. № 7. Кроссворд. 1. Адриатическое. 2. Дунай. 3. Албанцы. 4. Сербский. 5. Белград.
- С. 57. № 5. Эстония. Таллин. Нарва.
- С. 57. № 6. Чудское. Нарва.
- С. 58. № 8. Чудское озеро богато рыбой.
- С. 58. № 9. Кроссворд. **По горизонтали:** 1. Хутор. 3. Эстония. 6. Таллин. 7. Пенне. **По вертикали:** 2. Тарту. 3. Эстонцы. 4. Нарва. 5. Валун.
- С. 58—59. № 10. Нарва. Тарту. Пярну.
- С. 60. № 3. Даугава.
- С. 61. № 8. Столица Латвии — Рига.
- С. 62. № 9. Кроссворд. 1. Картофель. 2. Рыба. 3. Соль. 4. Перец. 5. Лук.
- С. 64. № 6. Кроссворд. 1. Балтийское. 2. Клайпеда. 3. Янтарь. 4. Неман. 5. Чюрлёнис. 6. Каунас.
- С. 64. № 7. Литва.
- С. 66. № 9. Неман. Брест. Гомель.
- С. 66—67. № 10. Подберёзовик. Подосиновик. Сыроежка. Лисичка. Белый.
- С. 67. № 11. Драники.
- С. 67—68. № 12. Кроссворд. 1. Зубр. 2. Неман. 3. Леса. 4. Озёра. 5. Картофель. 6. Пуца. 7. Минск. 8. Брест. 9. Драники. 10. Сябры.
- С. 69. № 5. Кроссворд. 1. Азовское. 2. Днестр. 3. Киев. 4. Карпаты. 5. Львов. **Степь.**
- С. 70. № 7. Железная руда. Каменный уголь. Нефть. Природный газ.
- С. 70. № 8. Днепр. Днестр. Дунай.
- С. 70—71. № 9. Киев. Карпаты. Львов. Каштан. Гривна. Сало.
- С. 71. № 10. Кроссворд. 1. Украинцы. 2. Карпаты. 3. Борщ. 4. Харьков. 5. Киев. 6. Днепр. 7. Азовское.
- С. 74. № 10. Кроссворд. 1. Виноградарство. 2. Кишинёв. 3. Молдавия. 4. Прут. 5. Днестр. 6. Румыния. 7. Тирасполь. 8. Кодры.
- С. 78. № 4. Природный газ. Нефть. Уголь. Руда.
- С. 80—81. № 8. Кроссворд. 1. Казахстан. 2. Каспийское. 3. Аральское. 4. Алма-Ата. 5. Байконур. 6. Гагарин. 7. Астана. 8. Балхаш. 9. Арык. 10. Чабан. 11. Аул.
- С. 82. № 6. Виноград. Яблоки. Гранаты. Инжир. Дыни.
- С. 82—83. № 7. Осока. Акация. Солянка. Саксаул.
- С. 84. № 11. Кроссворд. 1. Узбек. 2. Кызылкум. 3. Тюбетейка. 4. Джейран. 5. Ташкент. 6. Пеликан. 7. Аральское. 8. Хлопчатник. 9. Амударья. 10. Туранская.
- С. 85. № 5. Боярышник. Фисташка. Барбарис. Инжир. Алыча.
- С. 86. № 7. Орёл.
- С. 87. № 9. Кроссворд. 1. Туркмен. 2. Каракумы. 3. Амударья. 4. Кулан. 5. Туркменский. 6. Верблюд. 7. Бархан. 8. Каспийское. 9. Оазис. 10. Пустыня. 11. Ашхабад. 12. Варан.
- С. 88. № 4. Кроссворд. 1. Азия. 2. Таджикистан. 3. Казахстан. 4. Победы. 5. Узбекистан. 6. Бишкек. 7. Кумыс. 8. Долина. 9. Сырдарья.
- С. 89. № 6. Зубр. Лань. Олень.
- С. 90. № 11. Кроссворд. 1. Памир. 2. Барс. 3. Заповедник. 4. Лошади. 5. Чабан. 6. Юрта. 7. Акын. 8. Айтматов.
- С. 92. № 8. Канал. Инжир. Абрикосы. Гранат. Кунжут. Персик.
- С. 93. № 9. Кроссворд. 1. Памир. 2. Кишлак. 3. Тандыр. 4. Душанбе. 5. Киргизия. 6. Сырдарья. 7. Чайхана.

- С. 97. № 8. Государство. Минеральные источники. Отрасль. Столица.
- С. 98. № 10. Грузия. Тбилиси.
- С. 99. № 11. Кроссворд. **По горизонтали:** 3. Чёрное. 4. Кура. 5. Тбилиси. **По вертикали:** 1. Боржоми. 2. Грузины. 3. Чай.
- С. 100. № 5. Чайнворд. 1. Аракс. 2. Сок. 3. Кура. 4. Азербайджан. 5. Нефть.
- С. 101. № 7. Пшеница. Рис. Виноград.
- С. 102. № 9. Лебедь. Утка. Цапля. Фламинго. Гусь. Пеликан.
- С. 102—103. № 10. Кроссворд. 1. Аракс. 2. Газ. 3. Нефть. 4. Кура. 5. Баку. 6. Каспийское. 7. Чай. 8. Мандарин. 9. Джейран. 10. Алыча. 11. Яблоня.
- С. 103. № 4. Гранит.
- С. 104. № 6. Кроссворд. 1. Журавль. 2. Гранат. 3. Ереван. 4. Мрамор. 5. Форель. 6. Скорпион.
- С. 105. № 9. Аракс. Севан. Бук. Кабан. Ереван.
- С. 105—106. № 10. Кроссворд. **По горизонтали:** 2. Армяне. 4. Туф. 5. Аракс. **По вертикали:** 1. Ереван. 2. Арагац. 3. Нефть.
- С. 106. № 5. Стамбул.
- С. 108—109. № 11. Кроссворд. 1. Чёрное. 2. Азия. 3. Алания. 4. Анталья. 5. Чай. 6. Турция. 7. Землетрясения. 8. Стамбул. 9. София. 10. Анкара. 11. Ислам. 12. Босфор. 13. Уголь.
- С. 110. № 4. Кроссворд. 1. Мечеть. 2. Евфрат. 3. Август. 4. Побережье. 5. Тропический. 6. Горы. 7. Нефть. 8. Багдад. 9. Камыш. 10. Тигр. 11. Аравия. **Месопотамия.**
- С. 111. № 6. Ирак. Багдад. Тигр. Евфрат. Арабы.
- С. 111—112. № 7. Серебро. Нефть. Газ. Уран. Сера.
- С. 112. № 2. Персия.
- С. 113. № 7. Персы. Курды. Арабы. Туркмены. Азербайджанцы.
- С. 114. № 8. В мире популярны персидские ковры.
- С. 114. № 9. Кроссворд. 1. Мусульмане. 2. Чадра. 3. Чай. 4. Тегеран. 5. Финики. 6. Персидский. 7. Ковёр. 8. Персы. 9. Иран. 10. Нефть.
- С. 116. № 6. Кроссворд. **По горизонтали:** 1. Пуштуны. 5. Афганистан. 7. Каракуль. **По вертикали:** 1. Пустыня. 2. Нагорье. 3. Кабул. 4. Кандагар. 6. Намаз.
- С. 119. № 3. Кроссворд. 1. Индийский. 2. Индия. 3. Индостан. 4. Индийцы. 5. Инд.
- С. 119—120. № 4. Гималаи.
- С. 120—121. № 5. Индия. Ганг. Слоны. Дели. Кобра. Тигр. Корова. Носорог.
- С. 122—123. № 9. Кроссворд. 1. Пантера. 2. Кобра. 3. Буйвол. 4. Слоны. 5. Крокодил. 6. Носорог. **Павлин.**
- С. 123. № 10. Крокодил. Обезьяна. Носорог. Буйвол. Павлин. Кобра. Питон. Тигр. Слоны.
- С. 124. № 11. Нью-Дели. Калькутта. Мумбаи.
- С. 124—125. № 13. Кроссворд. 1. Лотос. 2. Павлин. 3. Сандал. 4. Животные. 5. Нью-Дели. 6. Мрамор. 7. Сари. 8. Хинди. 9. Чай. 10. Лев. **Тадж-Махал.**
- С. 127—128. № 5. Китай. Пекин.
- С. 128—129. № 8. Хуанхэ. Янцзы.
- С. 129—130. № 12. Пекин. Индокитай. Китай. Лаос. Панда. Бамбук.
- С. 130—131. № 13. Кроссворд. 1. Резиденция. 2. Янцзы. 3. Бамбук. 4. Пшеница. 5. Китайский. 6. Иероглифы. 7. Император. 8. Китай. 9. Чай. 10. Стена. 11. Барс. 12. Хань. 13. Шанхай. 14. Утки. 15. Гоби.
- С. 132. № 6. Скотоводство.
- С. 132. № 7. Молоко. Мясо. Сыр. Шерсть. Войлок.
- С. 133. № 8. Юрта. Лошади. Монголы. Кумыс.

- С. 133—134. № 10. Кроссворд. 1. Ку-
мыс. 2. Скотоводство. 3. Улан-Батор.
4. Монголы. 5. Лошадь. 6. Верблю-
ды. 7. Молибден. 8. Буряты. Мон-
голия.
- С. 137—138. № 7. Кроссворд. 1. Сеул.
2. Женьшень. 3. Крабы. 4. Пряно-
сти. 5. Самсунг. 6. Уголь. 7. Юж-
ная. 8. Рис. 9. Пхеньян. 10. Сосна.
11. Мандаринка.
- С. 139. № 3. Япония. Токио. Сакура.
- С. 140. № 6. Икебана.
- С. 140. № 9. Японский журавль.
- С. 141. № 10. Садоводство. Рыболов-
ство.
- С. 142. № 12. Дзюдо. Карате. Айкидо.
Сумо.
- С. 142. № 14. Кроссворд. 1. Кимоно.
2. Сакура. 3. Фудзияма. 4. Токио.
5. Саппоро. 6. Осака. 7. Сони.
8. Рис.
- С. 145—146. № 5. 1. Индокитай. 2. Банг-
кок. 3. Равнины. 4. Тайцы.
- С. 146. № 8. Слон. Обезьяна. Черепа-
ха. Тигр.
- С. 147. № 9. Крокодил.
- С. 147—148. № 12. Кроссворд. По гори-
зонтали: 3. Слон. 4. Меконг. 6. Янг.
7. Крокодил. По вертикали: 1. Лео-
пард. 2. Ананас. 3. Сиам. 5. Лодка.
- С. 149—150. № 7. Анис. Кардамон.
Женьшень.
- С. 152. № 7. Цунами. Извержение вул-
кана. Землетрясение.
- С. 152—153. № 8. Индонезия. Джакар-
та. Суматра. Ява. Турист.
- С. 153. № 9. Кроссворд. 1. Вулкан.
2. Камни. 3. Джакарта. 4. Калиман-
тан. 5. Ява. 6. Храм. 7. Бали.
- С. 160. № 7. Якутск. Владивосток. Бар-
наул.
- С. 161. № 8. Кроссворд. 1. Грузия.
2. Украина. 3. Белоруссия. 4. Нор-
вегия. 5. Азербайджан. 6. Латвия.
7. КНДР. 8. Монголия. 9. Казах-
стан. 10. Эстония. 11. Финляндия.
12. Китай.
- С. 161. № 9. Кроссворд. 1. Белое.
2. Берингово. 3. Японское. 4. Бар-
ренцево. 5. Чёрное. 6. Карское.
7. Охотское. 8. Каспийское. 9. Бал-
тийское.

СОДЕРЖАНИЕ

Политическая карта Евразии	3
ЕВРОПА	
Западная Европа	6
Великобритания	—
Франция (Французская Республика)	9
Германия (Федеративная Республика Германия)	12
Австрия (Австрийская Республика)	14
Швейцария (Швейцарская Конфедерация)	15
Южная Европа	20
Испания (Королевство Испания)	22
Португалия (Португальская Республика)	25
Италия (Итальянская Республика)	26
Греция (Греческая Республика)	29
Северная Европа	31
Норвегия (Королевство Норвегия)	34
Швеция (Королевство Швеция)	36
Финляндия (Финляндская Республика)	38
Восточная Европа	41
Польша (Республика Польша)	44
Чехия (Чешская Республика)	46
Словакия (Словацкая Республика)	47
Венгрия	48
Румыния	50
Болгария (Республика Болгария)	51
Сербия (Республика Сербия). Черногория	53
Страны Балтии	55
Эстония (Эстонская Республика)	56
Латвия (Латвийская Республика)	60
Литва (Литовская Республика)	62
Белоруссия (Республика Белоруссия)	64
Украина	68
Молдавия (Республика Молдова)	71
АЗИЯ	
Центральная Азия	76
Казахстан (Республика Казахстан)	78
Узбекистан (Республика Узбекистан)	81
Туркменистан (Туркмения)	84
Киргизия (Киргизская Республика)	87
Таджикистан (Республика Таджикистан)	90
Юго-Западная Азия	94
Грузия	96
Азербайджан (Азербайджанская Республика)	99

Армения (Республика Армения)	103
Турция (Турецкая Республика)	106
Ирак (Республика Ирак)	109
Иран (Исламская Республика Иран)	112
Афганистан (Исламская Республика Афганистан)	115
Южная Азия	117
Индия (Республика Индия)	119
Восточная Азия	125
Китай (Китайская Народная Республика)	127
Монголия	131
Корейская Народно-Демократическая Республика (КНДР)	
Республика Корея	134
Япония	138
Юго-Восточная Азия	143
Таиланд (Королевство Таиланд)	145
Вьетнам (Социалистическая Республика Вьетнам)	148
Индонезия (Республика Индонезия)	150
Евразия (Обобщающий урок)	154
РОССИЯ (Повторение)	159
Свой край	162
Ответы на кроссворды, загадки, ребусы, задания	163

Учебное издание

ЛИФАНОВА Тамара Михайловна

ГЕОГРАФИЯ

Рабочая тетрадь

9 класс

Учебное пособие для общеобразовательных организаций,
реализующих адаптированные основные
общеобразовательные программы

Руководитель Центра специальных форм образования *С. В. Сацевич*
Зам. руководителя по редакционно-издательской работе *М. А. Зыкова*
Зав. редакцией литературы по коррекционной педагогике *О. А. Бондарчук*
Редактор *Г. В. Колесникова*
Ответственный за выпуск *М. А. Попова*
Художники *Э. В. Ленчевская, Г. А. Мацьгун, А. Г. Воробьёв*
Художественный редактор *С. И. Ситников*
Редактор карт *Е. А. Карташова*
Техническое редактирование и компьютерная вёрстка *М. Е. Гембацкой,*
Н. А. Разворотневой
Корректоры *М. Г. Волкова, О. В. Крупенко*

Налоговая льгота — Общероссийский классификатор продукции ОК 005-93—953000. Изд. лиц.
Серия ИД № 05824 от 12.09.01. Подписано в печать 20.09.18. Формат 84×108¹/₁₆. Бумага
офсетная. Гарнитура SchoolBookCSanPin. Печать цифровая. Уч.-изд. л. 9,16. Тираж 200 экз.
Заказ № 53354СМ.

Акционерное общество «Издательство «Просвещение». Российская Федерация, 127473, г. Москва,
ул. Краснопролетарская, д. 16, стр. 3, этаж 4, помещение 1.

Отпечатано в России.

Отпечатано по заказу АО «ПолиграфТрейд» в филиале «Смоленский полиграфический комбинат»
ОАО «Издательство «Высшая школа». 214020, г. Смоленск, ул. Смольянинова, 1.
Тел.: +7(4812) 31-11-96. Факс: +7(4812) 31-31-70. E-mail: spk@smolpk.ru <http://www.smolpk.ru>

В состав учебно-методического комплекта «География» для 9 класса входят:

- Рабочая программа. 6–9 классы (размещена на сайте)
- Учебник (авторы Т. М. Лифанова, Е. Н. Соломина)
- **Рабочая тетрадь** (автор Т. М. Лифанова)
- Методические рекомендации. 6–9 классы (размещены на сайте)

Рабочая тетрадь сопровождает и дополняет материал учебника по географии для 9 класса и предназначена для индивидуальной работы обучающегося в школе и дома. Выполнение иллюстрированных заданий, географические и контурные карты, таблицы, занимательные задания (ребусы, кроссворды, загадки) помогут развить у школьника заинтересованное отношение к географии и сформировать географические представления.

Выполняя задания в рабочей тетради, школьник закрепит знания о странах Европы и Азии, которые изучают в 9 классе, их географическом положении, рельефе, климате, водоёмах, разнообразии растительного и животного мира, природных условиях, полезных ископаемых, населении, столицах и крупных городах. Школьник потренируется в нахождении этих стран на политической карте мира, сможет обвести их границы на контурной карте, вспомнит названия гор, плоскогорий, равнин, островов, полуостровов, рек, морей и океанов, каждой страны на материке Евразия.

Усвоенные знания расширят кругозор обучающегося, а приобретённые навыки пригодятся ему в жизни: он сможет написать интересную статью в школьную газету, правильно читать географическую карту и ориентироваться в ней.

Полный ассортимент продукции издательства «Просвещение» вы можете приобрести в официальном интернет-магазине **shop.prosv.ru**:

- низкие цены;
- оперативная доставка по всей России;
- защита от подделок;
- привилегии постоянным покупателям;
- разнообразные акции в течение всего года.

